


一年級

姓名：_____

一、依照順序填數字：14%



二、數一數，畫○寫數字。16%

		4

三、把合起來是10的數連起來。10%

5	3	2	10	6
•	•	•	•	•
•	•	•	•	•
0	7	5	8	4

四、只有平平的面在()裡打√；
只有彎彎的面在()裡畫○；
有平平的面，也有彎彎的面在()裡畫△。5%

1. ()	2. ()	3. ()
4. ()	5. ()	

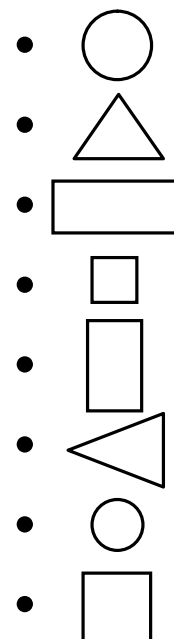
五、連連看。8%

三角形

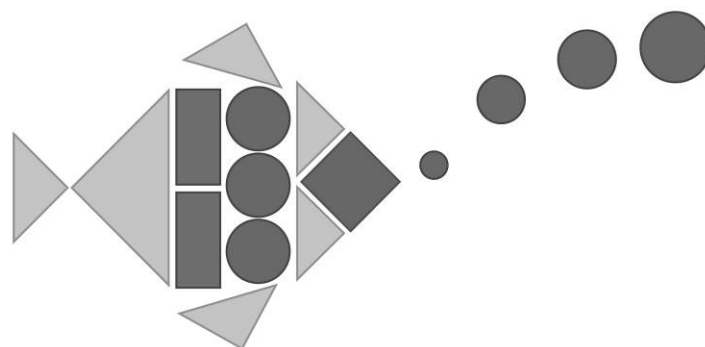
長方形

圓形

正方形



六、看圖數數看，再填一填。12%



- 圓形有()個
- 長方形有()個
- 正方形有()個
- 三角形有()個
- 三角形和正方形共有()個
- 圓形比長方形多()個


七、從長到短依序填入1、2、3、4。4%

()	
()	
()	
()	


後面還有題目喔，請翻面繼續作答！

八、依照提示圖圖看：10%

1. 從右邊算起，第6隻小狗。




2. 將3隻兔子圈起來。



3. 從左邊算起，第4隻小貓。





4.




① ( 、 ) 排在第4個。

② ( 、 ) 排在第6個。


③  排在  的 (前 / 後) 面。

5.

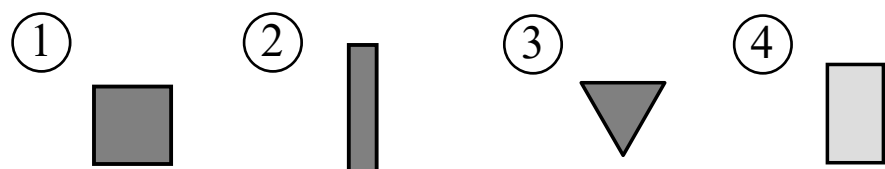
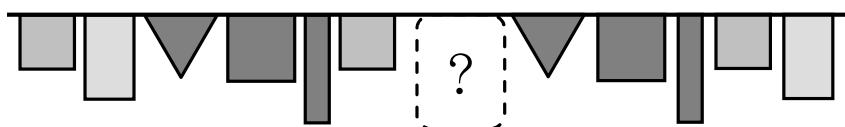


① 女孩用 (左 / 右) 手拿花。

② 男孩把 (左 / 右) 腳抬高。


6.  這是 (左 / 右) 手。

7. 按照規律，空格裡的旗子是哪一個圖形？




九、比一比，比較多多的打√。4%

1.




2.

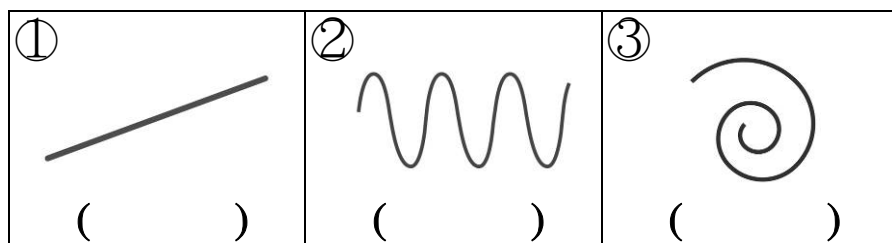


九、看圖回答問題。5%

1. 最高的打√，最矮的打X。



2. 是直線的畫○，是曲線的打X。



十、畫○做做看：12%

1. 小祥吃了8顆水餃，小佑吃了10顆水餃，誰吃的水餃比較多？

() 吃的多

2. 公主左手拿著6朵花，右手拿著2朵花，公主一共拿著幾朵花？

() 朵花

3. 1枝蠟燭代表1歲，堯堯過生日，蛋糕上有5枝紅蠟燭和4枝黃蠟燭，堯堯今年幾歲？

() 歲

4. 誠誠有7顆彈珠，送給弟弟3顆後，誠誠還剩下幾顆彈珠？

() 顆

寫完記得要檢查喔！