

澎湖縣白沙鄉赤崁國小一〇五學年度第一學期四年級數學期中考試卷

範圍：第一～五單元

座號：_____ 姓名：_____ 得分：_____

一、用直式算算看：(每題3分，共18分)

(1) $82 \times 28 =$ (2) $306 \times 25 =$

(3) $65 \times 509 =$ (4) $4890 \div 6 =$

(5) $365 \div 50 =$ (6) $936 \div 35 =$

二、填填看：(每格2分，共26分)

(1) 2個萬、2個百和15個十合起來是()。

(2) 澎湖縣在105年9月時統計人口數為102880人，讀作()。

(3) 用0、2、4、6、8、9排成的六位數中，最大的數是()，最小的數是()。

(4) 下列每一個數中的「5」分別表示多少？

① 5369300 → ()

② 47056830 → ()

(5) ① $9 \times 18 =$ ()

② $90 \times 18 =$ ()

③ $900 \times 18 =$ ()

(6) 老師有360顆糖果。

① 如果平分給12個小朋友，每人可得()顆。

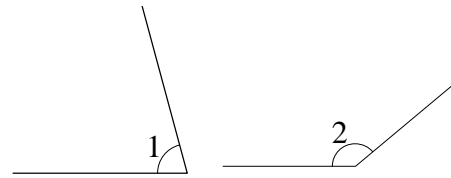
② 如果平分給個36小朋友，每人可得()顆。

(7) 鐘面上的指針從刻度3往順時針方向轉到刻度6，是轉了()度。

(8) 將吸管的一端放在量角器的中心點邊對齊右邊的0度線，先往逆時針方向旋轉165度，再往順時針方向旋轉80度，吸管會指在內圈多少度？()度

三、看圖回答問題：(每格2分，共22分)

(1) 用量角器量量看。



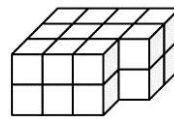
① $\angle 1 =$ () 度

② $\angle 2 =$ () 度

③ $\angle 1$ 和 $\angle 2$ 哪一個角比較大？()

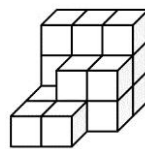
(2) 一個 是1立方公分，下面這些造型各用了幾個 ，體積是多少立方公分？

①



用了()個 ，是()立方公分。

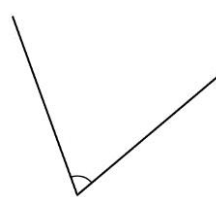
②



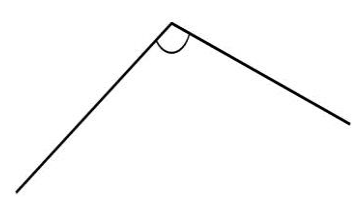
用了()個 ，是()立方公分。

(3) 量量看，是銳角的打√，是直角的畫○，是鈍角的打×。

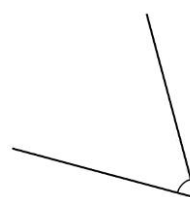
①



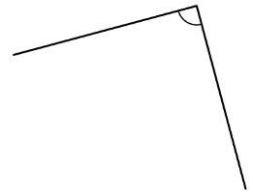
②



③



④



背面還有題目，加油！



四、比比看，在□裡填入 $>$ 、 $<$ 或 $=$ ：(每題2分，共6分)

(1) $294 ? 4500$ □ 29395600

(2) 990000 □ 10000001

(3) 60×302 □ 59×302

五、應用題：(每題4分，共28分)

1. 媽媽每個月繳保險費1085元，半年共要繳多少元？

2. 一包黃豆重90公克，275包黃豆共重多少公克？

3. 流浪動物之家募集基金，預計募集60萬元，目前已募得45萬元，還差多少元就可以達成目標？

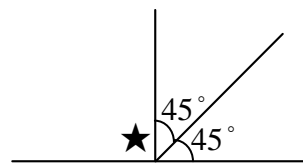
4. 麵包店今天要烤750個鮮奶麵包，一個烤盤裝18個，一共要幾個烤盤才夠

5. 有645個迴紋針，每50個裝一盒。最多可以裝幾盒？還剩下幾個？[算算看，並驗算]

驗算：

6. 村長買了300顆茶葉蛋，吃掉12顆後，其餘要平分給20戶鄰居，每戶可以分到幾顆？還剩下幾顆？

7. 圖中做上★記號的角是幾度？[請列出算式]



恭喜你完成，請再仔細檢查!

