
























澎湖縣白沙鄉赤崁國小 105學年度下學期 資源班 二年級數學期末評量

___年 ___班 座號：___ 姓名：_____

※看圖拿錢幣算算看【每題 8 分，共 40 分】

商品					
價格	15 元	22 元	20 元	27 元	13 元
 () + () = ()					
 () + () = ()					
 () + () = ()					
 () + () = ()					
 () + () = ()					

※看圖用算式算算看【每題5分，共20分】

商品					
價格	25 元	20 元	33 元	34 元	41 元
  () + () = () <div style="text-align: right; margin-right: 100px;">+</div> <hr style="width: 100px; margin-left: auto; margin-right: 0;"/>			十位	個位	
  () + () = () <div style="text-align: right; margin-right: 100px;">+</div> <hr style="width: 100px; margin-left: auto; margin-right: 0;"/>			十位	個位	
  () + () = () <div style="text-align: right; margin-right: 100px;">+</div> <hr style="width: 100px; margin-left: auto; margin-right: 0;"/>			十位	個位	
  () + () = () <div style="text-align: right; margin-right: 100px;">+</div> <hr style="width: 100px; margin-left: auto; margin-right: 0;"/>			十位	個位	

※直式算算看【每題5分，共40分】

	十位	個位		十位	個位
	1	5		2	3
+		4		1	6
<hr/>			<hr/>		
	十位	個位		十位	個位
	3	0		4	6
+	2	7		5	0
<hr/>			<hr/>		
	十位	個位		十位	個位
	5	1		6	7
+	1	8		2	2
<hr/>			<hr/>		
	十位	個位		十位	個位
	7	4		8	2
+	2	5		1	6
<hr/>			<hr/>		



~ 做完了!好棒!請記得檢查一下唷! ~