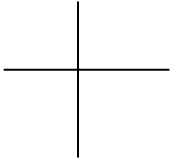


澎湖縣白沙鄉赤崁國小 105學年度下學期 資源班 四年級數學期末評量


___年 ___班 座號：___ 姓名：_____

※看題目回答問題【每格 2 分，共 50 分】

① 看圖圈圈看

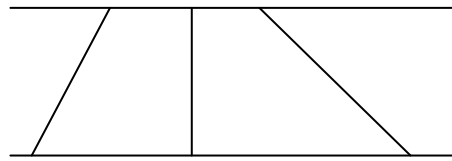


(垂直、平行)



(垂直、平行)

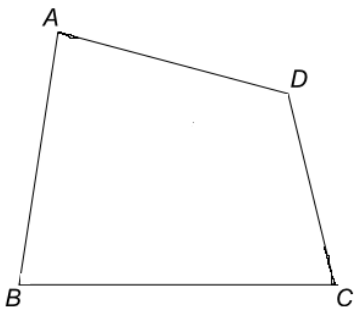
② 哪一條線段最短？



1 2 3

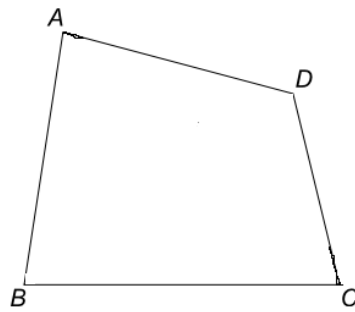
最短的是 ()

③ 共用頂點的兩條邊，叫作鄰邊。



共用頂點 A
的兩條邊是 () 和 ()
是鄰邊。

④ 相對的兩個角，叫作對角。

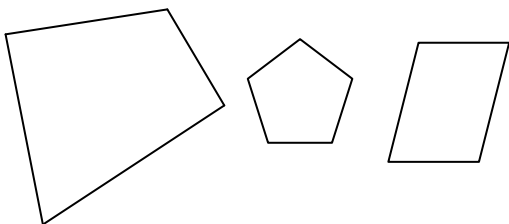


$\angle B$ 的對角是 \angle ()。
 $\angle C$ 的對角是 \angle ()。

⑤ 平行四邊形：

- 2 雙對邊分別互相平行
- 2 雙對邊分別等長
- 2 雙對角分別相等

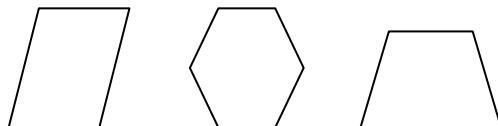
哪一個是平行四邊形？



⑥ 梯形：

只有一雙對邊分別互相平行

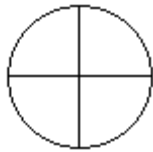
哪一個是梯形？



⑦ 畫圖做做看。

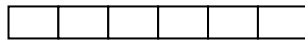

() 個 $\frac{1}{4}$ 合起來是 ()，也是 1。

$$\frac{(\quad)}{4} = 1$$



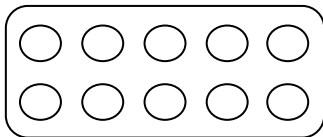
⑧ 看圖做做看。

$$\frac{(1)}{3} = \frac{(\quad)}{6}$$



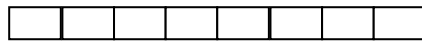
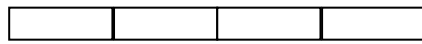
⑨ 畫圖填填看。

$$\frac{(3)}{5} = \frac{(\quad)}{10}$$



⑩ 畫圖比大小。

$$\frac{3}{4} (\quad) \frac{3}{8}$$

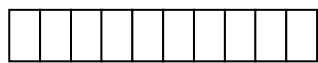


⑪ 用小數表示。

$$\frac{(2)}{10} \text{ 是 } (\quad) \text{ 個 } \frac{1}{10}$$

$$\frac{1}{10} = 0.1$$

$$\frac{2}{10} = (\quad)$$




⑫ 用小數表示。

$$\frac{(5)}{100} \text{ 是 } (\quad) \text{ 個 } \frac{1}{100}$$

$$\frac{1}{100} = 0.01$$

$$\frac{5}{100} = (\quad)$$



⑬ 用分數表示。

0.6 是 () 個 0.1

$$0.1 = \frac{1}{10}$$

0.6 是 () 個 $\frac{1}{10}$

合起來是 ()




⑭ 用分數表示。

0.25 是 () 個 0.01

$$0.01 = \frac{1}{100}$$

0.25 是 () 個 $\frac{1}{100}$

合起來是 ()



※計算題【每題4分，共20分】

① 0.6×7

② 2.5×4

③ 11.8×15

④ 0.09×9

⑤ 2.75×24

※應用問題【每題 5 分，共 30 分】讀一讀→圈出重要的字→畫圖→列式

① 做一杯鮮奶茶需要 0.3 公升的紅茶，

做 5 杯奶茶，
需要幾公升的紅茶？

② 一顆西瓜重 1.48 公斤，

25 顆共重幾公斤？

③ 阿宏買 3 大瓶醬油和

1 小瓶醬油，
一共買了幾公升的醬油？



2.75 公升



1.62 公升

④ 空的糖果罐重 0.5 公斤，

裝入一包 0.74 公斤的糖果，
買了 15 罐共重幾公斤？

⑤ 行動電話一分鐘收費 2.05 元，

優惠時段每分鐘便宜 0.7 元，
小宇在優惠時段和媽媽通話 10 分鐘，
電話費幾元？

⑥ 小駱家有兩塊一塊大的地。

用 $\frac{3}{4}$ 塊地種地瓜，

用 $\frac{3}{8}$ 塊地種南瓜，

哪一塊地比較大？

~ 恭喜你!做完了!請記得檢查一下唷! ~