

一年級

姓名：_____

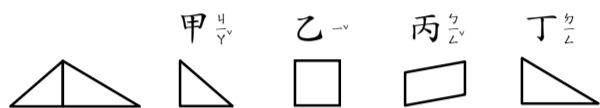
一、對的畫○，錯的畫×：8%

- () 一個星期有7天。
- () 4個三角形可以拼出一個正方形。
- () 一年有12個月，每個月都是30天。
- () 10月的第一天是10月31日。

二、選出正確的答案：8%

- () 在月曆上看不到什麼資料？
 ①天氣 ②星期 ③日期

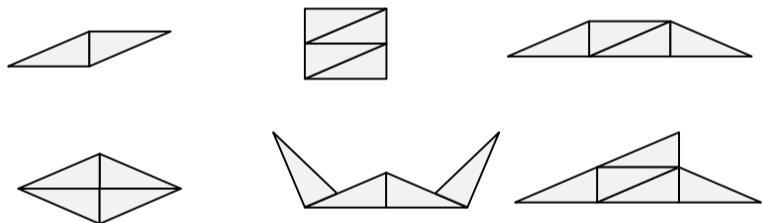
- () 左圖的圖形是哪兩塊板子排出來的？
 ①甲和乙 ②甲和丁 ③乙和丁



- () 如果今天是6月8日星期四，明天是
 ①6月7日星期三 ②6月9日星期四
 ③6月9日星期五

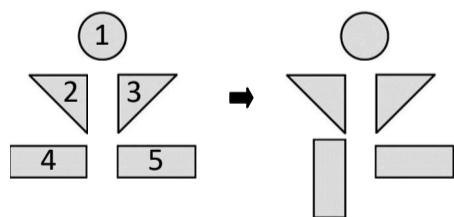
- () 爸爸的生日是7月23日，媽媽的生日是5月2日，小明的生日是3月15日，今年誰最慢過生日？
 ①爸爸 ②媽媽 ③小明

三、用4塊相同的三角板可以拼出哪些圖形？圈出圖看。6%



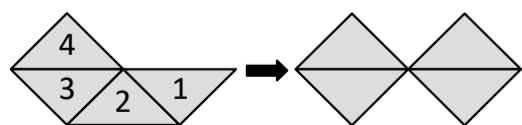
四、看圖回答問題。4%

- 移動哪一塊之後，會變成右邊的造型？



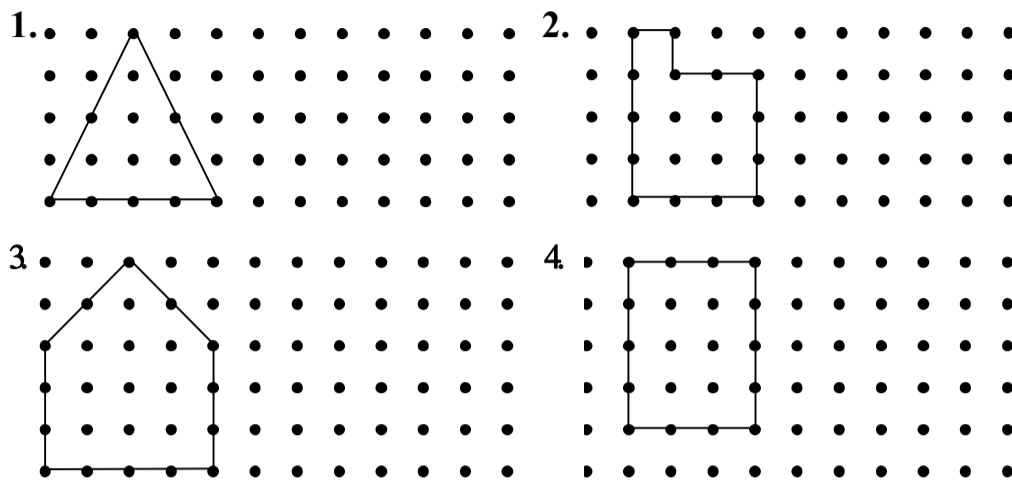
移動的是()號

- 移動哪一塊之後，會變成右邊的造型？



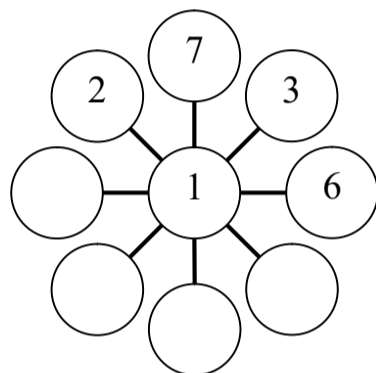
移動的是()號

五、畫出一樣的圖形。8%

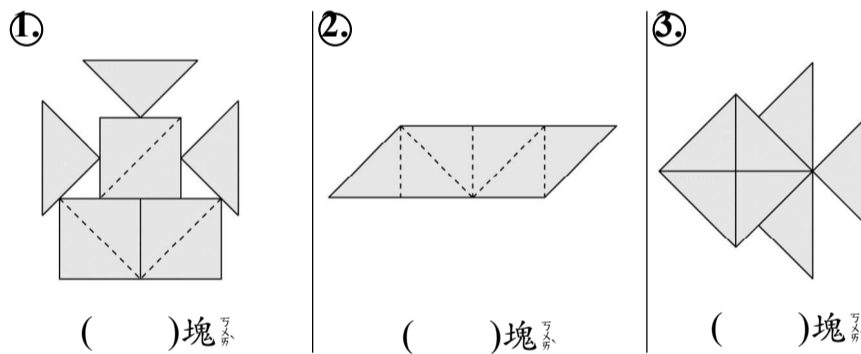


六、填填看。4%

- 想一想，填上1~9的數字，且不能重複，並使每一條直線上的和為12。4%



- 數數看，下面圖形是用幾塊三角板拼成的？6%

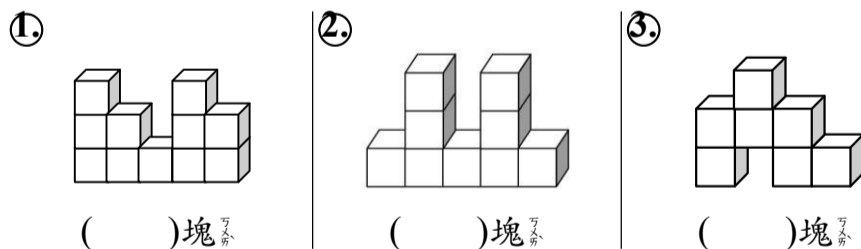


()塊

()塊

()塊

- 數數看，下面圖形是用幾塊小立方體拼成的？6%

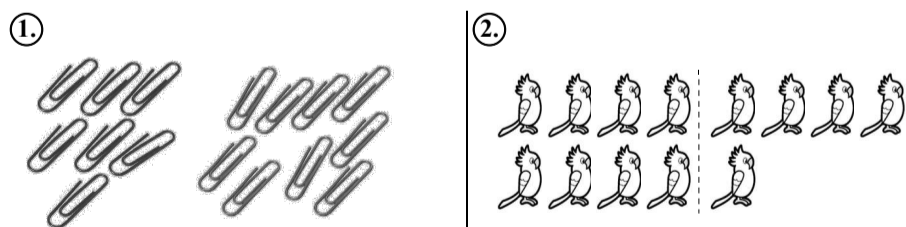


()塊

()塊

()塊

七、看圖算算看。8%



7+9=()

9+7=()

16-7=()

16-9=()

8+5=()

5+8=()

13-8=()

13-5=()

後面還有題目喔，請翻面繼續作答！

八、先完成成月曆再回答問題。16%

5月						
日	一	二	三	四	五	六
		1	2			5
	7	8	9	10	11	12
13	14	15	16		18	19
20	21	22		24	25	
27	28	29		31		

- 5月有()個星期二，有()個星期五。
- 5月共有()天，最後一天是星期()。
- 妹妹生日是5月20日的前一天，是()月()日星期()。
- 5月的第二個星期四是5月()日。
- 爸爸星期六和星期日不用上班，爸爸5月一共共有()天不用上班。

九、寫成直式算算看。6%

1. $36 + 13 = ()$ 2. $6 + 61 = ()$ 3. $23 + 15 = ()$

十、用一個算式記記看。8%

1. 花瓶裡有6朵紅花和5朵黃花，拿走了4朵，還剩下幾朵花？

()朵

2. 有16個蘋果，榨果汁用掉9個後，媽媽又買了5個，現在一共有幾個蘋果？

()個

3. 小華排隊買票，小華這一排有14個人，排在小華後面有5個人，排在小華前面有幾個人？

()人

4. 公園裡有8個男孩、7個女孩和2個大人，公園裡一共共有多少個人？

()人

十一、算算看，再用直式記下來。12%

1. 停車場裡有28輛汽車，機車比汽車多6輛，停車場裡有幾輛機車？

直式：

算式：_____

()輛

2. 老師買了32杯蘋果汁和14杯檸檬汁，老師一共買了幾杯果汁？

直式：

算式：_____

()杯

3. 一本故事書有45頁，姐姐看了33頁，還剩下幾頁沒有看完？

直式：

算式：_____

()頁

4. 早餐店今天賣出37杯豆漿和7杯奶茶，豆漿比奶茶多賣出幾杯？

直式：

算式：_____

()杯

寫完記得要檢查喔！