


一年級 姓名：_____ 得分：_____

家長簽名：_____

一、依照順序填數字：8%



二、數一數，多畫的畫，不夠的畫

○ 補上去。16%

1.	7	
2.	5	
3.	10	
4.	4	
5.	8	
6.	9	
7.	6	
8.	3	

三、數一數，填填看看，把合起來

是10的連起來。14%

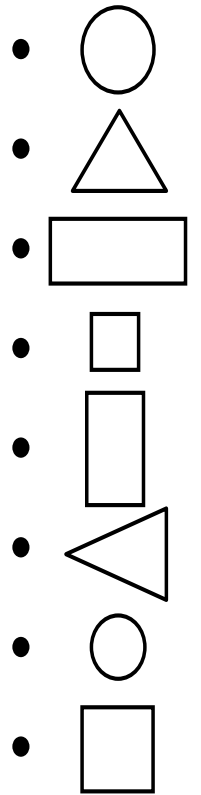
四、連連看。8%

三角形

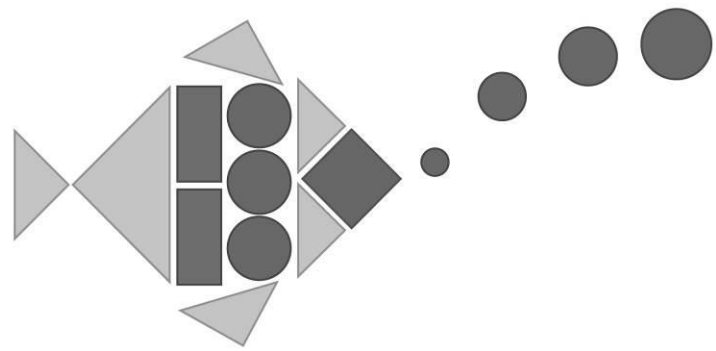
長方形

圓形

正方形



五、看圖數數看，再填一填。8%



- 圓形有 () 個
- 長方形有 () 個
- 正方形有 () 個
- 三角形有 () 個

六、從長到短依序填入1、2、3、4。4%

()

()


()

()


背面還有題目喔!

七、依照提示看圖看：22%


1. 從右邊算起，第6隻小狗。



2. 從右邊算起，前面3隻兔子。

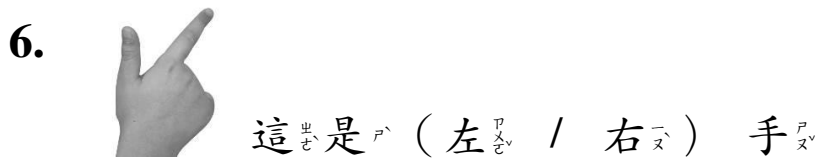


3. 從左邊算起，第4隻小貓。

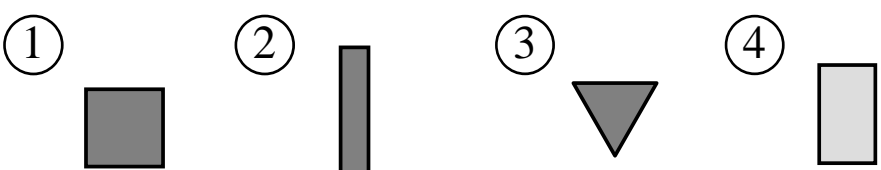
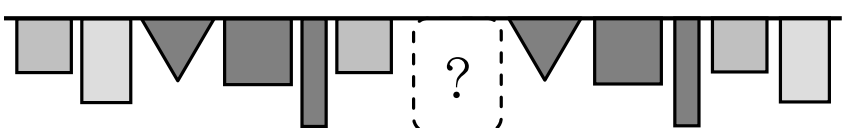


4. (1) 排在從左邊數起第()隻，從右邊數起第()隻。



(2) 排在從左邊數起第()隻，牠的後面有()隻動物。



7. 按照規律，空格裡的旗子是哪一個圖形？()

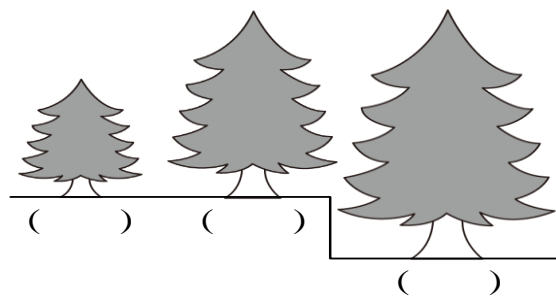


八、比一比，比較多多的打√。4%




九、看圖回答問題。7%

1. 最高的打√，最矮的打×。



2. 下列物品中，特別粗的線是直線的打√，是曲線的畫○。



十、畫○做做看：9%

1. 有9個蛋塔，吃掉3個，還剩下幾個？

() 個

2. 桌上有2顆紅球和6顆綠球，合起來共有幾顆球？

() 顆

3. 把8頂帽子分給6個小朋友，一人1頂，帽子夠不夠？

()