

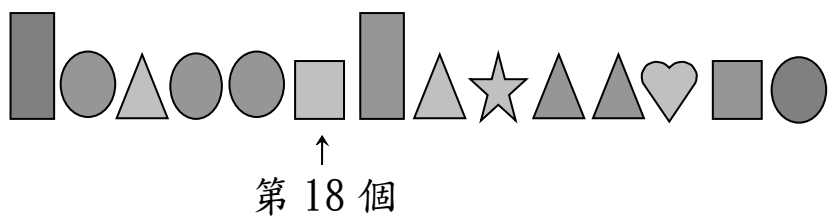
一年級 姓名：_____ 得分：_____

家長簽名：_____

一、依照順序填數字：12%

- 12 — — 14 — — — 17
- — 18 — 17 — — 15
- 25 — — — 28 — 29 —
- 29 — — 27 — 26 —

二、看圖回答問題：6%



1. 第13個圖形是()形。
2. 心形排在第()個，它的前面是第()個，後面是第()個。
3. 五角星排在第()個，它的後面有()個圖形。

三、看表回答問題：18%

正方形	正正	()個
三角形	正正下	()個
圓形	正正	()個
長方形	正正	()個

1. 每種圖形各有幾個？記記看
2. 表格中共有()種圖形
3. 最多的圖形是()形，最少的圖形是()形，相差()個。
4. 正方形和圓形共有()個

四、算算看看：12%

1. $4+3=()$ 2. $9-5=()$
3. $6+3=()$ 4. $8-5=()$
5. $7+2=()$ 6. $6+2=()$
7. $10+0=()$ 8. $7-7=()$
9. $10-2=()$ 10. $10-7=()$
11. $()+4=10$ 12. $1+()=10$

五、填填看看：10%

1.



長針指向()，短針指向()，是()點鐘。

1小時以前是()點鐘，1小時以後是()點鐘。

2.

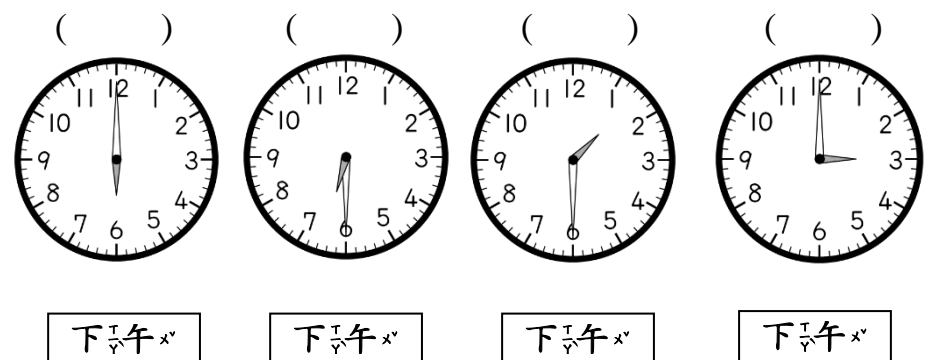
短針指向()和()



中間，長針指向()，是()點半。

長針再走半圈是()點鐘。

六、按順序寫上1、2、3、4：4%



背面還有題目喔！

七、連連看。 6%

比 23 小

比 23 大

比 28 大

21


19

24

27

29

八、把小朋友分成兩組，可以怎麼分？ 8%



()	() 人
()	() 人

九、把算式和答案記下來。 24%

1. 一張貼紙賣 4 元，買兩張貼紙要付幾元？

() 元

2. 冰箱裡有 9 個雞蛋，媽媽做菜用掉 3 個，還剩下幾個？

() 個

3. 池塘裡有 10 隻青蛙，後來又跳來 5 隻，池塘裡一共有幾隻青蛙？

() 隻

4. 森林裡有 8 棵松樹，砍倒了 5 棵，還剩下幾棵松樹？

() 棵

5. 哥哥有 9 元，弟弟有 5 元，哥哥比弟弟多幾元？

() 元

6. 弟弟有 10 顆糖果，妹妹有 2 顆糖果，誰的糖果比較少？少幾顆？

() 比較少，少 () 顆

7. 姐姐買了 6 張紅色紙和 4 張黃色紙，姐姐一共買了幾張色紙？

() 張

8. 操場上有 8 個男生，女生比男生多 4 個，女生有多少人？

() 人

寫完記得檢查喔！