

澎湖縣白沙鄉赤崁國小一〇七學年度第一學期數學領域期中評量試卷

二年級 姓名：_____ 得分：_____ 家長簽名：_____

一、按照順序填填看看。 12%

- 174———177—
—179——181——
- 95—100———
- 130———124—122—


二、把數字由大到小排第一排。 8%

- 198 189 186 168
() > () > () > ()
- 121 111 101 110
() > () > () > ()

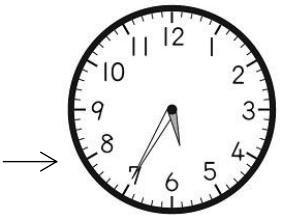
三、填填看看。 16%

- 108讀作()；190讀作()。
- 帆船已經存了160元，再存5元，就有()元；再存20元，就有()元。
- 102的個位數字是()，十位數字是()。
- 147是由()個百、()個十和()個一合起來的。
- 1個百和23個一，合起來是()，讀作()。
- 淳淳和小欣各拿一條繩子量黑板的長，淳淳量了10次，小欣量了8次，誰拿的繩子比較長？()。
- 現在是5點30分；再經過1小時，是()點()分。

- 現在是6:35，再過4小時，是幾點幾分？請你在右邊的鐘面上畫出時針和分針來表示。









- 小媚寫功課，花了()分鐘。



開始

結束

四、寫出正確的時刻。 12%

- | | | |
|--|--|--|
| 1. 
()點
()分 | 2. 
()點
()分 | 3. 
()點
()分 |
| 4. 
()點
()分 | 5. 
()點
()分 | 6. 
()點
()分 |

五、用直式算算看看。 8%

- | | |
|----------------|----------------|
| 1. $6+78=()$ | 2. $57+45=()$ |
| 3. $61-49=()$ | 4. $76-18=()$ |

背面還有題目喔！

六、以「•」為起點，用尺畫出指定長度的直線。4%

1. 4公分

•

2. 比6公分長，但是比7公分短

•

七、用直式計算並寫出答案。40%

1. 小緯家的店裡原來有29位客人，又進來12位客人，現在一共有幾位客人？

()位

2. 小欣買了46個茶葉蛋，分給參加活動的61個小朋友一人一個，還不夠幾個？

()個

3. 瑄瑄把一條26公分的藍絲帶和一條17公分的紅絲帶接在一起，一共有多長？

()公分

4. 睿睿把一條66公分長的繩子剪成兩段，一段長39公分，另一段長幾公分？

()公分

5. 爺爺今年82歲，爸爸比爺爺小35歲，爸爸今年幾歲？

()歲

6. 今天的溫度是33度，氣象報告說明天會下降8度，明天的氣溫會是幾度？

()度

7. 停車場原本停了85輛車，後來有26輛車開走了，現在停車場有幾輛車？

()輛

8. 小銘有42顆彈珠，希希有66顆，希希的彈珠比小銘多幾顆？

()顆

9. 一本筆記本賣48元，帆帆買了2本，一共要付幾元？

()元

10. 淳淳有50元，買爆米花用了35元後，還剩下多少錢？

()元

寫完記得檢查喔!