

澎湖縣赤崁國小107學年度第一學期期中學習評量三年級數學科試卷

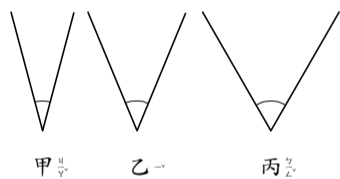
座號：____ 姓名：_____

一、選出正確的答案(每題2分，共22分)：

- () 網站上的到訪人數紀錄為5998人，再多100人，就有多少人？ ①6098人 ②5898人 ③6198人 ④5798人
- () 姐姐有「五千零二十四」元存款，用阿拉伯數字表示是哪一個選項？ ①5024 ②5204 ③5402 ④5420
- () 媽媽在便利商店當收銀員，她正在點數鈔票，10張100元紮成一疊，共有5疊，一共是多少元？ ①2000元 ②3000元 ③4000元 ④5000元
- () 10000往前數100是多少？ ①九千九百九十九 ②九千九百九十 ③九千九百 ④九千
- () 4點鐘和6點鐘的分針與時針夾角，哪一個比較小？ ①4點鐘 ②6點鐘 ③一樣大 ④無法判斷

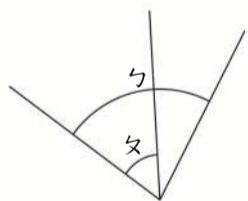


- () 下面哪一個角最大？



- ①甲 ②乙 ③丙 ④一樣大

- () 面哪一個角比較大？

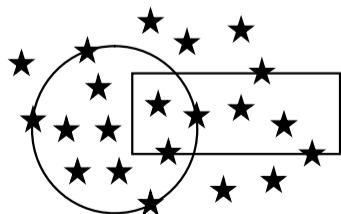


- ① \angle ㄅ ② \angle ㄆ ③一樣大 ④無法判斷

- () 生活中，下列哪些物品有直角？

- ①一張A4的影印紙 ②一張報紙
③一張明信片 ④以上皆是

- () 請觀察下圖回答8~9題。長方形的周界內有幾個★圖案？ ①12個 ②4個 ③3個 ④2個



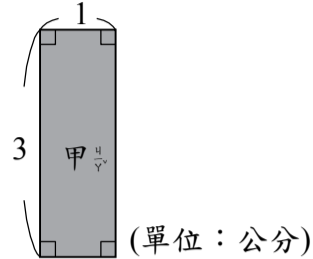
- () 在圓形也在長方形周界內幾個★圖案？ ①4個 ②3個 ③2個 ④1個。

- () 玫美有500元，買了每瓶18元的飲料4瓶後，還剩下多少元？ ①424元 ②478元 ③428元 ④426元

二、寫出正確的答案(每個答案1分，共25分)：

- 「六千零五十九」用阿拉伯數字記成()。
「9010」寫出正確的讀法()。

- 下甲圖是長方形。



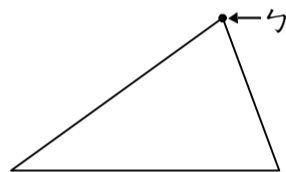
- 甲圖邊長是1公分的有幾條？()條
- 甲圖邊長是3公分的有幾條？()條
- 甲圖有幾個直角？()個

- 寫出指定位置的名稱

ㄅ部位的正確名稱是()。



ㄅ部位的正確名稱是()。



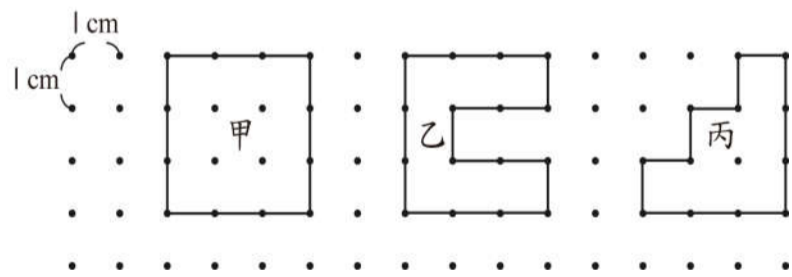
- 定位板上的四位數可能是多少？由大到小寫出。

() > () > () > ()。

千位	百位	十位	個位
9	0	3	?

- 承上題，最大的四位數是()，最小的四位數是()。兩數相差多少？()

- 每格1cm，下面圖形的周長各是幾公分？



甲()公分，乙()公分，丙()公分。

- 8732的個位數字是()，十位數字是()，百位數字是()，千位數字是()。

- 5個千、6個百、3個十和4個一合起來是()。

9. $9 \times 6 = ()$

$90 \times 6 = ()$

$900 \times 6 = ()$

三、用直式算算看(每題3分，共18分)

$4805 - 1497 = (\quad)$ 驗算：	$2755 + 1009 = (\quad)$ 驗算：
$605 \times 7 = (\quad)$	$429 \times 3 = (\quad)$
$300 \times 8 = (\quad)$	$512 \times 9 = (\quad)$

4. 爸爸沿著邊長 16 公尺的正方形花園跑步，跑了 3 圈，他總共跑了幾公尺？

5. 一本故事書 125 元，一次買 5 本以上總金額可以折價 119 元，圖書館買 9 本，需付多少元？

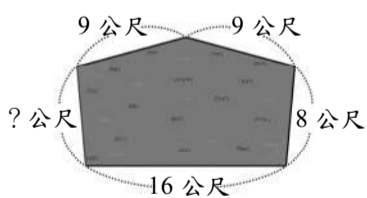
6. 信安國小有男學生 1205 人，女學生比男學生少 217 人，信安國小共有多少學生？

7. 明華和同學共 6 個人一起去郊遊，每人先交 150 元，遊玩花費共用去 813 元，還剩下多少元？

四、寫出做法和答案(每題5分，共35分)

1. 一本生字簿 28 元，一本作業簿也是 28 元，依宣買 3 本生字簿和 4 本作業簿，共要付幾元？

2. 如圖，草地的周長是 50 公尺，「？」有多長？



3. 下面是用邊長 4 公分的正方形圖卡拼成的圖形。它的周長是幾公分？

