

澎湖縣白沙鄉赤崁國小一〇七學年度第一學期四年級數學期中考試卷

範圍：第一～五單元

座號：_____ 姓名：_____ 得分：_____

一、寫出直式算算看：(每題3分，共12分)

(1) $508\text{萬} - 396\text{萬} =$

(2) $123 \times 23 =$ ()

(3) $512 \div 16 =$ ()

(4) $2504 \div 8 =$ () \dots ()

二、填填看：(每格2分，共32分)

(1) 6個千萬、3個千和8個十合起來是()。

(2) 用0、1、3、5、7、9排成的六位數中，最大的數是()，最小的數是()。

(3) 把 $\underline{52463}$ 中的2換成8，會比原來的數增加()。

(4) ① $5 \times 43 =$ ()

② $50 \times 43 =$ ()

③ $500 \times 43 =$ ()

(5) 存錢筒裡有960元。

① 如果平分給16人，每人可以分到()元。

② 如果平分給24人，每人可以分到()元。

(6) 指針從鐘面上的3順時針方向轉到7，是轉了()度。

(7) 有兩個角都是45度、第三個角是90度的三角形，是什麼三角形？()三角形。

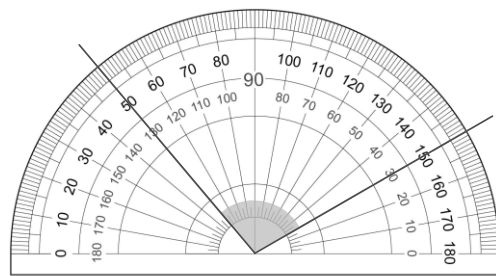
(8) 將吸管的一端放在量角器的中心點，邊對齊右邊的0度線，先往逆時針方向旋轉165度，再往順時針方向旋轉90度，吸管會指在內圈多少度？()度。

(9) $1\square70938 > 1680235$ ， \square 裡可以填入哪些數字？()

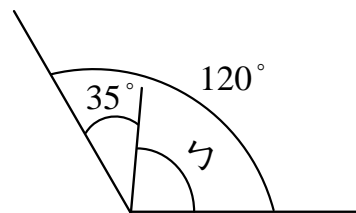
(10) 一個鈍角三角形的3個角，分別是由哪些角組成的？()個銳角、()個直角和()個鈍角。

三、看圖回答問題：(每格2分，共12分)

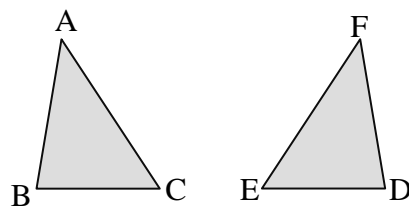
1. 下圖中的角是多少度？()度



2. 下圖的角勺是幾度？()度



3. 下圖是2個全等三角形。

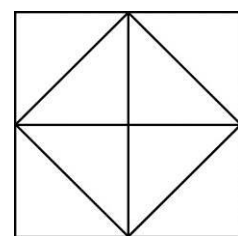


(1) 點C的對應頂點是點()。

(2) $\angle B$ 的對應角是()。

(3) \overline{DF} 的對應邊是()。

4. 下圖中，可以找到幾個三角形？()個三角形



背面還有題目，加油！

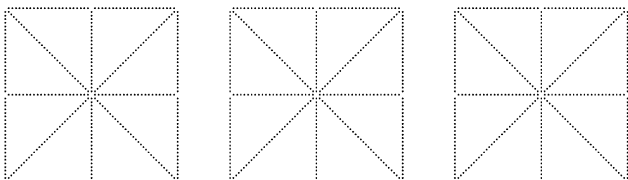


四、畫畫看，做做看：（每題3分，共9分）

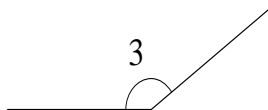
1. 以黑點為角的頂點，黑線為角的一邊，畫出 135 度的角。



2. 在下面的每一個圖中，各畫出一個大小不同的三角形。



3. 畫出一個比 $\angle 3$ 小 50 度的角。



五、應用題：（每題5分，共35分）

1. 李伯伯上期稻米收成125萬公斤，這期稻米比上期少收成67萬公斤，這期稻米收成多少公斤？

2. 一盒蛋卷有6根，陳老闆上個月賣出895盒，一共賣出幾根蛋卷？

3. 一瓶鮮奶158元，果汁店訂購35瓶要付多少元？

4. 把738公升的牛奶平分裝成16桶，每桶是幾公升？還剩下多少公升？

5. 白沙鄉公所舉辦西瓜試吃活動，把每個西瓜切成24片，要分給650人，每人一片，最少要切幾個西瓜才夠？

6. 有一個等腰三角形的周長是98公分，其中底邊長30公分，它的腰是多少公分？

7. 四年甲班舉行同樂會，買比薩花了599元，飲料花了337元。費用由全班9個小朋友平均分擔，每人要出多少元？

恭喜你完成，請再仔細檢查!

