

座號：___ 姓名：_____

一、寫成直式算算看：(每題3分，共18分)

(1) $682 + 518 =$ (2) $2495 + 1277 =$

(3) $534 - 398 =$ (4) $6000 - 5423 =$

(5) $75 \times 6 =$ (6) $258 \times 3 =$

二、填填看：(每格2分，共40分)

1. 7309 是 () 個千、() 個百、() 個十和 () 個一合起來的。

2. 寫出讀法或阿拉伯數字。

(1) 8005 讀作 ()。
 (2) 三千七百五十一 寫作 ()。

3. 按照順序填填看。

(1) $4819 \rightarrow () \rightarrow () \rightarrow 4789 \rightarrow 4779 \rightarrow ()$ 。
 (2) $5629 \rightarrow () \rightarrow 5829 \rightarrow 5929 \rightarrow () \rightarrow () \rightarrow 6229 \rightarrow ()$ 。

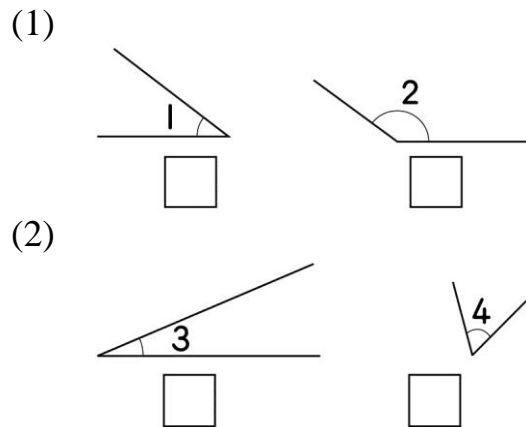
4. 將正確的答案填入 \square 中。

(1)
$$\begin{array}{r} \square 2 0 \\ \times \quad 7 \\ \hline 2 2 4 0 \end{array}$$
 (2)
$$\begin{array}{r} 5 \square 6 \\ \times \quad 9 \\ \hline 4 6 4 4 \end{array}$$

5. 觀察規則，填一填。

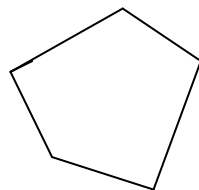
(1) $5 \times 4 = ()$
 (2) $50 \times 4 = ()$
 (3) $500 \times 4 = ()$

6. 哪一個角比較大？在 \square 裡打 \checkmark 。

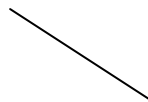


三、畫畫看，做做看：(每題2分，共4分)

1. 拿出三角板比比看，下圖中哪裡有直角？並作上 \perp 記號。

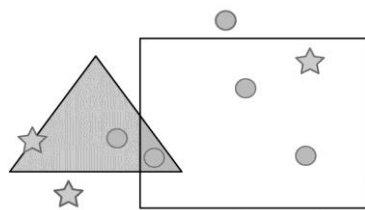


2. 以下圖的線作為角的一邊，畫一個比直角大的角。



四、看看圖回答問題：(每格1分，共10分)

1.

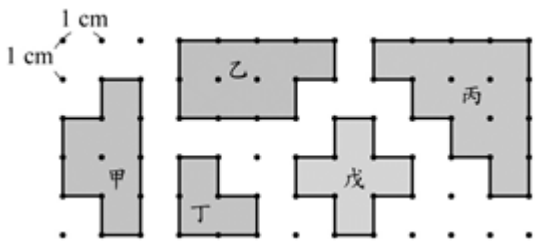


(1) 三角形周界上有 () 個 \star ，內部有 () 個 \bullet ，外部有 () 個 \star 。
 (2) 長方形內部有 () 個 \star ，外部有 () 個 \bullet 。

背面還有題目，加油！



2. 下面圖形的周長各是幾公分？



- (1) 甲圖形的周長是()公分。
- (2) 乙圖形的周長是()公分。
- (3) 丙圖形的周長是()公分。
- (4) 丁圖形的周長是()公分。
- (5) 戊圖形的周長是()公分。

五、應用題：(每題4分，共28分)

1. 快樂國小三年級共有465人，其中男生有273人，女生有多少人？

驗算：

2. 大貨車運送5320顆雞蛋，運送過程中打破了1433顆，還有幾顆沒破？

驗算：

3. 一張電影票250元，媽媽買了8張，要付多少元？

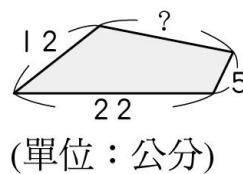
4. 同學們一起搓湯圓。一盤有12顆

湯圓，一桌有3盤，4桌共有多少顆湯圓？

5. 爸爸沿著邊長13公尺的正方形花園跑步，跑了6圈，他共跑了幾公尺？

6. 嘉龍的錢是宥霖的5倍，宥霖的錢是境元的3倍。境元有18元，那麼嘉龍有多少元？

7. 下圖的圖卡周長是54公分，「？」是多少公分？



恭喜你完成這份試卷，請再仔細檢查！

