


一年級 號 姓名：

1 看圖回答问题。(共14分)



1. 數一數有多少？先畫○，再寫數字。(每格1分，共10分)

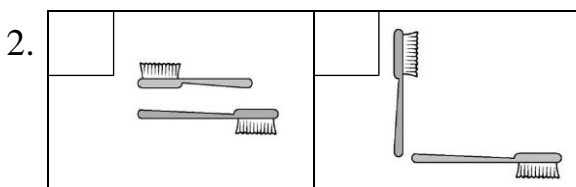
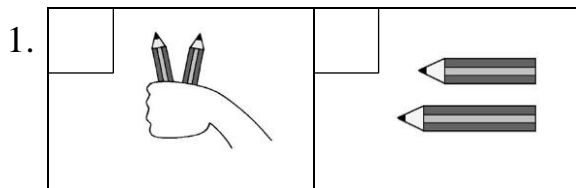
(1)			
(2)			
(3)			
(4)			
(5)			

2. 看圖圈圈看。(每題2分，共4分)

(1) 的上面有 (,)。

(2) 的下面有 (,)。

2 怎麼比長短？在對的□裡打√。(每個答案2分，共4分)



3 從左邊開始數，塗塗看。(每題2分，共8分)

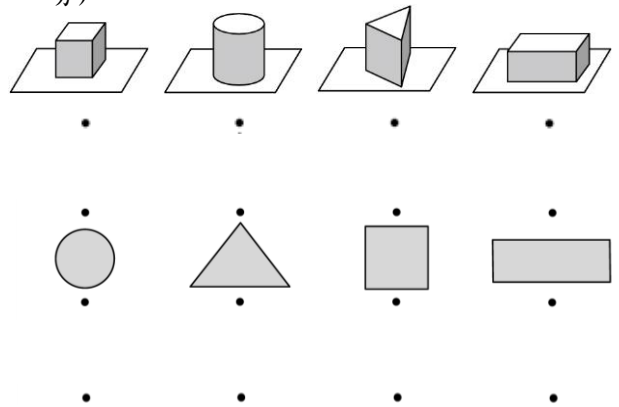
	左	右							
1. 前7個	<input type="checkbox"/>	<input type="checkbox"/>	<input type="checkbox"/>	<input type="checkbox"/>	<input type="checkbox"/>	<input type="checkbox"/>	<input type="checkbox"/>	<input type="checkbox"/>	<input type="checkbox"/>
2. 第4個	<input type="checkbox"/>	<input type="checkbox"/>	<input type="checkbox"/>	<input type="checkbox"/>	<input type="checkbox"/>	<input type="checkbox"/>	<input type="checkbox"/>	<input type="checkbox"/>	<input type="checkbox"/>
3. 後3個	<input type="checkbox"/>	<input type="checkbox"/>	<input type="checkbox"/>	<input type="checkbox"/>	<input type="checkbox"/>	<input type="checkbox"/>	<input type="checkbox"/>	<input type="checkbox"/>	<input type="checkbox"/>
4. 後面數起第6個	<input type="checkbox"/>	<input type="checkbox"/>	<input type="checkbox"/>	<input type="checkbox"/>	<input type="checkbox"/>	<input type="checkbox"/>	<input type="checkbox"/>	<input type="checkbox"/>	<input type="checkbox"/>

4 按照順序填一填。(每格1分，共6分)

1. — — — — —

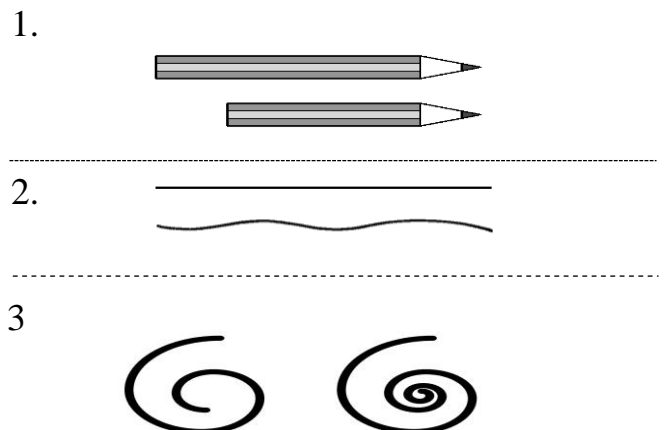
2. — — — — —

5 這些積木可以描出什麼形狀？連連看。(每條連線1分，共8分)

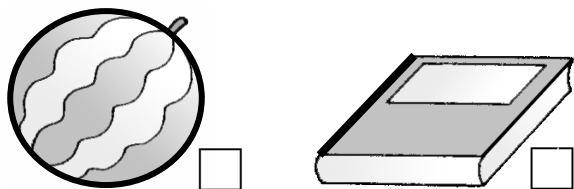
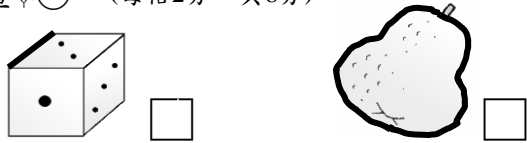


正方形 圓形 三角形 長方形

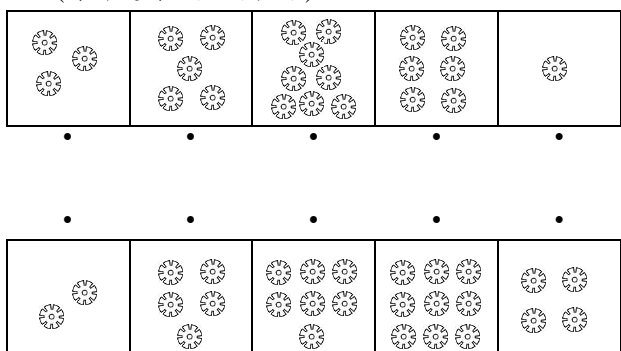
6 比一比，把比較長的圈起來。(每題2分，共6分)



7 下列物品中，特別粗的線是直線的打√，是曲線的畫○。(每格2分，共8分)



8 把合起來是10的連起來。(每條連線1分，共5分)



9 在正確的□裡打√。(每題2分，共4分)

1. 哪個東西有彎彎的面?



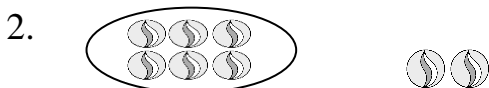
2. 哪個東西有平平的面?



10 看圖填填看。(每格2分，共12分)



8可以分成()和()。

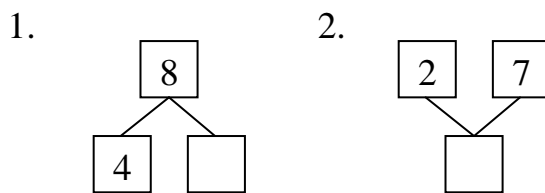


8可以分成()和()。



8可以分成()和()。

11 在□裡填入適當的數。(每題2分，共4分)



12 填填看。(每格2分，共12分)

第1個



1. 馬在蛇的前面還是後面?
()

2. 猴子排在第()個。

3. 排在兔子的後一個是()，是排在第()個。

4. 排在羊前面的有()個，後面的有()個。

13 畫○算算看。(每題3分，共9分)

1. 操場上原來有3個人打球，又來了4個人，現在一共有幾個?

答：()個人

2. 原來有8個橘子，吃掉2個，還剩下幾個?

答：剩下()個

3. 籃子裡有9個雞蛋，吃掉9個，還剩下幾個?

答：剩下()個