

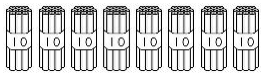
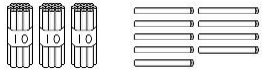

① 選擇題：5%

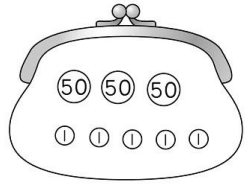
- 哥哥撲滿裡有1張100、3個10和55個1，再加上海媽媽給他11元，哥哥現在一共有多少元？
 ①185元 ②196元 ③135元 ④146元
- 「 $82 \square 18 = 100$ 」在這個算式中， \square 裡應該填入什麼？
 ①+ ②- ③= ④都可以
- 7:15過了30分鐘會是什麼時候？
 ①7:55 ②7時45分 ③8點 ④8:05
- 現在是7點半，2小時後是什麼時候？
 ①8點半 ②9點 ③9點半 ④10點半
- 小豪的毛巾比小恩的小，小品的毛巾比小恩的大，誰的毛巾最大？
 ①小豪 ②小恩 ③小品 ④不能比較

② 按照順序填一填：12%

- 126 — — — 129 — —
- 108 — — 128 — —
- 145 — — 135 — — 125 — —

③ 看圖填一填：6%

	共有()枝筆，
	加10枝，是()枝；
	再加2枝，是()枝。





	共有()元，
	拿走10元，剩()元；
	再拿走10元，剩()元。

④ 在 \square 裡填入 $>$ 、 $<$ 或 $=$ ：4%

- $134 \square 128$
- $98 \square 90 + 8$
- $168 \square 186$
- $172 \square 127$

⑤ 畫出一條長6公分的直線：2%

⑥ 看鐘面填填看：8%

1.  ()時()分	2.  ()點()分
3.  <input style="width: 50px; height: 20px;" type="text"/> : <input style="width: 50px; height: 20px;" type="text"/>	4.  ()時()分

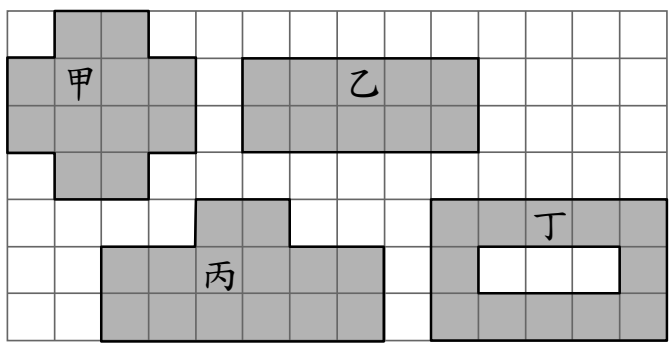
⑦ 寫成直式算算看：12%

1. $9 + 46 = ()$	2. $89 - 64 = ()$
2. $66 - 38 = ()$	4. $75 + 15 = ()$
5. $58 + 94 = ()$	6. $61 - 7 = ()$

⑧ 想一想，再回答問題：6%

- 小宣和小星拿自己的橡皮擦量課本，小宣量了7次，小星量了6次，誰的橡皮擦比較長？()
- 1個百、4個十和19個一，合起來是()。
- 15個十和7個一合起來是()。
- 長針走了1圈，是走了()小格，也就是()分鐘。
- 短針走了1圈，是()小時。

9 看圖回答問題：8%



1. 上面圖形各和幾個□合起來一樣大？

甲：()個□ 乙：()個□

丙：()個□ 丁：()個□

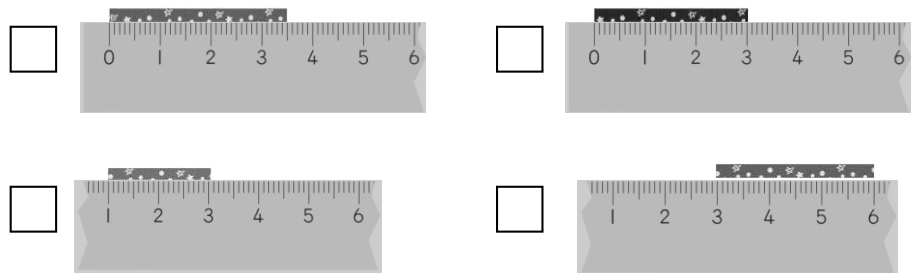
2. 哪個圖形的面積最大？()

3. 哪個圖形的面積最小？()

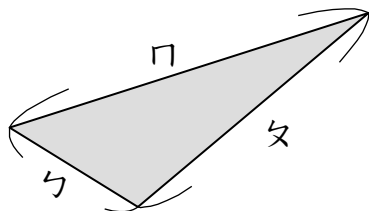
4. 圖形()和圖形()的面積一樣大。

10 哪些圖中的緞帶剛好長3公分？在

□裡打√：4%



11 用尺量量看，再回答問題：10%



1. 夕大約長()公分。

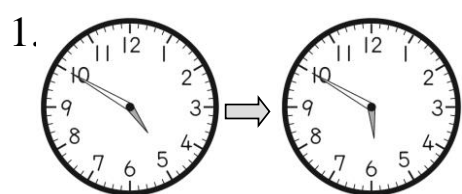
2. 夕大約長()公分。

3. 口大約長()公分。

4. 夕和口合起來是()公分。

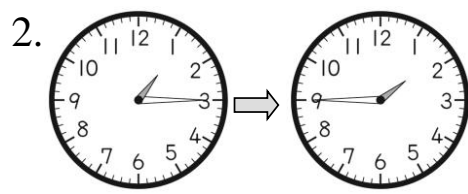
5. 最長的和最短的相差()公分。

12 看圖回答問題：5%



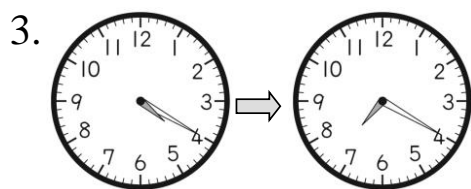
經過()分鐘，

也就是()小時。



經過()分鐘，

也就是()小時。



經過()小時

13 把做法和答案記下來：18%

1. 一條繩子對折後，長37公分，這條繩子原來的長度是多少公分？

2. 有一條緞帶長55公分，姐姐布置房間用掉34公分後，還剩下幾公分？

3. 老師分小燈籠給71個小朋友，一人分一個，小燈籠不夠28個，小燈籠有幾個？

4. 小宏身上有84元，小楷比小宏多39元，小楷有幾元？

5. 蘋果有91顆，西瓜比蘋果少25顆，西瓜有多少顆？

6. 一盒跳棋72元，一盒象棋比一盒跳棋貴58元，一盒象棋要多多少元？

* * * 寫完記得檢查喔！ * * *