



\_\_\_\_年\_\_\_\_班 座號：\_\_\_\_ 姓名：\_\_\_\_\_


一、選擇題：20 分

- ( ) 1. 工業革命是指人們開始使用下列哪一種機器後，生產方式改變，生產效能大幅提升所帶來的變革？  
①紡織機 ②汽車 ③蒸汽機 ④馬車
- ( ) 2. 下列哪一個是核能科技運用在醫學上的好處？  
①看病不用付費 ②能治癒所有疾病 ③讓醫生更精確掌握病情 ④不會傷害人體
- ( ) 3. 生物科技在醫學上的發展和下列哪一個觀念較有關？  
①投資理財 ②及時行樂 ③忠君愛國 ④身體保健
- ( ) 4. 下列哪一個不是人類平均壽命延長的主要原因？  
①病毒全被消滅 ②醫療技術進步 ③人們重視身體保健 ④健康食品普及
- ( ) 5. 下列哪一個是核能科技運用在電力發展上的特點？  
①民眾不需付電費 ②會產生大量廢氣 ③可提供穩定電力 ④易造成石化能源枯竭
- ( ) 6. 宗任為了響應節能減碳，在消費時會儘量挑選包裝簡單的商品。請問，宗任選購商品的主要依據是什麼？  
①經濟能力 ②品牌形象 ③環保性 ④流行性
- ( ) 7. 人們的消費行為會受到什麼因素影響？  
①媒體宣傳 ②個人收入 ③商品價格 ④以上選項都會
- ( ) 8. 下列何者是影響生產的因素？  
①市場需求 ②生產成本 ③生產者專長 ④以上選項都是
- ( ) 9. 下列哪一位不屬於經濟活動中的生產者？  
①在市場賣菜的葉奶奶 ②到雜貨店買雞蛋的小華  
③在食品廠清洗水果的美珍 ④在山區興建道路的林伯伯
- ( ) 10. 「阿惠發現赤崁村的居民相當喜愛喝飲料，村內唯一的飲料店天天都大排長龍，本來預計開麵包店的他決定改開飲料店。」依上述判斷，阿惠主要是考量哪一個因素而想開飲料店？  
①個人專長 ②人事成本 ③市場需求 ④水電支出
- ( ) 11. 近年來政府不斷調漲基本工資，使得狗頭牌製鞋工廠的人力成本大幅增加，為了賺取更多利潤，狗頭牌製鞋工廠較可能採取下列哪一項經營策略？  
①採購大量昂貴的製鞋材料 ②將工廠遷移到東南亞國家 ③以人工代替機器進行生產 ④提供員工更多津貼與福利
- ( ) 12. 現今，民眾在逛夜市時，可以用手機掃描商家出示在攤位前的哪一個標誌以進行付款？
- 


①



②



③



④
- ( ) 13. 下列哪一項屬於投資行為？  
①買賣黃金 ②從郵局帳戶領錢 ③購買二手家具 ④將錢存在撲滿
- ( ) 14. 下列哪一個屬於「投資」的行為？  
①將每天的花費記錄下來 ②將壓歲錢存放在郵局裡 ③把零用錢捐給慈善機構 ④購買黃金，等待增值時出售
- ( ) 15. 「不要將雞蛋放在同一個籃子裡」這句話主要傳達

什麼觀念？

- ①投資能獲利都是靠運氣 ②有投資就有回報 ③投資活動能帶動經濟發展 ④投資時要記得分散風險
- ( ) 16. 「民國 35 年，臺灣的麵粉一斤平均約臺幣 12 元，隔年卻要花 75 元才能買到一斤麵粉，短短一年價格相差好幾倍！」依上述判斷，戰後的臺灣面臨什麼問題？  
①治安不佳 ②失業問題嚴重 ③基礎建設不足 ④物價飛漲
- ( ) 17. 政府於西元 1940 年代開始推動土地改革，是為了解決哪一項問題？  
①農民識字率低 ②土地分配不均 ③田地病蟲害 ④農地汙染
- ( ) 18. 「十大建設」政策的推動為臺灣帶來什麼影響？  
①國內交通運輸更便捷 ②奠定國內重工業的基礎 ③提供許多就業機會 ④以上選項都是
- ( ) 19. 政府在十大建設政策中規畫了哪一項能源建設？  
①水庫 ②太陽能光電廠 ③垃圾焚化廠 ④核能發電廠
- ( ) 20. 政府為協助企業轉型，提升國際競爭力，較可能採取哪一種做法？  
①高利貸款給企業 ②將國有土地送給業者擴建工廠 ③強迫傳統產業結束經營 ④辦理產業技術進修課程

二、是非題：15 分

- ( ) 1. 最早發生工業革命的美國，是當時最富強的國家。
- ( ) 2. 人們可以利用社群網站與他人分享照片。
- ( ) 3. 雲端科技是指將資訊存放在網路上處理的技術。
- ( ) 4. 核能科技的主要功能是處理資料的儲存與運算。
- ( ) 5. 生物科技的運用，有助於提高農作物的產量。
- ( ) 6. 人們會為了滿足生活需求進行生產或消費。
- ( ) 7. 購物時應該區分「想要」的商品或是「需要」的商品，以免過度消費。
- ( ) 8. 每當颱風來襲時，蔬菜價格通常會因此下跌，消費者可以趁機購買。
- ( ) 9. 理財觀念應從小開始培養。
- ( ) 10. 透過記帳可以了解自己的收支狀況，學習理財。
- ( ) 11. 儲蓄能夠累積財富，提早為將來可能的花費做準備。
- ( ) 12. 知名企業的股票價值永遠不會下跌。
- ( ) 13. 對想要投資的商品不熟悉時，最好不要輕易投資。
- ( ) 14. 臺灣目前是聯合國的會員國之一。
- ( ) 15. 與他國簽訂自由貿易協定可以拓展經濟銷售規模。

三、勾選題：28 分

1. 下列哪些是工業革命帶來的影響？  
( ) ①生活變得不便。  
( ) ②人們財富增加。  
( ) ③船隻航速加快。  
( ) ④海上運輸發達。  
( ) ⑤貨物運量減少。
2. 下列哪些消費行為較適當？  
( ) ①為了兌換週年慶的限量贈品而大肆購物。  
( ) ②購物前先考量收入，不超出自己的經濟能力。  
( ) ③利用網路購物時，避免洩漏個人資料。  
( ) ④為了跟上流行，一定要買最新款式的衣服。

3. 下列哪些是民國60年代政府推動的「十大建設」項目之一？

- ( ) ①風力發電廠。  
 ( ) ②高雄港。  
 ( ) ③高速鐵路。  
 ( ) ④大煉鋼廠。  
 ( ) ⑤北迴鐵路。  
 ( ) ⑥中山高速公路。

4. 下列哪些是與生物科技有關的行為？

- ( ) ①媽媽帶義仁到醫院注射流感疫苗。  
 ( ) ②照彥穿著合成布料製成的衣服。  
 ( ) ③阿恭利用網路進行視訊會議。  
 ( ) ④小尚生病了，服用抗生素藥物治療。  
 ( ) ⑤醫師利用電腦斷層掃描診斷阿郎的病情。

5. 下列哪些屬於石化科技的產物？



6. 下列哪些行為較容易導致過度消費的情形？



#### 四、連連看：7分

1. 下列分別是消費者或生產者在經濟活動中主要追求的目標？將相關的連起來：

- ①獲得利潤 •  
 ②滿足需求 •      • ㄉ. 生產者  
 ③增加產量 •      • ㄆ. 消費者  
 ④物美價廉 •

2. 下列科學家提出的觀念或理論，分別帶來什麼影響？

- ①牛頓發現萬 •      • 甲. 解釋環境改變與生物  
 有引力                      演化之間的關聯  
 ②達爾文提出 •      • 乙. 讓人們了解萬物運行  
 演化論                      的原理  
 ③哥白尼提出 •      • 丙. 改變過去人們認為地  
 地球繞太陽                  球是宇宙中心的觀念  
 運轉

#### 五、填充題：16分

1. 下列各是哪一種科技發展的應用方式？將代號填入( )裡：

- ㄅ. 資訊科技    ㄆ. 生物科技  
 ㄇ. 核能科技   ㄏ. 石化科技  
 ( ) ①使用 X 光。  
 ( ) ②製造衣服。  
 ( ) ③分解環境汙染物。  
 ( ) ④使用行動導覽。

2. 為了解決國內的經濟問題，政府運用多種方法，下列分別是哪一種改善方式的例子？將代號填入( )裡：

- ㄅ. 以人道救援的方式與他國交流。  
 ㄆ. 與外國簽署貿易協定。  
 ㄇ. 協助國內傳統產業轉型發展。  
 ㄏ. 研發創新技術。  
 ( ) (1) 回收廢棄寶特瓶製成再生布料。  
 ( ) (2) 將沒落的港口改造成觀光漁市場，吸引遊客前往。  
 ( ) (3) 派遣醫療團隊到非洲義診，改善當地醫療品質。  
 ( ) (4) 臺灣與瓜地馬拉簽訂 FTA，雙方部分進出口商品免稅。  
 ( ) (5) 鼓勵發展生物科技，例如培育螢光觀賞魚提高產品價值。  
 ( ) (6) 製鞋代工廠自創品牌，設計具有地方文化特色的鞋子款式。

3. 下列分別屬於哪一類型的經濟活動？將代號填入( )裡：

- ㄅ. 幫客戶維修電器  
 ㄆ. 上網購買球鞋  
 ㄇ. 載運乘客到目的地  
 ㄏ. 到美容院燙頭髮  
 ㄉ. 將零用錢投入撲滿  
 ㄊ. 將退休金存定期存款  
 (1) 生產：( )  
 (2) 消費：( )  
 (3) 儲蓄：( )

#### 六、簡答題：14分

1. 寫出一個儲蓄的好處。  
 答：  
 2. 寫出一個目前臺灣面臨的經濟問題。  
 答：  
 3. 寫出一個核能科技運用在醫學的例子。  
 答：  
 4. 寫出一個民國50至60年間，政府設立加工出口區的縣市名稱。  
 答：  
 5. 寫出一種核能科技被運用於發電所帶來的好處。  
 答：  
 6. 寫出一種投資理財的方式。  
 答：  
 7. 寫出一種戰後初期國民政府在台灣施行的土地政策。  
 答：