

澎湖縣白沙鄉赤崁國小 109 學年度第 1 學期數學領域期中評量試卷

二年級 姓名：_____ 得分：_____ 家長簽名：_____

一、按照順序填填看看。 14%

- 174———177——
- 95—100————
- 150———147—146—
- 108———138—148—

二、把數字由大到小排第一排。 8%

- | | | | |
|-----|-----|-----|-----|
| 193 | 139 | 136 | 163 |
|-----|-----|-----|-----|


 () > () > () > ()
- | | | | |
|-----|-----|-----|-----|
| 121 | 111 | 101 | 110 |
|-----|-----|-----|-----|

 () > () > () > ()


三、填填看看。 16%

- 108讀作()；190讀作()。
- 呈呈已經存了160元，再存5元，就有()元；再存10元，就有()元。
- 102的個位數字是()，十位數字是()。
- 147是由()個百、()個十和()個一合起來的。
- 1個百、2個十和13個一合起來是()，讀作()。
- 小涓和小宗各拿一條繩子量黑板的長，小涓量了15次，小宗量了12次，誰拿的繩子比較長？()。
- 現在是5點30分；再經過1小時，是()點()分。

- 現在是9:30，1小時前是幾點幾分？請你在右邊的鐘面上畫出時針和分針來表示。









- 小品寫功課，花了()分鐘。



開始

結束

四、寫出正確的時刻。 12%

- | | | |
|--|--|--|
| 1.  | 2.  | 3.  |
| ()點
()分 | ()點
()分 | ()點
()分 |
| 4.  | 5.  | 6.  |
| ()點
()分 | ()點
()分 | ()點
()分 |

五、用直式算算看看。 8%

- | | |
|--------------------|--------------------|
| 1. $9 + 78 = ()$ | 2. $57 + 45 = ()$ |
| 3. $61 - 59 = ()$ | 4. $86 - 48 = ()$ |

背面還有題目喔！

六、以「•」為起點，用尺畫出指定長度的直線。4%

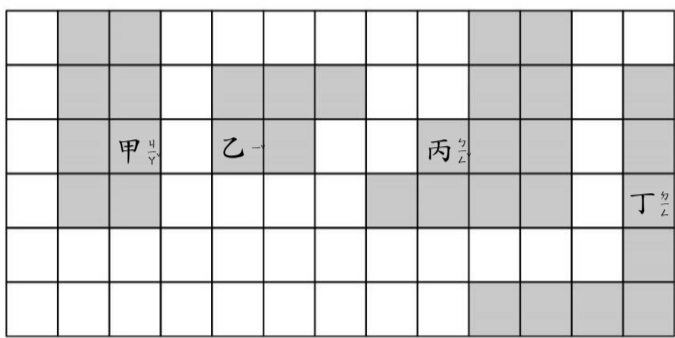
1. 4公分

•

2. 比6公分長，但是比7公分短

•

七、填填看看。6%



1. 甲圖和()個□一樣大;

乙圖和()個□一樣大;

丙圖和()個□一樣大;

丁圖和()個□一樣大。

2. 哪個圖的面積最大?()圖

哪個圖的面積最小?()圖

八、用直式計算並寫出答案。32%

1. 小恩家的店裡原來有29位客人，又進來12位客人，現在一共有幾位客人?

()位

2. 小如買了46個茶葉蛋，分給參加活動的61個小朋友一人一個，還不夠幾個?

()個

3. 小誼把一條27公分的藍絲帶和一條19公分的紅絲帶接在一起，一共有多長?

()公分

4. 一本筆記本賣46元，小昕買了2本，一共要付幾元?

()元

5. 爺爺今年86歲，爸爸比爺爺小33歲，爸爸今年幾歲?

()歲

6. 小羚有70元，買爆米花用去33元，後，還剩下多少錢?

()元

7. 停車場原本停了55輛車，後來有16輛車開走了，現在停車場有幾輛車?

()輛

8. 小郁有46顆彈珠，小萱有68顆，小萱的彈珠比小郁多幾顆?

()顆

寫完記得檢查喔!