


一、選擇題：每格 2 分、共 8 分

- () 1. 在平地較不可能看到下列哪一個景物？
 ①工廠 ②雲海 ③商業區 ④住宅區
- () 2. 家鄉居民依照季節變化而形成的生活型態或活動中，不包括下列哪一個？
 ①製作柿餅 ②賞花 ③剷雪 ④觀賞石滬
- () 3. 下列哪一種是早期家鄉居民的生活情形？
 ①開卡車載運木材 ②利用機械耕田
 ③修築埤塘、水圳 ④以電鍋煮飯
- () 4. 下列哪一項是馬偕牧師曾在淡水留下的歷史足跡？
 ①建學校 ②蓋關渡橋 ③開通捷運
 ④開發渡輪路線


二、圖表題：每格 2 分、共 32 分

1. 看圖回答問題，敘述正確的在()裡打✓：



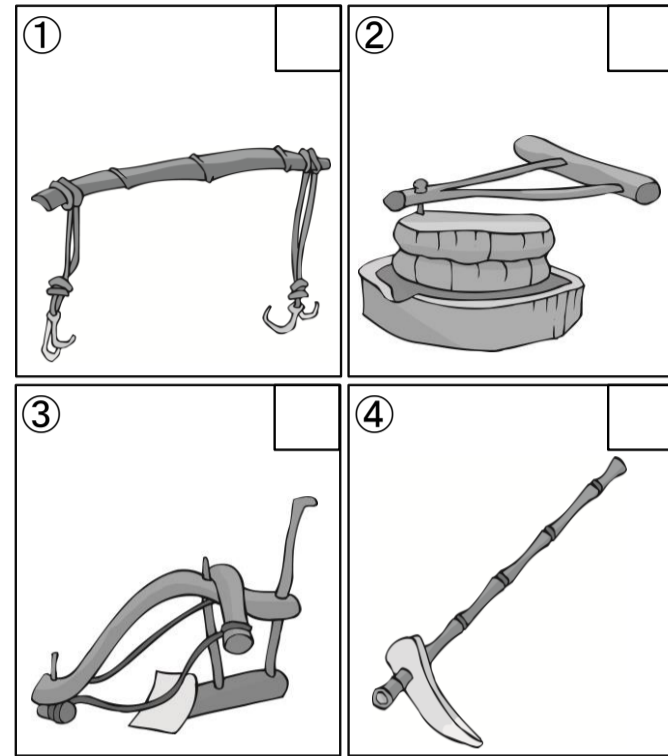
- () ①先民可能會在此地聚居，附近地區易形成市集。
 () ②此地可能因商業貿易發達，易吸引先民在此生活。
 () ③河岸淤積後會形成廣大的土地可供開發，附近的城鎮會更繁榮。
 () ④先民在此地興建港口，輸出產品，有助於當地的發展。

2. 下列哪些是沿岸邊常見的景象？是的在□裡打✓，不是的打✗：



3. 下列是家鄉先民生活上常使用的工具，它們的名稱分別是什麼？將代號填入□裡：

ㄅ. 犁 ㄆ. 石磨 ㄇ. 扁擔 ㄎ. 鋤頭



4. 根據下圖回答問題，敘述正確的在()裡打✓：



- () ①這張地圖可作為到獅潭鄉旅遊的參考。
 () ②泰安鄉在獅潭鄉的北方。
 () ③這張地圖少了圖例。
 () ④可以藉由這張地圖估算出永興親水公園到八卦力山之間的距離。

三、閱讀理解題：每格 2 分、共 16 分

1. 「先民站在一種木製長方形器具的腳踏板上，讓耕牛拖行，經由人體的重量和滾筒向前翻滾拍打，把草根壓入泥底，整平田土。」上文是小彰製作「從文物認識先民」報告的部分內容，依題目回答問題，敘述正確的在()裡打✓：

甲. 小彰是透過下列哪一種文物來認識先民？

- () ①傳說。 () ②農具。

乙. 文中「木製長方形器具」指的是哪一項？

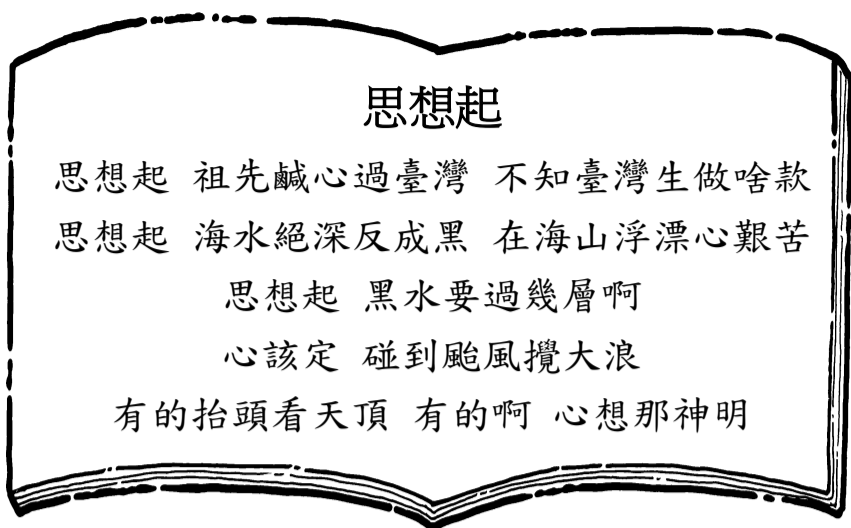
- () ①碌碡。 () ②扁擔。

丙. 下列哪一個較可能是小彰完成這份報告後的收穫？

- () ①了解先民克服與適應艱難環境的智慧。

- () ②了解先民保家衛國的過程與心情。

2. 下列是早期流傳的民謠，閱讀內容後回答問題：



() (1) 這首民謠主要在描述下列哪一項？

- ① 先民乘船出遊的喜悅
- ② 先民渡海來臺的艱辛
- ③ 航海技術的發展過程
- ④ 說明臺灣的地理位置

() (2) 除了透過民謠了解先民的生活環境，還可以藉由下列哪一項？


- ① 傳說 ② 古地圖 ③ 圖畫 ④ 以上皆可

四、題組題：每格 2 分、共 44 分

1. 依據題目回答問題，將代號填入空格裡：

ㄅ. 平地 ㄆ. 山區 ㄇ. 沿岸邊

(1) 下圖各屬於哪一個地區的生活景象？



(2) 下列描述各屬於哪一個地區？


- () ① 地勢變化較大，土地受地形限制，發展較少。
- () ② 土地被用以耕作或設置工廠，人口密集，交通設施完善。
- () ③ 利用特有資源，發展賞鯨豚活動。
- () ④ 居民多養殖水產，以捕撈為生。

2. 阿聖是澎湖縣馬公市的居民，他對自己家鄉地名的演變很感興趣。依下列題目回答問題，敘述正確的在()裡打✓：

甲、下列哪一個可能是阿聖家鄉的舊稱？

() ① 媽宮。() ② ㄆ. 鼓山。

乙、承上題，阿聖家鄉的舊稱與下列哪一個有關？



() ① 圖ㄅ () ② 圖ㄆ

丙、下列哪一個較可能是阿聖探索家鄉地名後的收穫？

- () ① 能獲得高額獎金。
- () ② 可了解家鄉特色。

3. 閱讀下面短文後，請依題意選出正確的答案：

一年一度的澎湖海上花火節活動即將開幕，小美想和家人一同前往澎湖參加海上花火節的活動，於是便到旅行社報名參加旅遊行程，以下是小美報名的旅遊行程表。

海上花火盛宴之旅

★ 第一天 ★
 松山機場搭機出發 → 澎湖天后宮 →
 參觀菜宅 → 海上夕陽 → 海上花火節 →
 入住民宿

★ 第二天 ★
 雙心石滬 → 桶盤嶼岩柱群 → 馬公老街
 → 澎湖機場搭機回程

◆ 祝您旅途平安 ◆

(1) 小美前往某個景點時，導覽人員向大家介紹當地居民利用咾咕石當建材，在農田四周砌防風牆，再將蔬菜種植在牆內的特殊做法。請問小美參觀的景點可能是哪一個呢？請在()裡打✓：

- () ① 雙心石滬。
- () ② 菜宅。

(2) 承第(1)題，請問為什麼當地居民要在農田四周砌防風牆呢？在()裡打✓：

- () ① 避免種植的農作物被偷。
- () ② 降低強風對農作物的損害。

(3) 第二天，小美前往著名的觀光景點——雙心石滬參觀，請問早期澎湖居民建造雙心石滬的功用是什麼呢？在()裡打✓：

- () ① 為了捕魚。
- () ② 保護海岸線。