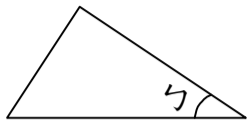


一、選擇題：(每題 2 分，共 14 分)

() 1. 勺部_勺位_勺的_勺正_勺確_勺名_勺稱_勺是_勺什_勺麼_勺？



- ①頂_勺面_勺 ②頂_勺線_勺 ③頂_勺邊_勺 ④角_勺

() 2. 珍_勺珍_勺到_勺速_勺食_勺店_勺買_勺了_勺 9 份_勺超_勺值_勺套_勺餐_勺，每_勺份_勺 135 元_勺，一_勺共_勺要_勺付_勺多_勺少_勺元_勺？

- ①1205 元_勺 ②1215 元_勺 ③1225 元_勺 ④1235 元_勺

() 3. 智_勺仁_勺國_勺小_勺學_勺生_勺人_勺數_勺「七_勺千_勺八_勺百_勺五_勺十_勺」人_勺，用_勺阿_勺拉_勺伯_勺數_勺字_勺表_勺示_勺，哪_勺一_勺個_勺選_勺項_勺是_勺正_勺確_勺的_勺？ ①7058 ②7085 ③7805 ④7850

() 4. 一_勺件_勺衣_勺服_勺賣_勺 190 元_勺，一_勺件_勺褲_勺子_勺的_勺價_勺錢_勺是_勺衣_勺服_勺的_勺 3 倍_勺，一_勺雙_勺鞋_勺子_勺的_勺價_勺錢_勺是_勺褲_勺子_勺的_勺 2 倍_勺，一_勺雙_勺鞋_勺子_勺要_勺幾_勺元_勺？

- ①1140 元_勺 ②1150 元_勺 ③1160 元_勺 ④1170 元_勺

() 5. 媽_勺媽_勺想_勺訂_勺生_勺日_勺蛋_勺糕_勺為_勺爸_勺爸_勺慶_勺生_勺，一_勺個_勺藍_勺莓_勺蛋_勺糕_勺 1388 元_勺，比_勺巧_勺克_勺力_勺蛋_勺糕_勺少_勺 288 元_勺，一_勺個_勺巧_勺克_勺力_勺蛋_勺糕_勺多_勺少_勺元_勺？

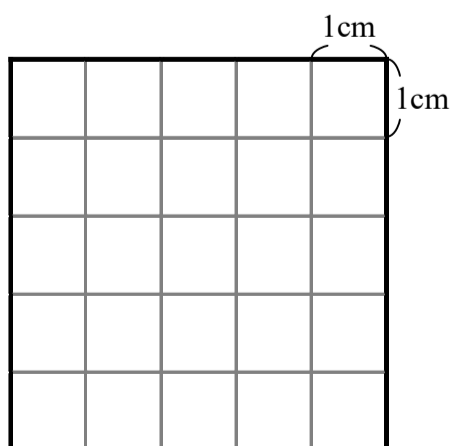
- ①1100 元_勺 ②1666 元_勺 ③1676 元_勺 ④1767 元_勺

() 6. 永_勺祥_勺跟_勺家_勺人_勺一_勺起_勺包_勺水_勺餃_勺。一_勺盤_勺有_勺 24 個_勺水_勺餃_勺，一_勺桌_勺有_勺 3 盤_勺，5 桌_勺共_勺有_勺多_勺少_勺個_勺水_勺餃_勺？ ①320 個_勺 ②360 個_勺 ③400 個_勺 ④440 個_勺

() 7. 最_勺小_勺的_勺四_勺位_勺數_勺和_勺最_勺大_勺的_勺三_勺位_勺數_勺合_勺起_勺來_勺是_勺多_勺少_勺？ ①10999 ②19999 ③1999 ④1100

二、畫畫看，做做看：(每個答案 2 分，共 10 分)

在_勺下_勺面_勺的_勺方_勺格_勺中_勺畫_勺一_勺個_勺長_勺方_勺形_勺，並_勺用_勺上_勺標_勺示_勺直_勺角_勺。



三、寫出直式算算看：(每題 3 分，共 9 分)

1. $6108+4802=(\quad)$

2. $7500-1901=(\quad)$

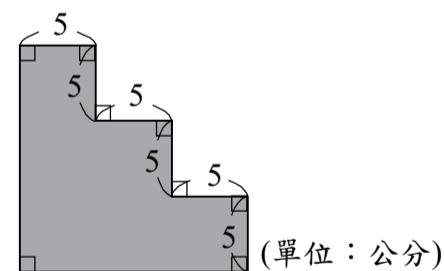
3. $368 \times 4=(\quad)$

四、看圖寫出算式：(每題 3 分，共 9 分)

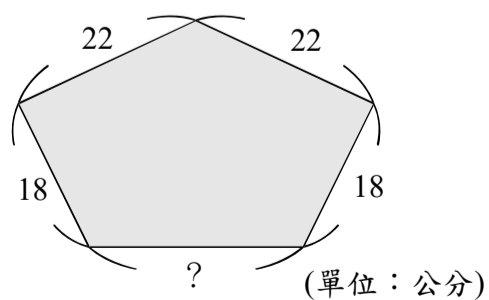
1. 下_勺面_勺是_勺用_勺 3 張_勺一_勺樣_勺大_勺的_勺長_勺方_勺形_勺圖_勺卡_勺拼_勺成_勺的_勺圖_勺形_勺，它_勺的_勺邊_勺長_勺分_勺別_勺是_勺 3 公_勺分_勺和_勺 6 公_勺分_勺，這_勺個_勺圖_勺形_勺的_勺周_勺長_勺是_勺多_勺少_勺公_勺分_勺？



2. 下_勺圖_勺的_勺周_勺長_勺是_勺多_勺少_勺公_勺分_勺？

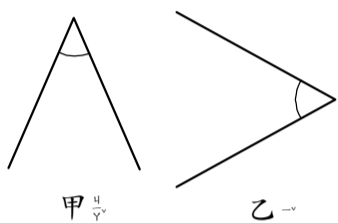


3. 下_勺圖_勺的_勺周_勺長_勺是_勺 104 公_勺分_勺，「？」的_勺長_勺度_勺是_勺多_勺少_勺公_勺分_勺？



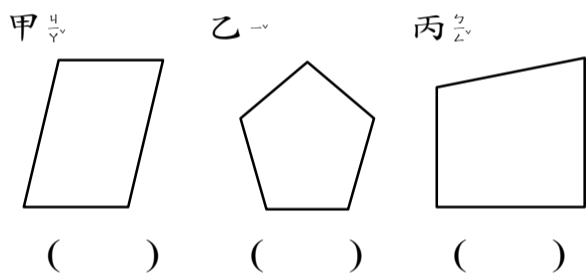
五、填入正確的答案：(每個答案 2 分，共 20 分)

- 6090 讀做()。
- 4003 讀做()。
- 1 個千、30 個百、25 個十和 4 個一合起來是()。
- 5 個千、30 個百、12 個十和 7 個一合起來是()。
- 用 0、1、2、3、4 五張數字卡，依照下列順序排出五個四位数。
() < () < () < () < ()。
- 下面()角比較大。

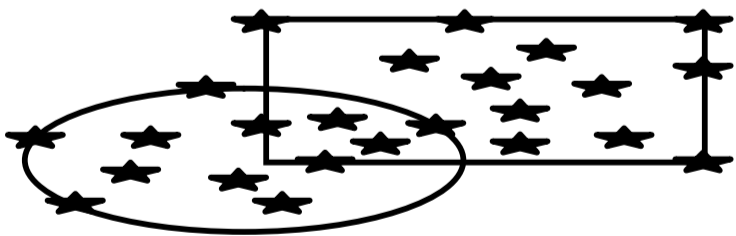


六、看圖回答問題：(每個答案 2 分，共 18 分)

- 下圖中，哪一個圖形有直角，在()裡打√，並用┐標示直角。



- 下圖(1)長方形內部的()個★
(2)長方形外部的()個★
(3)橢圓形外部的()個★
(4)橢圓形內部的()個★



七、把做法和答案記下來：(每題 4 分，共 20 分)

- 自強活動分隊，一共有 9 隊，每隊有 6 組，每組有 12 個人，共有多少人參加自強活動？
- 美鈴一天摺 64 隻紙鶴，三個星期共可以摺幾隻紙鶴？
- 小明繞著邊長 17 公尺的正方形公園跑 3 圈，請問他總共跑多長？
- 一套西裝 3900 元，一件洋裝比一套西裝便宜 1309 元，一件洋裝多少元？
驗算：
- 世紀恐龍展這星期賣出 3004 張門票，這星期比上星期少賣出 1806 張，上星期賣出幾張門票？
驗算：