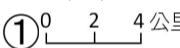





座號 _____ 姓名 _____

一、是非題：每題 1 分、共 15 分

- () 1. 小明大學畢業後到新竹工作，居住在那裡已經超過 10 年，新竹可說是他的家鄉。
- () 2. 認識地圖的基本要素，能讓人們更容易閱讀家鄉地圖。
- () 3. 不同種類的地圖所提供的資料都是一樣的。
- () 4. 外國人如果因為工作或結婚而來臺灣定居，臺灣也可以算是他的家鄉。
- () 5. 嘉義縣鹿草鄉的地名由來和當地的方位有關。
- () 6. 依地名判斷，臺南市新營區可能曾是軍隊駐紮的所在地。
- () 7. 山區居民可以運用當地的景觀或生活特色經營休閒農場。
- () 8. 近年來隨著休閒旅遊興盛，有些山區居民運用當地的景觀經營民宿。
- () 9. 颱風帶來豪雨，可能造成住宅田地被大水淹沒。
- () 10. 澎湖縣七美鄉雙心石滬最初是為了吸引觀光建造。
- () 11. 每個家鄉的居民為因應氣候所建立的生活型態都相同。
- () 12. 先民為了解決交通工具不足的問題，開始修築水圳。
- () 13. 為了均衡分配城鄉間的資源，政府有時必須調整城鄉的行政區域。
- () 14. 鹿港曾是商業貿易重鎮，後因受到原住民的攻擊而逐漸沒落。
- () 15. 沿岸邊的居民會利用特殊自然資源經營休閒活動，發展觀光。

二、選擇題：每題 2 分、共 32 分

- () 1. 利用下列哪一個地圖基本要素可以估算出兩地間的實際距離？①圖例 ②方位標 ③比例尺 ④圖名
- () 2. 下列哪一個是地圖中用以辨識方位的符號？
①  ②  ③  ④ 
- () 3. 下列哪一項不是家鄉地形圖主要提供的資訊？
①地表的起伏情形 ②人口的多寡 ③山脈的名稱 ④河流的分布
- () 4. 慶強的家鄉在臺南市新營區，下列哪一個最可能是他家鄉地名的由來？ ①曾是軍隊駐紮所在地 ②土地開墾的面積 ③當地常見的動植物 ④當地的地理方位
- () 5. 下列哪一種地形的特徵是地勢最高且起伏較大？
①臺地 ②丘陵 ③平原 ④山地
- () 6. 「宜蘭厝」斜屋頂的特殊設計主要具有下列哪一種功能？ ①抗震 ②防火 ③耐寒 ④排水
- () 7. 下列哪一個不是澎湖地區的早期的特色風情？
①雙心石滬 ②岩柱群 ③大窗戶 ④菜宅
- () 8. 下列哪一個是早期家鄉水圳的主要用途？
①養殖魚蝦 ②水力發電 ③提供戲水的地方 ④提供灌溉農作物的用水
- () 9. 下列哪一個是先民開採樟樹、提煉樟腦帶來的影響？①總人口數減少 ②食物來源減少 ③財富增加 ④漁獲量增加
- () 10. 「可以挖鬆泥土和挖除雜草，通常用於蔬菜種子的播種與果苗的種植，也可協助採收地瓜、竹筍等作物。」上述指的是下列哪一種傳統農具？
①犁 ②牛車 ③籬筐 ④鋤頭
- () 11. 具下列哪一種條件的家鄉，較有利於城鎮規模的擴大？①地形大部分是平坦的 ②地形大部分是崎嶇的 ③原來的河流變小 ④河流不定期暴漲

- () 12. 秀秀住在繁華的都市地區，她的家鄉較可能缺少下列哪一項資源？①大賣場 ②百貨公司 ③田園風光 ④金融機構
- () 13. 小傑想知道他的祖先發源地，他較不可能透過下列哪一項得知？
①族譜 ②家裡人數 ③堂號 ④詢問家中長輩
- () 14. 商業大樓林立的景象在下列哪一個地區較常見到？
①沿岸邊 ②山地 ③丘陵 ④平地
- () 15. 下列哪一項不屬於人們順應氣候的做法？
①宜蘭厝 ②半穴屋 ③菜宅 ④石滬
- () 16. 家鄉居民依照季節變化而形成的生活型態或活動中，不包括下列哪一個？
①製作柿餅 ②賞花 ③種植洋蔥 ④觀賞石滬

三、連連看：每格 1 分、共 8 分

1. 下列不同的地圖種類主要具有什麼功能？
- (1) 地形圖 • • ㄅ. 介紹特產美食
- (2) 行政區域圖 • • ㄆ. 呈現地勢變化
- (3) 觀光地圖 • • ㄇ. 分辨縣市範圍
- (4) 衛星影像圖 • • ㄏ. 了解建築物分佈
2. 下列影響城鎮發展的因素較適合歸類為哪一方面的改變？
- (1) 房價攀升 • • ㄅ. 自然
- (2) 港口淤積 • • ㄆ. 人文
- (3) 河流改向 • • ㄇ. 人文
- (4) 捷運站啟用 • • ㄏ. 自然

四、是的打√，不是的打×：每格 1 分、共 20 分

1. 老師請班上同學介紹自己的家鄉，下列同學對家鄉的敘述哪些是正確的？
- () ①小美：「我在雲林縣臺西鄉奶奶家出生，我已經很久沒有回奶奶家，但我覺得那裡是我的家鄉。」
- () ②小芳：「上週爸媽帶我到臺中市大甲區拜拜、遊玩，那裡的人都好親切，我覺得大甲區是我的家鄉。」
- () ③小依：「我最愛吃臺南市的美食了，雖然我只有偶爾放假時才會去，但我覺得臺南市是我的家鄉。」
- () ④小強：「雖然我不是在嘉義市出生，但我在那裡住了 7 年，我覺得嘉義市是我的家鄉。」
2. 班上同學正在討論古今地名的變化，哪些敘述是正確的？
- () ①小明：「清皇帝為嘉勉居民協助守城的義行，將諸羅山改稱嘉義。」
- () ②欣宜：「從日治時期的明信片可知，高雄一直以來都被稱作高雄，地名從未改變。」
- () ③小華：「清光緒年間，噶瑪蘭廳升格為縣，保留『蘭』字，再加上此地適宜居住的『宜』字，定名為宜蘭。」
- () ④雅文：「澎湖縣馬公市舊名『媽宮』，與當地的媽祖廟有關。」
3. 老師請同學製作「自然環境對家鄉居民生活的影響」的專題報告，下列是琪琪的報告內容，哪些敘述是正確的？
- () ①住在海邊的居民只能依賴出海捕魚賺取生活費用。
- () ②家鄉居民種植不同的農作物以因應季節的變化。
- () ③有些山區居民利用當地豐富的生態資源推出生態旅遊，吸引觀光客。
- () ④有些地方出現屋脊中央向兩端傾斜的建築物，是為了避免遭受雷擊。

4. 小芬的作業是調查先民的生活型態，下列是她調查的結果，哪些敘述是正確的？

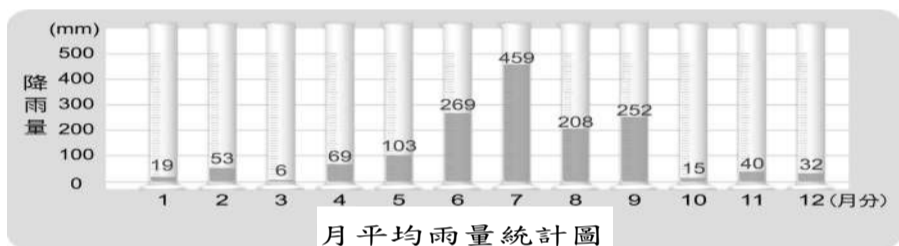
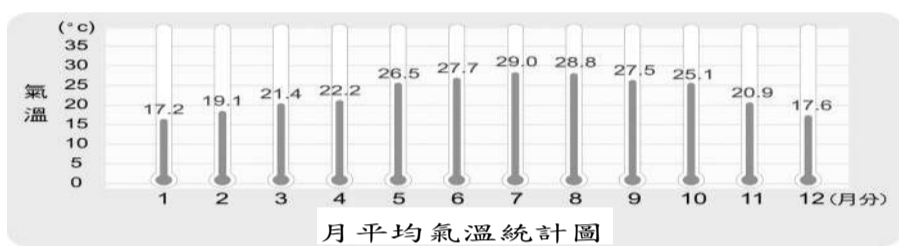
- () ①先民多過著較原始的漁獵、農耕生活，以標槍和弓箭射魚，並徒手採摘稻子。
- () ②為了方便耕作，居民常會散居在各自的耕地。
- () ③先民主要依靠農業，沒有發展其他生產技術。
- () ④先民為了採集天然資源，可能會聚居在資源的產地。

5. 社會課的時候，同學們分組討論有關了解家鄉先民的方式，哪一個人的說法正確？

- () ①小奇：「從家族族譜可以知道先民來自哪裡。」
- () ②丹丹：「透過研究堂號，了解早期原住民的信仰。」
- () ③小米：「先民有時會以民謠訴說開發家鄉的心情。」
- () ④小天：「從早期先民使用的器具，可以了解先民克服艱難環境的智慧。」

五、圖表題：每格1分、共12分

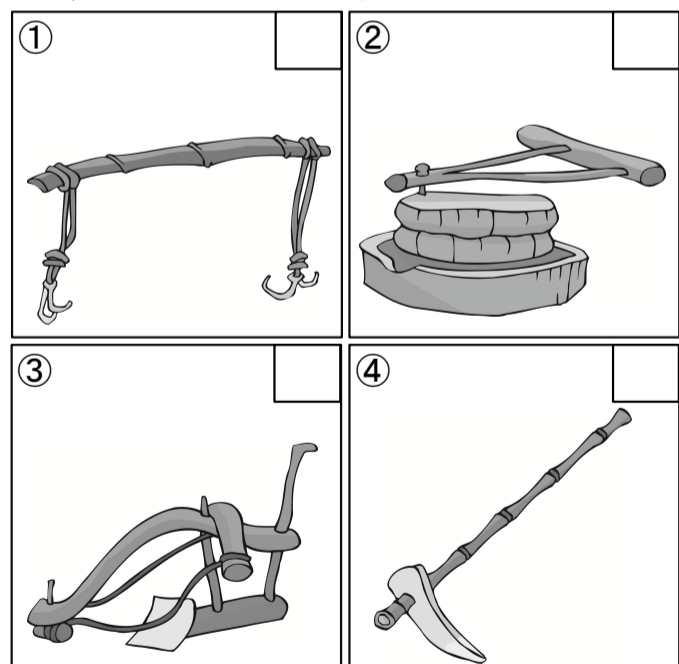
1. 下列是祥新家鄉的月平均雨量及氣溫統計圖，觀察圖表後回答問題，敘述正確的在()裡打✓：




- () ①降雨量集中在夏季。
- () ②四月到九月容易出現缺水問題。
- () ③夏季的氣溫較冬季高。
- () ④冬季的氣溫常低於10°C。

2. 下列是家鄉先民生活上常使用的工具，它們的名稱分別是什麼？將代號填入□裡：

ㄅ.犁 ㄆ.石磨 ㄇ.扁擔 ㄎ.鋤頭



3. 下列哪些是沿岸邊常見的景象？是的在□裡打✓，不是的打✗：



六、閱讀理解題：每格1分、共13分


1. 鹿港位在彰化平原的鹿港溪口北岸，早期是對外貿易的重要港口，後來因為★，商業活動慢慢沒落。也因為發展得早，所以市區留有不少古蹟，現在成為重要的觀光資源，吸引很多遊客參訪。

- () ㄅ. 請問，短文中的★應該填入什麼？(①汙染嚴重 ②港口淤積 ③地層下陷 ④氣候變遷)。
- () ㄆ. 哪一個地方的發展過程也跟鹿港一樣，本來港口貿易興盛，後來沒落，近期又發展成為觀光景點？(①鹿草 ②美濃 ③澎湖 ④淡水)。

2. 依據題目回答問題，將代號填入空格裡：

ㄅ.平地 ㄆ.山區 ㄇ.沿岸邊

下圖各屬於哪一個地區的生活景象？



3. 先民開發家鄉的過程中，逐漸群聚形成村落，為了讓家鄉更美好，居民們不斷的努力。下列敘述哪些正確？請在()裡打✓：

- () ①開發家鄉的過程中，有的先民為了耕作方便分散居住，有的為了防禦目的而聚居。
- () ②居民聚居的情形只會受人為因素影響，與自然環境無關。
- () ③完善的公共設施能讓家鄉變得更美好。
- () ④為了均衡城鄉發展，政府應對城鄉差異進行整體規畫。
- () ⑤城市與鄉村的居民應獨享資源，不用密切來往。