

澎湖縣白沙鄉赤崁國小 110 學年度第二學期數學科期中評量試卷

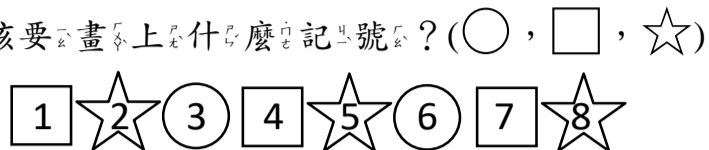
三年級 姓名：_____

得分：_____

家長簽名：_____

一、圈圈看：(每題 2 分，共 6 分)

1. 下列是有一串有規律的符號，請問數字 10 應該要畫上什麼記號？(○, □, ☆)



2. 一袋 $\frac{4}{5}$ 公斤的麵粉和一袋 $\frac{5}{5}$ 公斤的麵粉，哪一個比較重？

($\frac{4}{5}$ 公斤, $\frac{5}{5}$ 公斤, 一樣重)

3. 如何用 12 時制表示 21:19?

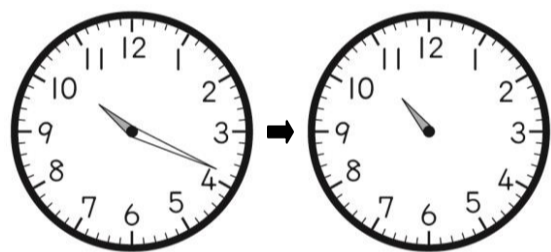
21:19PM 21:19AM

9:19PM 9:19AM


二、畫畫看，做做看：(每題 2 分，共 4 分)

1. 下面是小宗假日活動的時間，把各種活動完成的時候刻畫在鐘面上。

(1) 上午整理房間花了 23 分鐘。



(2) 下午買東西花了 3 小時。



三、選擇題：(每題 3 分，共 39 分)

() 1. 一個蛋糕平分成 8 塊，小恩和 6 個同學一人吃 1 塊，一共吃了多少個蛋糕？

① $\frac{6}{8}$ 個 ② $\frac{8}{6}$ 個 ③ $\frac{7}{8}$ 個 ④ $\frac{8}{7}$ 個

() 2. 郁郁到超市買了一盒 12 顆的雞蛋，在回家途中不小心打破 3 顆，還剩下幾盒完好好的雞蛋？

① $\frac{3}{12}$ 盒 ② $\frac{5}{12}$ 盒 ③ $\frac{7}{12}$ 盒 ④ $\frac{9}{12}$ 盒

() 3. 一包小熊餅乾有 95 片，平分成給 8 個小朋友，還剩下幾片餅乾？

① 1 片 ② 4 片 ③ 7 片 ④ 11 片

() 4. 一間教室共有 91 個座位，一排有 7 個座位，共有多少排？

① 10 排 ② 11 排 ③ 12 排 ④ 13 排

() 5. 請問 $\frac{8}{8}$ 公斤的蘋果，和「十分之幾」公斤的檸檬一樣多？

① 十分之四 ② 十分之八 ③ 十分之六

④ 十分之十

() 6. 耶誕卡一張 9 元，如如共付了 162 元，她買了多少張耶誕卡？

① 13 張 ② 14 張 ③ 15 張 ④ 18 張

() 7. 小誼帶了 195 元出門，買了一瓶 17 元的可樂後，她還想买布丁，已知布丁 1 顆 8 元，請問她最多可以買幾顆？

① 16 號 ② 19 號 ③ 22 號 ④ 23 號

() 8. 從今天中午 12 時到明天凌晨 0 時，一共有幾小時？

① 10 小時 ② 11 小時 ③ 12 小時 ④ 24 小時

() 9. 上午 11 時 43 分用 24 時制表示是幾時幾分？

① 11 時 43 分 ② 11 時 13 分 ③ 21 時 53 分

④ 23 時 43 分

() 10. 妹妹有 315 元，佑佑有 78 元，兩人的錢合起來，剛好可以買 3 個玩偶，一個玩偶要多少元？

① 128 元 ② 129 元 ③ 130 元 ④ 131 元

() 11. 萱萱和同學去逛街，共花了 5 小時，也就是花了多少分鐘？

① 240 分鐘 ② 300 分鐘 ③ 420 分鐘

④ 500 分鐘

() 12. 品品和呈呈分別拼一幅同樣的拼圖，品品花了 2 小時 3 分鐘拼完，呈呈花了 93 分鐘拼完，兩個人誰比較快拼完？

① 品品 ② 呈呈 ③ 一樣快 ④ 不能比較

() 13. 樂曲「學貓叫」和「紅蓮華」分別長 3 分鐘 37 秒鐘和 237 秒鐘，哪一首樂曲的播放時間比較久？

① 學貓叫 ② 紅蓮華 ③ 一樣久

④ 不能比較

四、填填看 (每題 3 分, 共 12 分)


- 阿Y 消帶了 500 元, 買麥片用掉 290 元, 剩下的錢剛好可以買 3 瓶鮮奶, 一瓶鮮奶 () 元。
- 爸爸下午 2 時 40 分開車從臺中出發, 在 17:40 到高雄, 共花了 () 小時。
- 現在是 19:26 再過 2 小時是什麼時刻?
(:)
- 下面是一串有規律的數字, \square 中應填入什麼數字?
2—5—8— \square —14—17

五、勾選題 (每個答案 2 分, 共 8 分)


- 不用計算, 想想看, 下面哪些直式的商是二位數? 在 \square 裡打 \surd 。
 $8 \overline{)924}$ $8 \overline{)624}$ $8 \overline{)824}$ $8 \overline{)724}$
- 在正確的算式 () 裡打 \surd 。
 承承的錢包裡有 275 元, 媽媽再給他 185 元後, 剛好可以買 5 瓶鮮奶, 一瓶鮮奶多少元?
 () (1) $275 + 185 = 460, 460 \div 5 = 92$
 () (2) $275 - 185 = 90, 90 \div 5 = 18$
- 下一個小朋友要做什麼動作? 在 \square 裡打 \surd 。



(1) 按照上面的規律, 10 號小朋友的動作是



(2) 按照上面的規律, 11 號小朋友的動作是



六、計算題 (每題 3 分, 共 15 分)

- $451 \div 3 = () \cdots ()$
- $269 \div 7 = () \cdots ()$

3. $\frac{5}{11} + \frac{3}{11} = ()$

4. $1 - \frac{5}{11} = ()$

5. 5 小時 47 分鐘 - 2 小時 32 分鐘 =

七、應用題 (每題 4 分, 共 16 分)

- 水壺裡原來有一些牛奶, 哥哥煮奶茶用了 $\frac{4}{10}$ 公升後, 剩下 $\frac{2}{10}$ 公升, 水壺裡原來有幾公升的牛奶?
- 媽媽將一條吐司機平分成 8 片, 小育吃了 $\frac{2}{8}$ 條吐司機, 萱萱吃了 $\frac{4}{8}$ 條吐司機, 玲玲吃了 1 片吐司機, 三個人共吃了幾條吐司機?
- 小玲想買 9 本筆記本, 帶了 200 元到書局, 卻發現不夠 115 元, 一本筆記本多少元?
- 阿Y 耀從 15 時 8 分開始看故事書, 到下午 4 時 8 分看完, 他看故事書一共花了多少時間?