

一年級 姓名：\_\_\_\_\_

得分：\_\_\_\_\_

家長簽名：\_\_\_\_\_

一、依照順序填數字：12%

1. (37) → (38) → ( ) → ( ) → (41) → (42)

2. (30) → (35) → (40) → ( ) → ( )

3. (50) → (49) → ( ) → ( ) → (46)

4. (6) → (16) → (26) → ( ) → ( )

5. ( ) → (20) → (30) → ( ) → (50)

6. (42) → (44) → ( ) → (48) → ( )

二、填填看看：(每個答案各1分) 6%

32	37	50	13	41
49	40	36	38	29

1. 最大的數是( )。

2. 最小的數是( )。

3. 比30小的數有( )。

4. 比45大的數有( )。

三、想一想，填填看看。8%

1.  $6+7=13$

$6+8=( )$

$6+9=( )$

2.  $9+2=11$  ,  $2+9=( )$

$4+8=12$  ,  $8+4=( )$

3.  $15-7=8$

$15-8=( )$

$15-9=( )$

4.  $14-7=7$

$15-7=( )$

$16-7=( )$

四、算算看看。12%

1.  $8+7=( )$

2.  $9+8=( )$

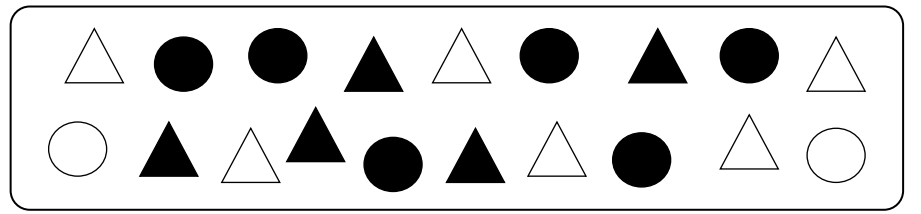
3.  $11-6=( )$

4.  $14-5=( )$

5.  $18-9=( )$

6.  $13-8=( )$

五、用兩種分法把圖形分成兩組。8%



1. 分法一：


( )	( ) 個
( )	( ) 個

2. 分法二：

( )	( ) 個
( )	( ) 個

六、數數看看，各有幾隻？用「正」

記記看看，再回答問題。13%



下					
(3)隻	( )隻	( )隻	( )隻	( )隻	( )隻

1. 一共有幾種動物？( )種

2. 數量最多的是( , , )

3. 數量最少的是( , , )

七、圈出圈看。12%

1. 把答案是 6 的心算卡圈起來。

12-6

15-7

13-7

2. 把答案是 7 的心算卡圈起來。

15-8

13-6

12-3

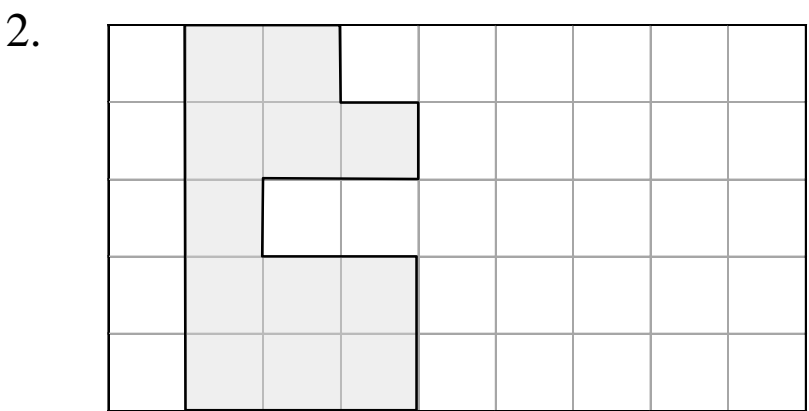
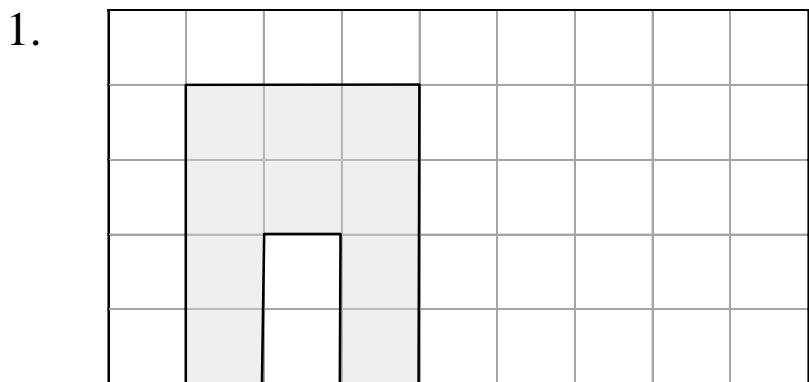
3. 把答案是 8 的心算卡圈起來。

14-6

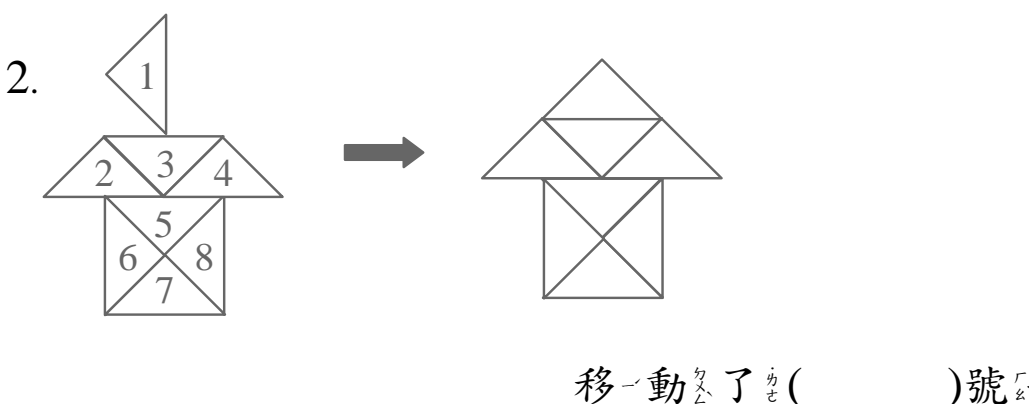
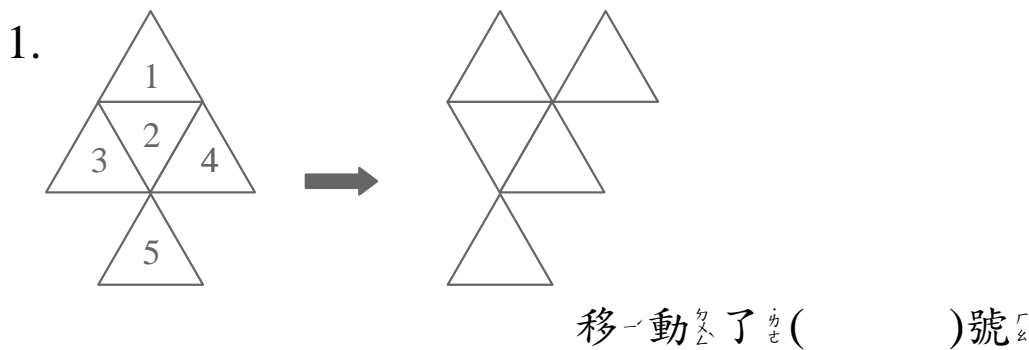
17-8

16-8

八、畫出和左邊形狀大小一樣的圖形。4%



九、想一想，移動了幾號圖形板？並請在右圖把被移動的圖形板塗上顏色。4%



十、寫出算式和答案。21%

1. 架子上有 10 枝紅筆和 8 枝藍筆，一共有幾枝筆？

答：( )枝

2. 妹妹有 6 張貼紙，姐姐又給她 7 張，妹妹現在有幾張貼紙？

答：( )張

3. 荷葉上有 12 隻青蛙，跳走了 4 隻後，現在荷葉上還剩幾隻青蛙？

答：( )隻

4. 一盒麻糬有 8 個，2 盒有幾個麻糬？

答：( )個

5. 冰箱裡有 14 枝冰棒，吃掉 5 枝，還剩下幾枝冰棒？

答：( )枝

6. 哥哥有 8 張卡片，弟弟有 13 張，哥哥比弟弟少幾張卡片？

答：( )張

7. 班上 14 位同學，7 個人進教室了，還沒進教室的有幾個人？

答：( )人