

座號：_____ 姓名：_____ 家長簽名：_____

一、圈圈看看：(每個答案 2 分，共 4 分)

1. 投籃遊戲，每投中一球得 1 分，沒投中得 0 分。小宇共投了 5 球，都沒有投中，他一共得了幾分？圈出正確的算式。

- 0×5 5×0 $5 + 0$

2. 下面哪一個數比 501 大，又比 609 小？圈出正確的答。

- 579 619 453 325

二、勾選題：(每個答案 1 分，共 5 分)

1. 選出適合的單位，在 裡打 \checkmark 。




(1) 我的拳頭大約長 5

- 公分 公尺

(2) 我家的冰箱大約高 2

- 公分 公尺

2. 估估看看，在正確的 裡打 \checkmark 。

			
棒球	籃球	足球	網球
<input type="checkbox"/> 28元	<input type="checkbox"/> 79元	<input type="checkbox"/> 61元	<input type="checkbox"/> 12元

(1) 買一顆棒球和一顆網球，大約多少元？

- 30 元 40 元 50 元

(2) 買一顆足球和一顆網球，大約多少元？

- 70 元 80 元 90 元

(3) 凱凱有 100 元，夠不夠買一顆籃球和一顆網球？

- 夠 不夠 不一定

三、寫成直式算算看看：(每題 2 分，共 8 分)

1. $197 - 79 = (\quad)$

2. $809 - 122 = (\quad)$

3. $508 + 292 = (\quad)$

4. $134 + 185 = (\quad)$

四、填填看看：(每個答案 2 分，共 10 分)

1. $179 - (\quad) - 379 - 479 - (\quad) - 679$

2. $834 - 824 - (\quad) - (\quad) - (\quad) - 784$

五、看表填填看看：(每個答案 2 分，共 18 分)

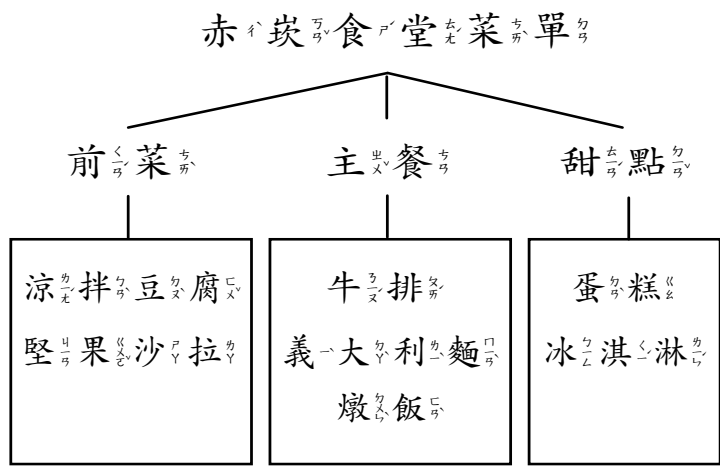
1. 澄澄和安安玩射飛鏢遊戲，結果

如下表。

得分	0 分	1 分	5 分	10 分
姓名				
<u>澄澄</u>	2	1	1	2
<u>安安</u>	0	3	2	3

澄澄一共得到()分，安安一共得到()分。

2. 下面是赤炭食堂的菜單。



(1) 赤炭食堂菜單分成哪三大類？

()、()和()

(2) 甜點那一類有()和()。

3. 下面是蔬果行今日進貨紀錄表。

蔬菜類			水果類		
高麗菜	白菜	空心菜	鳳梨	芭樂	火龍果
90包	75包	58包	24顆	63顆	35顆

(1) 進貨的水果類一共有()顆。

(2) 進貨的蔬菜類中，最多和最少的數量相差()包。

六、看圖回答問題：(每個答案2分，共10分)

1. 下面是班上考的試分數紀錄，看分類紀錄回答問題。

考試分數						
及格					不及格	
100分	99分	89分	79分	69分	59分	50分
2人	1人	4人	3人	8人	2人	3人

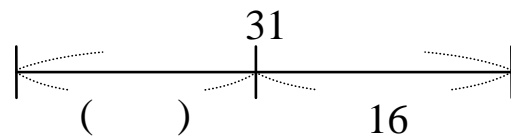
(1) 班上有沒有沒有人考100分？()

(2) 及格的的人數共有()人，不及格的的人數共有()人。

(3) 全班共有()人。


2. ()內的數是多少？將答案填入。

下圖()中。



七、看圖填填看：(每個答案1分，共30分)

1. 將下面圖形做分類。



(1) 用顏色分類可以分成()大類，其中黑色有()個。

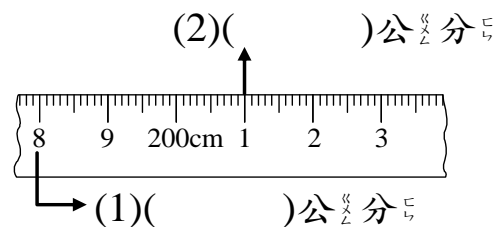
(2) 用形狀分類可以分成()大類，其中三角形有()個。

2. 下面是衣櫃裡的物品，將數量記錄在下表中。

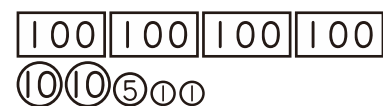


上衣類		褲子類	
短袖	長袖	長褲	短褲
()件	()件	()件	()件

3.



4. 下圖是買1個籃球要付的錢。



再加付10元就送球帽，一共要付()元。

5. 一盒布丁有 10 個，10 盒裝成一箱。



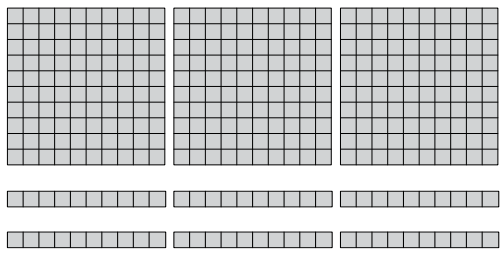
(1) 現在店裡有 4 箱，一共是 () 個布丁。

(2) 辰辰買了 2 箱又 3 盒，一共是 () 個布丁。

(3) 嘉嘉比辰辰多買了 4 盒，嘉嘉一共買了 () 個布丁。

(4) 10 箱一共共有 () 個布丁。

6.




上面一共共有 () 個 \square ，再加 $\square\square\square\square\square$ ，是 () 個 \square 。

7.

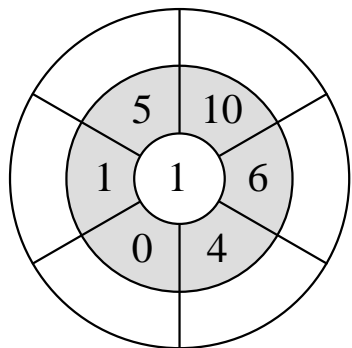
2 張 、12 條 和 3 個 \square ，合起來和 () 個 \square 一樣多。

8. 看圖寫出乘法算式。



() \times () = ()
() \times () = ()

9. 最中間的數乘以第二圈的數，把乘出來的結果填在最外圈。



八、應用題：(每個答案 3 分，共 15 分)

1. 龍龍每天存 5 元，存了 14 天，一共可以存多少元？(用乘法列式)

算式：

答：() 元

2. 妹妹每天練習寫 10 個字，她練習寫了 8 天，一共寫了幾個字？(用乘法列式)

算式：

答：() 個字

3. 瑜瑜和鳳鳳組隊參加 400 公尺競走接力賽，瑜瑜走了 282 公尺，鳳鳳

需要再走幾公尺？

算式：

答：() 公尺

4. 拍賣會準備了一些商品，賣出 155 件，還剩下 29 件，拍賣會原來準備了

幾件商品？

算式：

答：() 件

5. 婷婷有 550 元，爸爸再給她一些零用錢後，現在婷婷有 705 元，爸爸

給她多少零用錢？

算式：

答：() 元