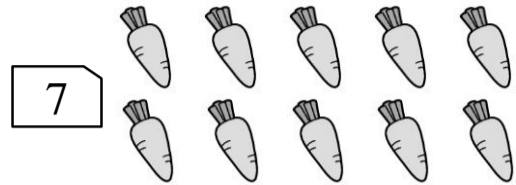


座號：_____ 姓名：_____ 家長簽名：_____

一、圖圖看看：(每個答案 2 分，共 6 分)

1. 圈出正確的數量。



2. 從右邊數起，把 5 隻小狗圈起來。

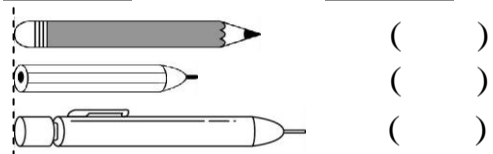


3. 從左邊數起，把第 8 朵花圈起來。

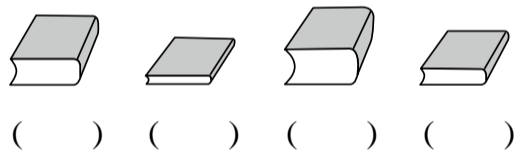


二、比比看看：(每個答案 2 分，共 12 分)

1. 最長的打√，最短的打×。

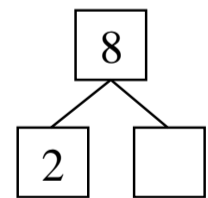


2. 由厚到薄在()裡填入 1、2、3、4。

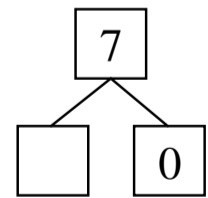


三、填填看看：(每個答案 2 分，共 14 分)

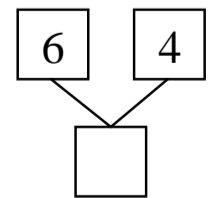
1.



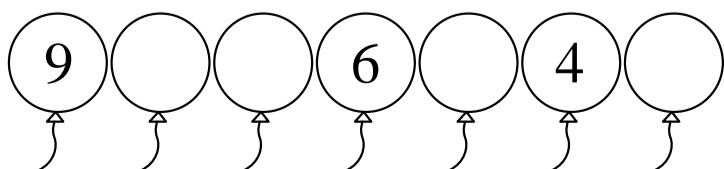
2.



3.

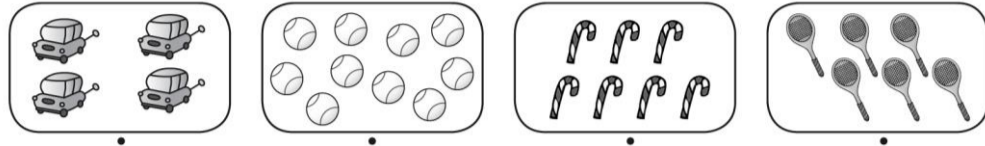


4. 按照順序填填看看。



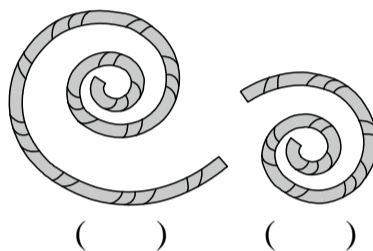
四、連連看看：(每個答案 2 分，共 8 分)

1. 數數看看，連出正確的數字。

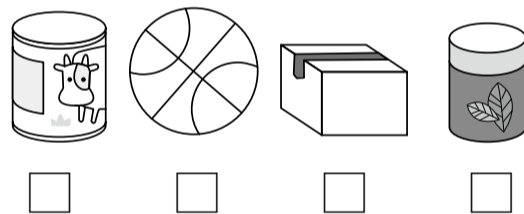


五、勾選題：(每個答案 2 分，共 10 分)


1. 哪一條繩子比較長？在()裡打√。




2. 哪些物品屬於「容易一堆疊，也容易滾動」的，在□裡打√。



3. 下列哪一個圖形的順序是依照「圓形→三角形→正方形→長方形」？在□裡打√。

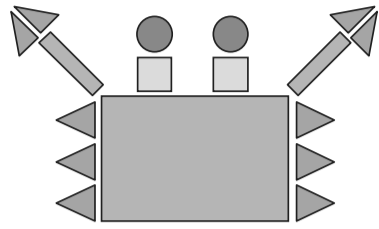


4. 排隊時，誰排在前面？在()裡打√。



六、看圖填填看：(每個答案 2 分，共 22 分)

1. 數數看，每種形狀各用了幾個？



- (1) 正方形有()個。
- (2) 三角形有()個。
- (3) 長方形有()個。
- (4) 圓形有()個。

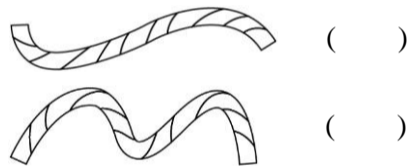
2.



↑
第 1 個


- (1) 排在第()個。
- (2) 排在前面()隻動物，排在後面()隻動物。

3. 是直線的畫○，是曲線的打×。



4. 數一數，盤子裡有幾根香蕉？

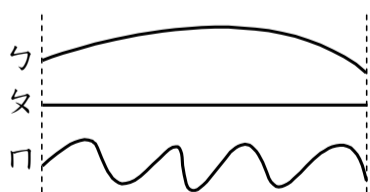
- (1)
- (2)



()根 ()根


七、看圖回答問題：(每個答案 2 分，共 28 分)

1. 哪一條線最長？哪一條線最短？




()最長；()最短

2. 觀察下面置物櫃擺放物品的順序。



- (1) 從上往下數，第 2 層放的是(ABC, 熊, 車)。
- (2) 從上往下數，(玩具車)是放在第()層。

3.



- (1) 全部有()個小朋友。
- (2) 一個小朋友分 1 顆氣球，氣球夠不夠？(夠, 不夠)

4.



- (1) 從右邊數起，(草莓)排在第()個。
- (2) 從左邊數起，第 5 個是(蘋果, 香蕉)

5. 只有平平的面打√，只有彎彎的面畫○。

○，有平平的面，也有彎彎的面打×。

- (1) ()
- (2) ()
- (3) ()
- (4) ()
- (5) ()
- (6) ()