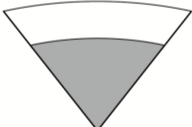


澎湖縣赤崁國小111學年度上學期期中評量三年級數學科試卷

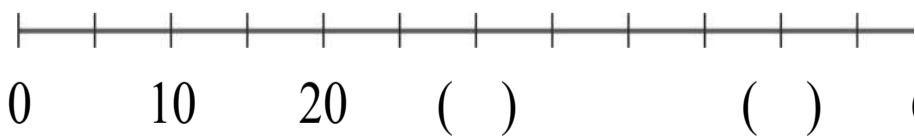
座號：\_\_\_ 姓名：\_\_\_\_\_

一、選出正確的答案：(每題2分，共14分)

- ( ) 1. 小潔有 5000 元，買了一件 1009 元的衣服，大約還剩下多少元？  
 ① 4000 元 ② 3991 元 ③ 4001 元 ④ 4009 元
- ( ) 2. 用 4 根長 8 公分的木條，木條必須用完，可以組合成下面哪一個圖形？  
 ① 正三角形 ② 三角形 ③ 圓形 ④ 正方形
- ( ) 3. 下面何者和「5640 毫升」相等？  
 ① 50 公升 640 毫升 ② 5 公升 640 毫升  
 ③ 506 公升 40 毫升 ④ 5064 公升
- ( ) 4. 綠豆薏仁湯每 500 毫升賣 22 元，媽媽買了 1 公升的綠豆薏仁湯，要付多少元？  
 ① 22 元 ② 44 元 ③ 55 元 ④ 66 元
- ( ) 5. 一套精選 DVD 賣 1399 元，爸爸買 2 套大約花了多少元？(找最接近的答案)  
 ① 2600 元 ② 2700 元 ③ 2800 元 ④ 2900 元
- ( ) 6. 下圖中，灰色和白色的角，哪一個角度比較大？  
  
 ① 白色 ② 灰色 ③ 無法判斷 ④ 一樣大
- ( ) 7. 6 個千、14 個百和 6 個十 15 個 1 合起來是多少？  
 ① 614615 ② 7475 ③ 7575 ④ 7465

二、填入正確的答案：(每個答案 2 分，共 30 分)

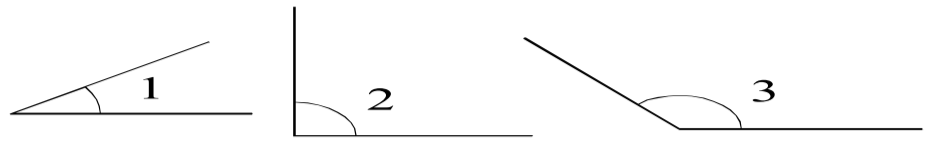
1. 先完成數線，再回答問題。



0 比 10 小，數線上 0 的位置在 10 的左邊還是右邊？( )。

2. 7004 讀做( )

3. 下面各是什麼角？(填鈍角、銳角或直角)



∠1 是( )， ∠2 是( )，  
 ∠3 是( )


4. 將 1、5、6 填入□，讓答案最大。

$$\begin{array}{r} 7 \square \square \\ \times \quad \square \\ \hline \end{array}$$

5. 在□裡填入 >、< 或 =

- (1) 七千零八十九  7708  
 (2) 1000 毫升  10 公升  
 (3) 4450  4045

6. 下面是一個三角板。



- (1) 哪個角和直角一樣大？( )  
 (2) 甲和丙比直角大或小？( )

三、用直式算算看：(每題 3 分，共 12 分)

$4800 - 1497 = ( \quad )$	$2755 + 1009 = ( \quad )$
$504 \times 7 = ( \quad )$	$725 \times 6 = ( \quad )$

四、先記錄問題，再用直式算算看：

(每題 4 分，共 20 分)

1. 渡輪一趟可以載 210 個人，8 趟可以載多少個人？

2. 湖面上天鵝的數量是綠頭鴨的 6 倍，綠頭鴨有 93 隻，天鵝有幾隻？

3. 如右圖，兩個水桶共可以裝幾公升幾毫升的水？



4. 一瓶柳橙汁 2 公升，一瓶蘋果汁 1 公升 450 毫升，兩瓶果汁相差幾毫升？

5. 果農採收 300 箱的百香果，賣出 106 箱後，還剩幾箱百香果？

五、把做法一步一步記下來：

(每題 5 分，共 10 分)

1. 信安國小有女學生 1205 人，女學生比男學生少 217 人，信安國小共有多少人？

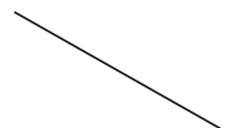
2. 一個 59 元的小披薩可以分給 4 人吃。同樂會時，老師買了 7 個小披薩，她共花了幾元？可以分給幾人吃？

六、畫出正確答案：(共 14 分)

1. 畫出 130 毫升的水量。(2 分)

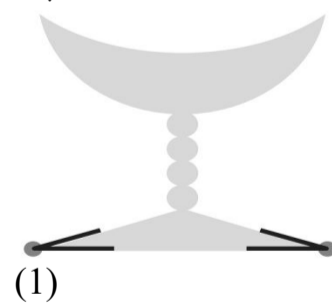


3. 以黑線為角的一邊，黑點為直角的頂點，畫出一個直角，並做上直角記號。(4 分)



3. 下面的圖形中哪裡有角？把角的頂點描黑線，角的頂點畫上黑點。(6 分)

例：



(2)



4. 用 1000、100、⊙和 ⊙畫看。 (2 分)  
3054 元