

澎湖縣白沙鄉赤崁國小 111 學年度第 1 學期數學領域期中評量試卷

二年級 姓名：_____

得分：_____

家長簽名：_____

一、按照順序填填看看。 12%

- 157 — [] — 159 — [] — []
- 142 — 152 — [] — [] — []
- 175 — 165 — [] — [] — []
- 132 — [] — 128 — [] — []

二、把數字由大到小排第一排。 8%

- 194 139 136 158

() > () > () > ()

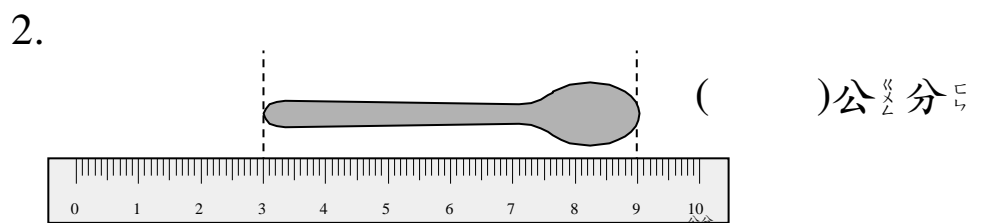
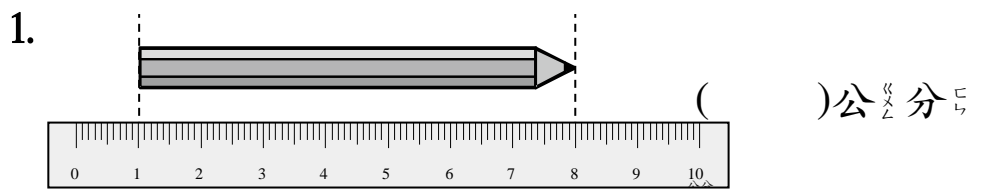
- 121 111 101 110

() > () > () > ()

三、填填看看。 14%

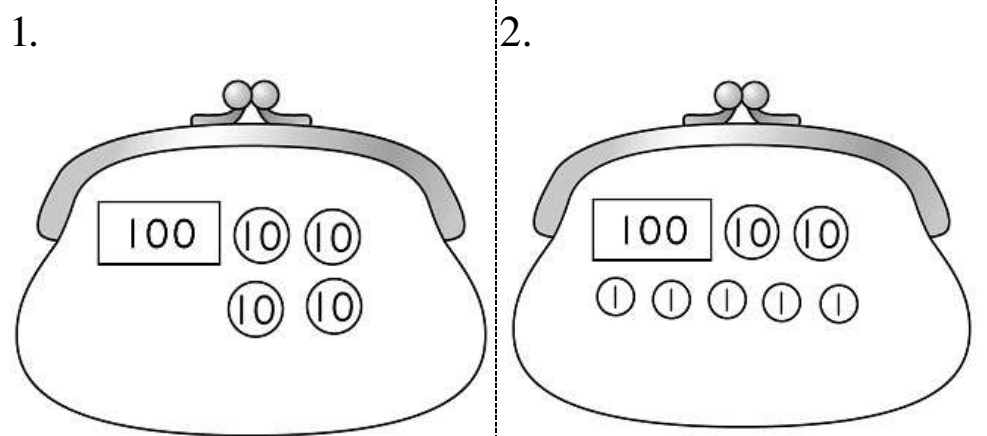
- 107 讀作 ()；190 讀作 ()。
- 任任已經存了 185 元，再存 5 元，就有 () 元；再存 10 元，就有 () 元。
- 163 的個位數字是 ()，十位數字是 ()，百位數字是 ()。
- 102 是由 () 個百、() 個十和 () 個一合起來的。
- 1 個百、2 個十和 13 個一合起來是 ()，讀作 ()。
- 小倫和小羽各拿一條繩子量黑板的長，小倫量了 15 次，小羽量了 12 次，誰拿的繩子比較長？ ()。
- 一根木棒和 6 枝鉛筆一樣長，也和 4 枝牙刷一樣長，那麼 () 比較長。(填鉛筆或牙刷)

四、有多長？ 4%



五、做做看看。 6%

錢包裡都有 200 元，用 50、10 或 1 把不夠的畫上去。



六、用直式算算看看。 12%

- | | |
|--------------------|--------------------|
| 1. $9 + 78 = ()$ | 2. $57 + 45 = ()$ |
| 3. $61 - 59 = ()$ | 4. $86 - 48 = ()$ |
| 5. $69 + 26 = ()$ | 6. $73 - 48 = ()$ |

七、以「•」為起點，用尺畫出指定長度的直線。4%

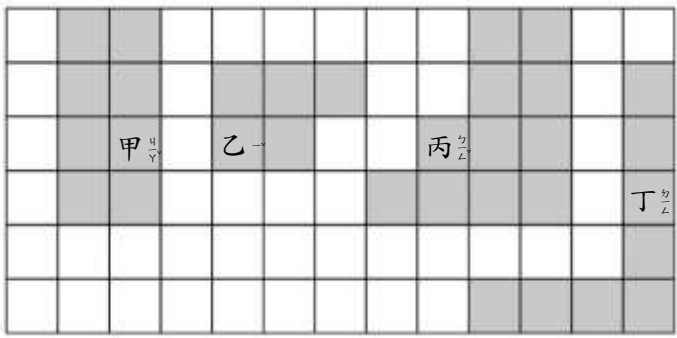
1. 5公分

•

2. 比6公分長，但是比7公分短

•

八、看圖回答問題。6%



1. 甲圖和()個□一樣大;

乙圖和()個□一樣大;

丙圖和()個□一樣大;

丁圖和()個□一樣大。

2. 哪個圖的面積最大?()圖

哪個圖的面積最小?()圖

九、寫出做法和答案，並驗算。10%

1. 小寧想摺65隻紙鶴，她已經摺好18隻了，還剩下幾隻要摺?

驗算

()隻

2. 小思買了46個茶葉蛋，分給參加活動的61個小朋友一人1個，還不夠幾個?

驗算

()個

十、用直式計算並寫出答案。24%

1. 小真把一條27公分的藍絲帶和一條19公分的紅絲帶接在一起，一共有多長?

2. 一本筆記本賣46元，小誌和小閱各買了1本，一共要付幾元?

3. 小華看了一本故事書，昨天看了82頁，今天看了43頁，剛好全部看完，故故事書一共有幾頁?

4. 小琳有70元，買爆米花用了33元後，還剩下多少錢?

5. 小涵原本有34張貼紙，綵綵再送她一些之後，全部就有65張了，請問綵綵送給小涵多少張貼紙?

6. 小照有46顆彈珠，小琥有68顆，小琥和小照的彈珠相差幾顆?