

座號：_____ 姓名：_____ 家長簽名：_____

一、勾選題：(每個答案 1 分，共 6 分)

1. 把比 18 大的數打√。

- 10 12 19 14 21 17
 () () () () () ()

二、連連看：(每個答案 2 分，共 6 分)

1. 把答案一樣的用線連起來。

9-4	10-9	3+7
6-5	8+2	1+4





三、填填看：(每個答案 2 分，共 18 分)

1. 按照順序填填看。

25 → () → () → 28 → () → ()

2. 按照事情發生的先後順序，在□裡


填上 1、2、3、4。

吃早餐 	起床 
上課 	出門上學 

3. 比 14 大，比 16 小的數是 ()。


四、畫畫看，做做看：(每個答案 2 分，共 8 分)

1. 數一數，有幾朵花？畫出相同數量的○。



有 () 朵花


2. 把 10 個蘋果圈起來，再數數看，有多少個蘋果？



有 () 個蘋果

五、看看圖填填看：(每個答案 2 分，共 34 分)

1. 排隊拿氣球。



(1) 宇宇排在第 24 個，他的前面排了 () 個人。

(2) 排在第 15 個人的後面一個，是排在第 () 個。

(3) 排在第 26 個人的前面一個，是排在第 () 個。

(4) 朋朋的前面排了 17 個人，朋朋排在第 () 個。

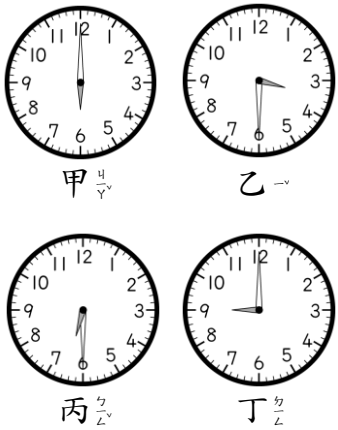
(5) 晨晨排在第 () 個。

2.



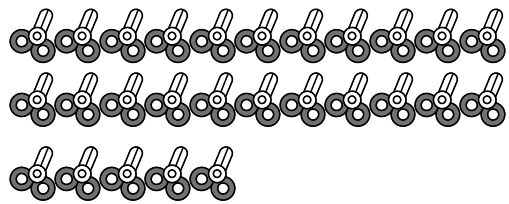
濛濛起床了，短針在()和()的中間，長針指著()，現在是上午()點半。

3. 填填看看，是哪一個鐘面的時刻？



- () (1) 芝芝上午 6 點鐘起床。
- () (2) 叻叻下午 3 點半去散步。
- () (3) 林林晚上 9 點鐘上床睡覺。
- () (4) 佳佳下午 6 點半開始吃飯。

4.




上面有()把剪刀。
 拿走一把，還有()把剪刀。
 再拿走一把，還有()把剪刀。

5. 原來有 ，吃掉 2 顆，還剩下()顆。

六、看圖回答問題：(每個答案 2 分，共 28 分)


1. 這是一天中下午的 4 個時刻，按照先後順序在()裡填上 1、2、3、4。



() () () ()

2. 鈴鈴的兩個罐子裡一共幾根棒糖？

用算式記記看。



算式：

答：()根棒糖。


3. 衣服比褲子多幾件？



算式：

答：衣服多()件。

4. 有戴帽子的比沒戴帽子的多幾個？



算式：

答：有戴帽子的多()個人。

5. 蜜蜂比蝴蝶少幾隻？



算式：

答：蜜蜂少()隻。

6. 今天的午餐有「咖喱飯」和「炒麵」兩種選擇，下圖是前一年甲班訂餐紀錄，選擇咖喱飯的人比選擇炒麵的多幾個？

咖喱飯	○○○○○○○○○○
炒麵	○○○○○

算式：

答：多()個人。