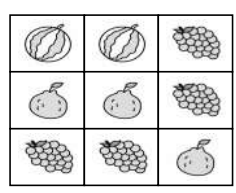


# 澎湖縣赤崁國小111學年度上學期期末學習評量三年級數學科試卷

座號：\_\_\_\_\_ 姓名：\_\_\_\_\_

## 一、選出正確答案(每題2分，共20分)：

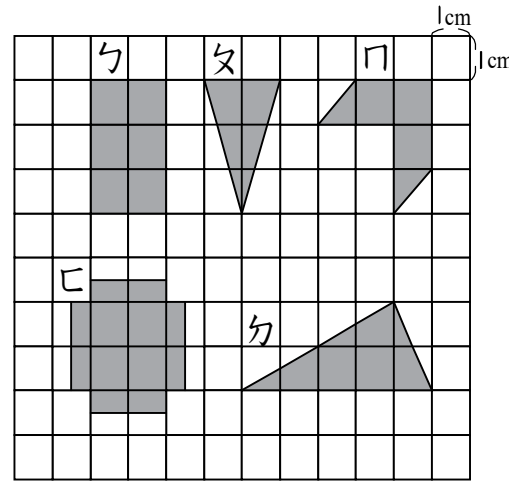
- ( ) 1. 「十分之四」寫成分數是多多少少？  
 ①  $\frac{3}{10}$  ②  $\frac{4}{10}$  ③  $\frac{13}{10}$  ④  $\frac{10}{4}$
- ( ) 2. 小宗有 28 顆草莓，每個個人分 3 顆，最後會剩下多少顆草莓？  
 ① 0 顆 ② 1 顆 ③ 2 顆 ④ 3 顆
- ( ) 3. 邊長是 1 公分的正方形面積是多多少少？  
 ① 1 平方公分 ② 10 平方公分  
 ③ 100 平方公分 ④ 1 平方公尺
- ( ) 4.  $45 \div 6 = 7 \cdots 3$ ，這個除法算式中 6 是什麼？  
 ① 被除數 ② 除數 ③ 商 ④ 餘數
- ( ) 5. 下面哪一個選項的重量最重？  
 ① 5 公斤 ② 60 公克 ③ 700 公克 ④ 8000 公克
- ( ) 6. 一包色紙有 10 張，姐姐用了  $\frac{2}{10}$  包摺青蛙，弟弟用了 2 張摺紙飛機，誰用的色紙比較多？  
 ① 姐姐 ② 弟弟 ③ 一樣多 ④ 無法比較
- ( ) 7. 一盒草莓有 12 個，10 個是幾盒草莓？  
 ①  $\frac{10}{12}$  盒 ②  $\frac{12}{10}$  盒 ③  $\frac{10}{2}$  盒 ④  $\frac{2}{10}$  盒
- ( ) 8. 圖中是一塊土地，平分成 9 份，種葡萄的面積是多多少少塊土地？  
 ①  $\frac{2}{9}$  塊 ②  $\frac{3}{9}$  塊 ③  $\frac{4}{9}$  塊 ④  $\frac{5}{9}$  塊
- ( ) 9. 一輛小巴士可以坐 6 個人，58 個人最少要幾輛小巴士才會夠坐？  
 ① 6 輛 ② 8 輛 ③ 10 輛 ④ 12 輛
- ( ) 10. 除法算式中，當除數是 5 時，餘數最大是多多少少？  
 ① 6 ② 5 ③ 4 ④ 0

## 二、填入正確答案(每個答案 1 分，共 28 分)：

1. 下面哪些數是奇數？哪些是偶數？  
 68    43    205    950  
 (1) 奇數：( )  
 (2) 偶數：( )
2. 按照順序填一填。  
 $\frac{1}{7} \rightarrow \frac{2}{7} \rightarrow ( ) \rightarrow ( ) \rightarrow \frac{5}{7} \rightarrow ( )$   
 其中“7”叫做( ) (填入分子或分母)
3. 把一條長 1 公尺的彩帶平分成 10 等份。  
 10 個  $\frac{1}{10}$  公尺合起來是( )公尺。

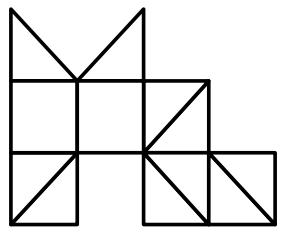
4. 下圖是一張平方公分板，鋪色部分的面積各是多多少平方公分？

- (1) ㄅ：( ) 平方公分  
 (2) ㄆ：( ) 平方公分  
 (3) ㄇ：( ) 平方公分  
 (4) 最大和最小相差  
 ( ) 平方公分



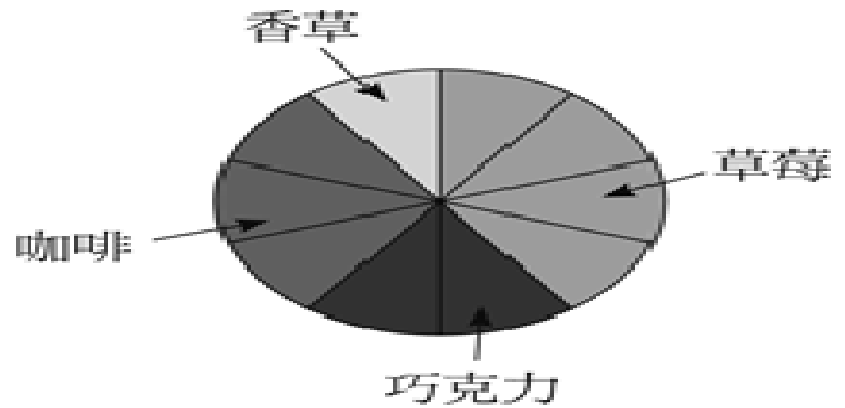
5. 右圖形是用  $\square$  和  $\triangle$  組成的，

$\square$  的面積是  $\triangle$  的 2 倍。



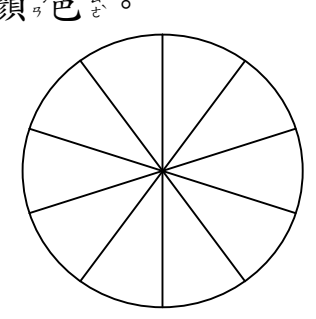


一共用了( )個  $\square$  和( )個  $\triangle$ ，  
 它的面積和( )個  $\square$  的面積一樣大。

6. 下圖是一個蛋糕，分成 10 片。



- (1) 巧克力口味有( )片，是( )個蛋糕。  
 (2) 咖啡口味有( )片，是( )個蛋糕。  
 (3) 香草口味有( )片，是( )個蛋糕。  
 (4) 草莓口味有( )片，是( )個蛋糕。

7. 依提示做答。

<p>把 <math>\frac{6}{10}</math> 塊披薩塗上顏色。</p> 	<p>塗一塗，再比比看，在 <math>\square</math> 裡填入 <math>&gt;</math>、<math>&lt;</math> 或 <math>=</math>。</p> <div style="display: flex; justify-content: space-around;"> <div style="border: 1px solid black; padding: 2px;">  </div> <div style="border: 1px solid black; padding: 2px;">  </div> </div> <p><math>\frac{5}{12}</math> 盒 <math>\square</math> 8 顆</p>
---	---

### 三、用直式算算(每題3分,共12分)

(1)  $51 \div 8 = ( \quad )$  (2)  $67 \div 9 = ( \quad )$

(3)  $1 \text{ 公 斤 } 50 \text{ 公 克 } + 60 \text{ 公 克}$   
 $= ( \quad ) \text{ 公 斤 } ( \quad ) \text{ 公 克}$

(4)  $3 \text{ 公 斤 } 44 \text{ 公 克 } - 298 \text{ 公 克}$   
 $= ( \quad ) \text{ 公 斤 } ( \quad ) \text{ 公 克}$

### 四、先記錄問題,再用直式算算看(每題5分,共30分)

1. 老師請46個小朋友吃布丁, 一個人吃1個。一盒布丁有6個, 老師最少要買幾盒布丁才夠呢?

2. 一盒餅乾有68片, 把餅乾平分給7人, 盡量分完, 每人有多少片餅乾? 還剩下幾片餅乾?

3. 草莓連箱子共重2公斤550公克, 箱子重385公克, 草莓重幾公斤幾公克?

4. 爺爺把35枚代幣平分給4個孫子, 盡量分完, 每個孫子可以分到幾枚代幣? 還剩下幾枚代幣?

5. 有68個蘋果, 每8個裝一盒, 全部裝最多可以裝滿幾盒?

6. 有一個空籃子重800公克, 放入蘋果, 蘋果重600公克, 這籃蘋果總共重幾公斤幾公克?

### 五、填填看, 再畫畫看(每個答案2分,共10分)

(1) 填入「公斤」或「公克」。

Kg 中文名稱是 ( )

空書包大約重 720 ( )。

王小明體重是 29 ( )

(2) 畫出指定的重量

