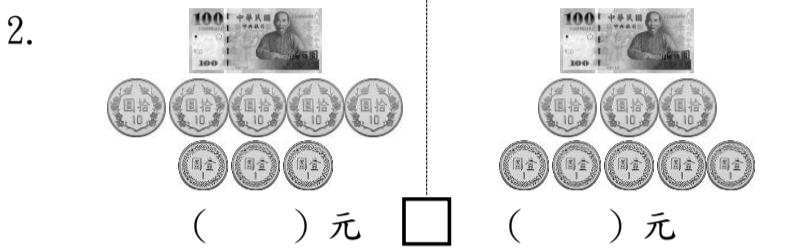
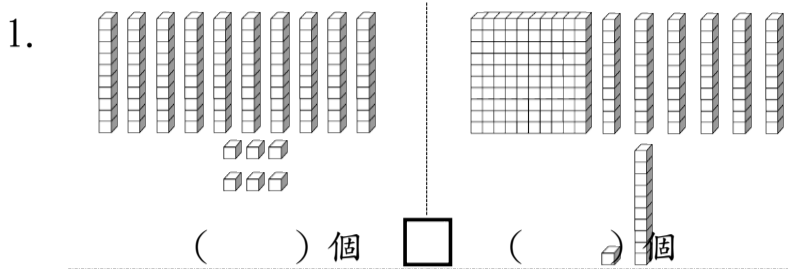


二年級 姓名：_____

一、有多多少少？填填看看，並在□中填入 <、> 或 =：12%



二、按照數字的大小順序填填看看。10%

1. 130 - 140 - _____ - 160 - _____ - 180

2. 125 - 130 - _____ - _____ - 145 - 150

3. 165 - 166 - 167 - _____ - _____ - _____

4. 123 - 133 - _____ - _____ - 163 - _____

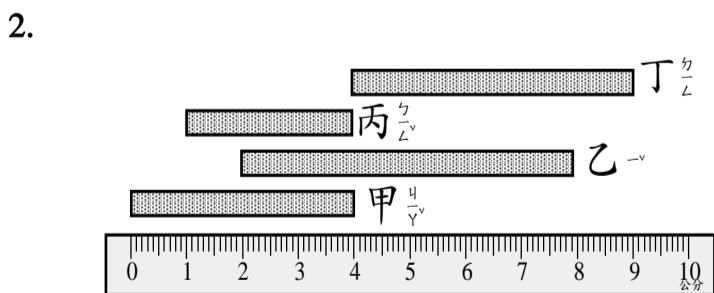
三、看看圖回答問題？7%



(1) ㄅ 大約長 () 公分。

(2) ㄇ 大約長 () 公分。

(3) ㄆ 和 ㄇ 共長大約 () 公分。



(1) 甲 長 () 公分。

(2) 乙 長 () 公分。

(3) 丙 長 () 公分。

(4) 丁 長 () 公分。

四、填填看看，圈一圈。8%

1. 142 是 () 個一、() 個十和 () 個百合起來的。

2. 127 中，數字 2 在 () 位，表示有 2 個 ()。

3. 1 個百和 18 個一合起來是 ()。

4. 圈出十位數字是 6 的數。

【60、86、90、168、126】

五、寫成直式計算看看。12%

1. $32 + 14 = ()$ 2. $149 - 34 = ()$ 3. $9 + 47 = ()$

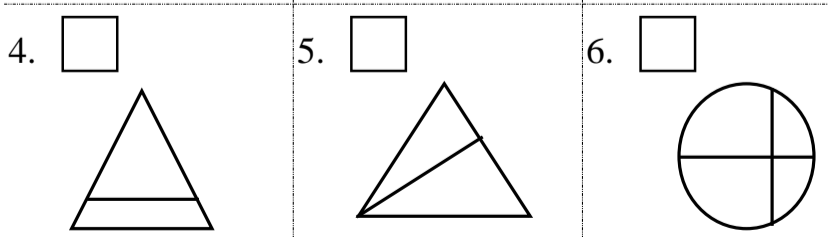
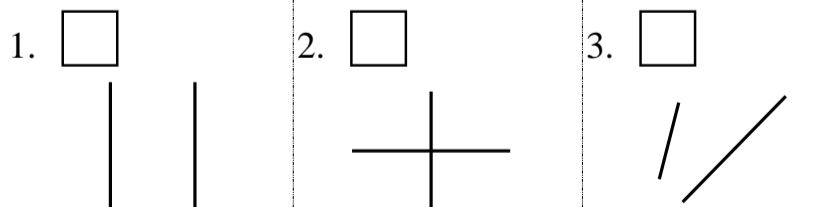
4. $63 - 45 = ()$ 5. $86 + 24 = ()$ 6. $90 - 52 = ()$

六、估估看看，哪一個數最接近正確答案？在□裡打√。8%

1. $39 + 29 = ?$ 2. $62 + 38 = ?$
 50 60 70 90 100 110

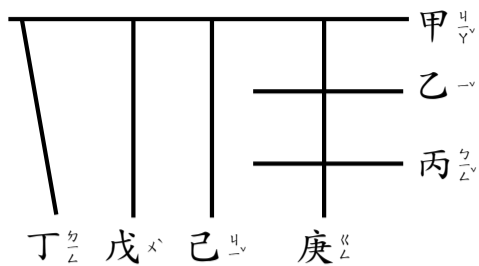
3. $71 - 39 = ?$ 4. $92 - 18 = ?$
 50 40 30 80 70 60

七、下圖中，有平行現象的在□裡打√，有垂直現象的在□裡畫○。6%



八、看圖填一填？ 9%

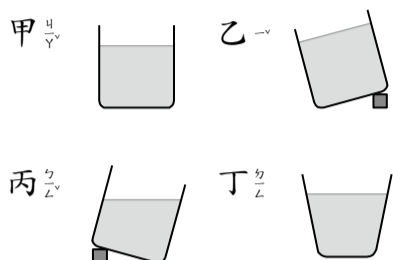
1.



(1) 上圖中哪些是水平線？ ()

(2) 上圖中哪些是鉛直線？ ()

2.



上圖中哪些容器的水平面是正確的？

請將代號寫出來。()。

九、用 100、10 和 1 畫畫看看，再把比較多的在方格中打✓： 6%

1.	131		123	
2.	141		138	

十、在 () 中填入 <、> 或 =： 4%

1. 68 () $30 + 38$

2. $63 + 39$ () $41 + 63$

3. $92 - 46$ () 42

4. $87 - 26$ () $61 - 26$

十一、先列橫式，再用直式計算看看，然後把答案記下來。 18%

1. 一包花枝丸有 78 顆，媽媽買了 2 包，一共有多少顆花枝丸？

答：() 顆

2. 在 72、81、59、66、75 這五個數中，最大的數和最小的數相差多少？

答：相差 ()

3. 小安有 55 元，小豪有 66 元，兩人合買一個 73 元的禮物後，還剩下多少元？

答：剩下 () 元

4. 麵包店做了 50 條吐司機，上午賣了 31 條，下午又做了 25 條，現在共有幾條吐司機？

答：有 () 條

5. 爺爺今年 76 歲，爸爸比爺爺少 33 歲，爸爸比叔叔多 12 歲，叔叔今年幾歲？

答：() 歲

6. 小育有 35 張遊戲卡，小鈞的遊戲卡比小育多 25 張，兩人一共有幾張遊戲卡？

答：() 張