

一、是非題：(每題 2 分，共 30 分)

- ( ) 1. 臺灣因受到非洲板塊與菲律賓海板塊的推擠，地震頻繁。
- ( ) 2. 澎湖群島是位於臺灣島東方的離島。
- ( ) 3. 臺灣積極發展遠洋漁業，漁獲量產值高，是重要的經濟來源。
- ( ) 4. 受地理位置影響，黑面琵鷺冬季時會飛來臺灣過冬，隔年春天再返回北方。
- ( ) 5. 臺灣的地形通常被分為山地、丘陵、高原、盆地和平原五大地形。
- ( ) 6. 位於雪霸國家公園內的大霸尖山，地形平坦，開發較便利，是人口聚居的地方。
- ( ) 7. 丘陵地形多種植高價值作物，如新北市坪林區的居民即生產「文山包種茶」。
- ( ) 8. 「四周被山地、丘陵或臺地包圍而中央低平」是盆地地形的主要特徵。
- ( ) 9. 臺灣的五座山脈中，海拔高度最高的是玉山主峰。
- ( ) 10. 臺窩灣是臺灣的舊稱之一。
- ( ) 11. 清朝將臺灣納入統治後，設臺灣府，「臺灣」成為正式的官方名稱。
- ( ) 12. 在人類歷史上，一般將還沒有文字紀錄的時代稱為「史前時期」。
- ( ) 13. 西元 1895 年，清朝依據馬關條約，將臺灣割讓給日本。
- ( ) 14. 卑南文化是臺灣目前挖掘到最早的文化遺址。
- ( ) 15. 舊石器和新石器時期的區分依據是石器花紋的不同。

二、選擇題：(每題 2 分，共 34 分)

- ( ) 1. 下列哪一個不是臺灣島周圍的海域？  
①印度洋 ②太平洋 ③臺灣海峽 ④巴士海峽
- ( ) 2. 下列哪一個地區隔著臺灣海峽與臺灣相望？  
①泰國 ②中國大陸 ③日本 ④菲律賓
- ( ) 3. 下列哪一個不是臺灣鄰近的海域？  
①太平洋 ②大西洋 ③巴士海峽 ④臺灣海峽
- ( ) 4. 臺灣本島與離島的總面積約是多少？  
①260 平方公尺 ②36000 平方公尺 ③36000 平方公里 ④46000 平方公里
- ( ) 5. 臺灣四面環海，哪一項不是利用這項特色發展的產業？  
①採礦業 ②海洋科技 ③海外貿易 ④遠洋漁業
- ( ) 6. 下列哪一條經緯線將地球畫分成東半球和西半球？  
①0 度緯線 ②0 度經線 ③赤道 ④北回歸線
- ( ) 7. 在丘陵地形上不適合從事哪一種產業活動？  
①箱網養殖 ②種植茶葉 ③開闢薰衣草田 ④栽培藥用植物

- ( ) 8. 下列哪一種產業型態較可能在臺中市新社區見到？  
①鹽田 ②蚵田 ③薰衣草田 ④箱網養殖
- ( ) 9. 「澎湖是夏季著名的觀光景點，但到了冬季，受到季風影響，觀光人潮就相對減少。」依上文敘述，冬季影響澎湖的季風是下列哪一個？  
①東北季風 ②西南季風 ③東南季風 ④西北季風
- ( ) 10. 下列哪一個不是影響臺灣本島各地氣候差異的因素？  
①緯度不同 ②季風風向不同 ③人口密度不同 ④地形種類不同
- ( ) 11. 下列哪一個是新北市三峽老街設有騎樓的原因？  
①阻隔強風 ②防止溼氣入侵 ③避免陽光直射 ④方便人們在雨天活動
- ( ) 12. 下列哪一種不屬於臺灣河川的特性？  
①流量變化小 ②流速快 ③坡度陡 ④長度短
- ( ) 13. 下列哪一個屬於長濱文化的特色？  
①搭建竹屋 ②生火烤魚 ③磨製石器 ④畜養家畜
- ( ) 14. 下列哪一個是卑南文化人們的生活情形？  
①多利用敲打方式製作石器 ②使用鐵製品 ③以玉器飾品殉葬 ④和漢人進行交易
- ( ) 15. 下列對金屬器時期的敘述，哪一項錯誤？  
①已有煉鐵技術 ②製陶技術優異 ③農耕與漁獵並重 ④人們多居住在山洞
- ( ) 16. 「小惠在一本敘述臺灣史前文化的書籍中，看見一張從某個遺址出土的中國大陸錢幣的圖片。」依上文判斷，小惠所翻閱的是下列哪一個史前文化的介紹？  
①長濱文化 ②圓山文化 ③大坌坑文化 ④十三行文化
- ( ) 17. 關於平埔族的特色，哪一項敘述錯誤？  
①長期與漢人通婚 ②與漢人接觸較早 ③主要居住在西部沿海平原 ④多保有傳統的生活習慣

三、連連看：

下列英文字母各代表哪一種經緯線？  
(每題 1 分，共 4 分)

- ①E •                      • ㄅ. 北緯
- ②W •                      • ㄆ. 東經
- ③N •                      • ㄇ. 西經
- ④S •                      • ㄊ. 南緯

四、填充題：(每格1分，共32分)

1. 錢多多電視臺正在舉辦「臺灣史達人獎金挑戰賽」，參賽者只要完成臺灣歷史分期的排序，就可以獲得冠軍，將下列依先後順序，在( )填入1~6：

( ) ㄅ. 清領時期 ( ) ㄆ. 荷西時期

( ) ㄇ. 鄭氏時期 ( ) ㄊ. 戰後時期

( ) ㄋ. 日治時期 ( ) ㄌ. 史前時期

2. 下列分別是哪一個原住民族的祭典活動？將代號填入( )裡：

ㄅ. 布農族 ㄆ. 太魯閣族 ㄇ. 賽夏族 ㄊ. 雅美族

( ) (1) 跳口簧琴舞尋找喜歡的對象。

( ) (2) 舉辦矮靈祭以慰藉矮黑人的靈魂。

( ) (3) 以八部合音唱出祈禱小米豐收歌。

( ) (4) 舉行大船下水祭以迎接飛魚季的到來。

3. 環島旅行結束後，小宏想要以離島為主題規畫下一次的旅行，於是他在網路上找到臺灣幾個離島的資料。

(1) 從資料中，可以發現離島的特色各不相同，小宏決定先以島嶼的形成原因來區分，請幫小宏將下面島嶼進行分類，在( )裡填入符合的島嶼名稱。

金門	馬祖	澎湖	龜山島
綠島	蘭嶼	東沙島	琉球嶼

①火山島：

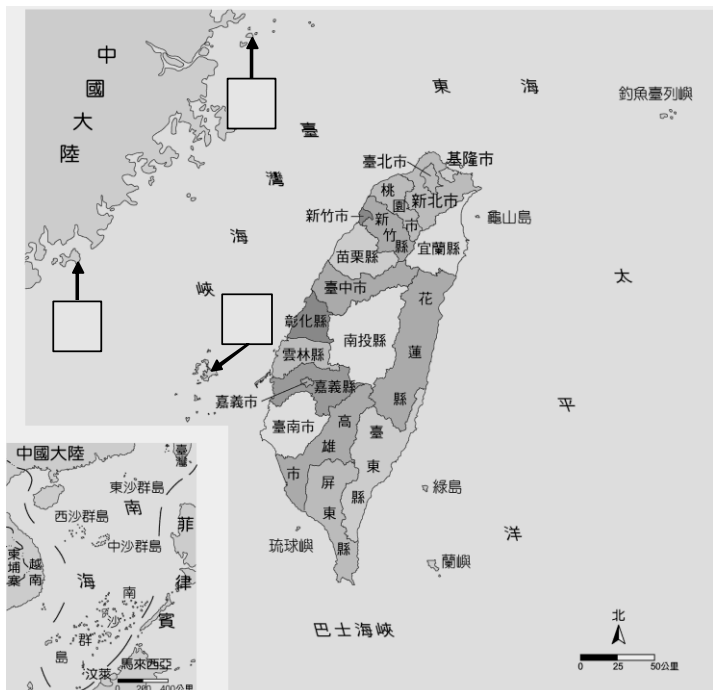

( )、( )、( )、( )。

②珊瑚礁島：

( )、( )。

③大陸島：金門、馬祖。

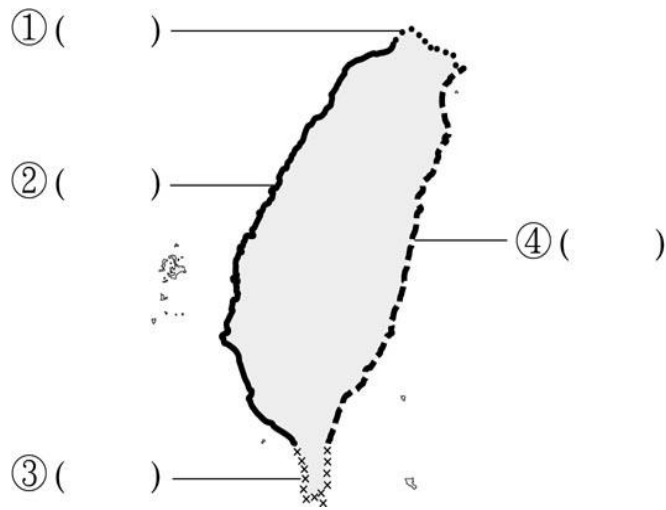
(2) 小宏從網路上搜尋到幾張喜歡的離島風景照，決定下一次旅行要優先到他挑選的這些地方，請你觀察以下圖片推測小宏將要規畫的離島旅遊地點，將符合的代號填入地圖上的空格。



4. 下列線段各代表哪種海岸類型？將代號填入( )裡：

ㄅ. 沙岸 ㄆ. 斷層海岸

ㄇ. 岩岸 ㄊ. 珊瑚礁海岸



5. 阿北觀賞「看見台灣」這部紀錄片後，對臺灣的自然環境有了更深入的了解。下列有關這部紀錄片的敘述，哪些是正確的？將在( )裡打✓

( ) ① 想藉由這部紀錄片讓人們更加愛護臺灣。

( ) ② 主要在介紹臺灣的美麗景觀及原住民的優美歌聲。

( ) ③ 意外揭發工廠排放廢水污染後勁溪。

( ) ④ 促使民眾關注經濟開發與環境保護間平衡的重要。

6. 住在臺灣的義玄透過網路認識了許多國外的朋友，並邀請這些朋友分享他們的「臺灣印象」。下列是義玄的朋友對臺灣的敘述，哪些正確？

( ) ① 威廉：「臺灣地區除了臺灣本島外，還包括綠島、蘭嶼等離島。」

( ) ② 太郎：「臺灣西方隔著巴士海峽與中國大陸相望。」

( ) ③ 善珠：「臺灣的海洋資源豐富，近年來開始發展海上觀光旅遊活動，利用賞鯨船帶遊客到東部外海觀賞鯨豚。」

( ) ④ 阿里：「臺灣位處交通要道，是西北亞與西南亞空運的重要樞紐之一。」

( ) ⑤ 和子：「臺灣四面環海，近年來致力推動海洋科技與近海養殖。」

★ 題目到此結束，請記得檢查！