

澎湖縣白沙鄉赤崁國小一〇八學年度第一學期三年級數學期中考試卷

範圍：第一～五單元

座號：_____ 姓名：_____ 得分：_____

一、列出直式算算看：(每題3分，共15分)

(1) $3319 + 682 = (\quad)$ (2) $700 - 566 = (\quad)$

(3) $6060 - 3344 = (\quad)$ (4) $82 \times 9 = (\quad)$

(5) $507 \times 6 = (\quad)$

二、填填看：(每格2分，共28分)

(1) 3 個千、5 個百、8 個十和 12 個一合起來是 ()。

(2) 按照順序填填看。

$7803 \rightarrow 7903 \rightarrow (\quad) \rightarrow (\quad) \rightarrow 8203$

(3) 定數位板上上的四位数可能比 2568 少？由小到大大寫出 3 個比 2568 小的數。() < () < ()

千位	百位	十位	個位
2	?	6	8

(4) $6 \times 7 = 42$ ，想一想，填入下列兩題的答案。

① $60 \times 7 = (\quad)$

② $600 \times 7 = (\quad)$

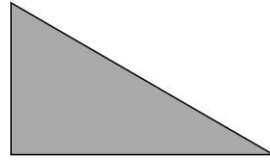
(5) 在 \square 裡填入 $>$ 、 $<$ 或 $=$

① $45 \times 7 \square 45 \times 5$

② $210 \times 8 \square 220 \times 9$

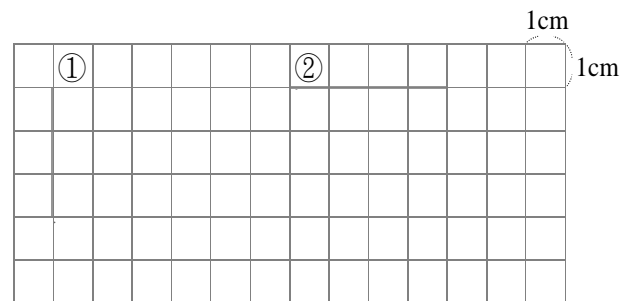
③ $105 \times 6 \square 205 \times 4$

(6) 下圖的圖形中，有 () 個角比直角大，有 () 個角是直角，有 () 個角比直角小。



三、畫畫看，做做看：(共25分)

1. 用下面方格中的線作一條邊，畫出 ① 一個正方形和 ② 一個長方形，並在它們的直角處標示 \perp 記號。(共 8 分)

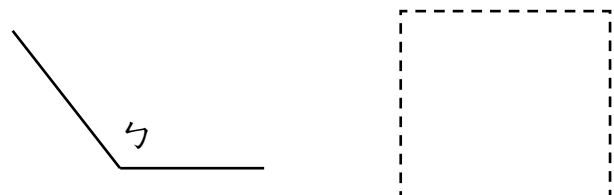


2. (1) 把圖形的周界描下來。(2 分)

(2) 在圖形的周界上畫出 3 個內部的點和 4 個外部的點，並畫出 5 個點。(3 分)




3. 在虛線框內畫出一個比 \sphericalangle 小的角。(2 分)



背面還有題目，加油！

4. 叔叔買了一臺音響 6345 元，怎麼付錢才會剛好？用 1000、100、10 和 1 畫畫看看。(10 分)



共畫了 () 個 1000、() 個 100、() 個 10 和 () 個 1。

四、應用題：(每題4分，共32分)

1. 農場上有 935 隻鴨子，鵝比鴨子少 178 隻，農場上有幾隻鵝？

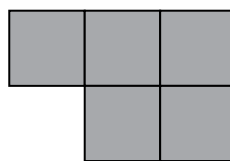
2. 電影院上星期賣出 6815 張電影票，這星期比上星期多賣出 1377 張，這星期賣出幾張電影票？

3. 一箱優酪乳有 24 瓶，5 箱優酪乳共有多少瓶？

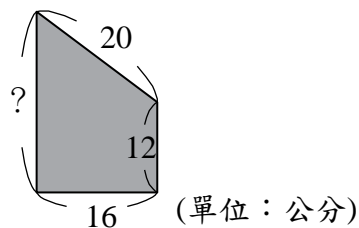
4. 一箱蘋果有 350 顆，8 箱共有多少顆蘋果？

5. 思帆有 55 元，慧瑄的錢是思帆的 3 倍，老師的錢是慧瑄的 9 倍，老師有幾元？

6. 下圖是用相同的小正方形拼成的，小正方形拼布的一邊長是 5 公分，它的周長是多少公分？



7. 下圖的周長是 72 公分，「？」的長度是多少公分？



8. 便利商店推出集點活動，購物滿 77 元可集一點，集滿 8 點可換吊飾一個。廖睿想換一個吊飾，她至少要在便利商店消費多少元呢？



恭喜你完成，請再仔細檢查!