

座號：\_\_\_\_\_ 姓名：\_\_\_\_\_ 家長簽名：\_\_\_\_\_

一、圈圈看看：(每個答案 2 分，共 6 分)


1. 有 17 張色紙和 19 個小朋友，一個人拿 1 張，色紙夠不夠？

( 夠，不夠 )

2. 老師買了 25 枝筆，有 24 個小朋友，每個小朋友分一枝，筆夠不夠？

( 夠，不夠 )

3. 現在是什麼時候？把對的答圈起來。



中午  
12 點鐘

晚上  
12 點鐘

二、比比看看，最大的數打✓，最小的數打×：(每個答案 2 分，共 8 分)

1.

( )	( )	( )

2.

( )	( )	( )

三、計算題：(每個答案 2 分，共 10 分)

- $10 - 7 = ( \quad )$
- $5 - 0 = ( \quad )$
- $7 - 7 = ( \quad )$
- $4 + 5 = ( \quad )$
- $7 + 3 = ( \quad )$

四、應用題：(每個答案 4 分，共 24 分)

1. 教室裡有 6 顆排球和 9 顆籃球，籃球比排球多幾顆？

算式：

答：多 ( ) 顆

2. 小杰買了 7 顆芭樂和 3 顆蘋果，蘋果比芭樂少幾顆？

算式：

答：少 ( ) 顆

3. 小安有 8 顆糖果和 2 顆巧克力，糖果比巧克力多幾顆？

算式：

答：多 ( ) 顆

4. 小嘉摺了 6 件衣服，又摺了 2 件，小嘉一共摺了幾件衣服？

算式：

答：( ) 件衣服

5. 小辰有 8 個果凍，送給小凱 8 個，小辰還剩下幾個果凍？

算式：

答：( ) 個果凍

6. 小龍有 5 張貼紙，小澄也有 5 張貼紙，

合起來一共有幾張貼紙？

算式：


答：( ) 張貼紙

五、填填看看：(每個答案 2 分，共 16 分)

1. 按照順序填填看。

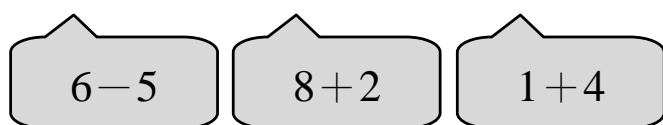
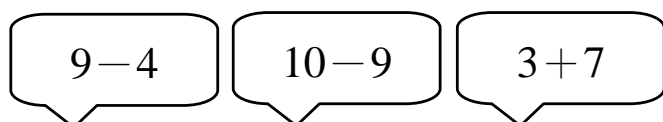
21 → ( ) → ( ) → 18 → ( ) → ( )

2. 按照事情發生的先後順序，在  裡填上 1、2、3、4。



六、連連看看：(每個答案 2 分，共 6 分)


1. 把答案一樣的可連起來。



七、看看圖回答問題：(每題 2 分，共 4 分)


1. 10 個、10 個圈起來，再寫出數量。

(1)



( ) 顆

(2)



( ) 顆

八、勾選題：(每個答案 2 分，共 10 分)

1. 把比 18 大的數打 。



( ) ( ) ( ) ( ) ( )

2. 在正確的  裡打 。


(1)



9 點半

8 點半

(2)



1 點半

1 點鐘

(3)



11 點半

12 點半

九、看看圖填填看看：(每個答案 2 分，共 16 分)

1.




小成起床了，短針在 ( ) 和 ( )

的中間，長針指著 ( )，是上午

( ) 點半。

2. 排隊拿氣球。



(1) 威威排在第24個，他的前面排了( )個人。

(2) 排在第15個人的後面第一個  
人，是排在第( )個。

(3) 排在第26個人的前面第一個  
人，是排在第( )個。

(4) 羽彤排在第( )個。