
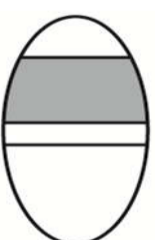

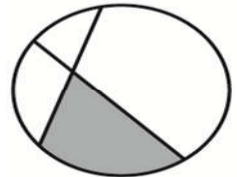


# 澎湖縣白沙鄉赤崁國小 109 學年度第一學期三年級數學科期末綜合評量

## 三年甲班 號 姓名：

### 一、選擇題：(每題 3 分，共 30 分)

- ( ) 1. 花店裡原有 1055 朵紅玫瑰和 1266 朵黃玫瑰，賣出 975 朵玫瑰後，還剩下幾朵玫瑰？  
 ①764 朵 ②1186 朵 ③1346 朵 ④3296 朵
- ( ) 2. 圓規打開 11 公分，畫一個圓，這個圓的直徑是多少公分？  
 ①11 公分 ②22 公分 ③33 公分 ④44 公分
- ( ) 3. 一盒水蜜桃禮盒有 6 顆，其中 1 顆水蜜桃是幾盒？  
 ① $\frac{1}{6}$  盒 ② $\frac{6}{1}$  盒 ③ $\frac{1}{5}$  盒 ④ $\frac{1}{7}$  盒
- ( ) 4. 一張長椅可以坐 7 個小朋友，二年一班有 45 個小朋友，最少要幾張長椅才夠坐？  
 ①4 張 ②5 張 ③6 張 ④7 張
- ( ) 5. 一條魚重 1300 公克，一塊豬肉重 1 公斤 450 公克，一塊豬肉比一條魚重多少公克？  
 ①750 公克 ②250 公克 ③150 公克 ④50 公克
- ( ) 6. 參加賽跑的學生中，男生有 149 位，男生比女生多 26 位，全部有多少位學生參加賽跑？  
 ①324 位 ②272 位 ③424 位 ④372 位
- ( ) 7. 除法算式中，當除數是 5 時，餘數最大是多少？  
 ①5 ②6 ③4 ④0
- ( ) 8. 一盒布丁有 3 個，有 25 個人，至少要買幾盒才夠一人分一個？  
 ①7 盒 ②8 盒 ③9 盒 ④10 盒
- ( ) 9. 下面哪一個塗色部分是平均分成 4 份中的一份呢？  
 ①  ② 
- ③  ④ 
- ( ) 10. 下面哪一個選項的重量最重？  
 ①5 公斤 ②60 公克 ③700 公克 ④8000 公克

### 二、圈圈看：(共 3 分)

1. 「四分之三」的記法是  $(\frac{4}{1}, \frac{1}{4})$ 。(1 分)
2. 有 36 個銅鑼燒，平均分裝成 4 盒，每盒裝銅鑼燒的數量是(奇數, 偶數)。(2 分)

### 三、畫畫看，做做看：(共 11 分)

1. 用圓規畫出直徑 4 公分的圓，並寫上圓心、半徑與直徑。(8 分)

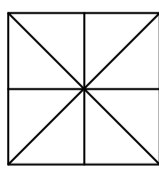



2. 用圓規在下面的灰色線上，畫一條線是甲線的 2 倍長。(3 分)

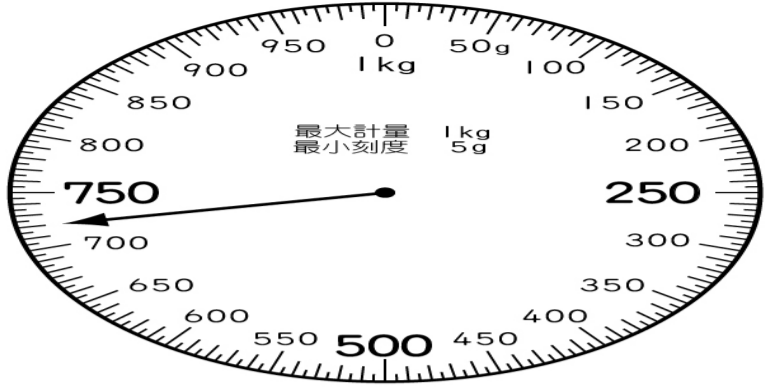
### 四、看圖填填看：(每個答案 2 分，共 14 分)

1.

蠟筆盒 56 元	鉛筆盒 95 元	水彩筆 106 元
彩色筆 125 元	故事書 196 元	字典 298 元

- (1) 彩妍有 200 元，她可同時買鉛筆盒和( )。
- (2) 李哲有 300 元，夠不夠買 1 個鉛筆盒和 1 本故事書？( )
- (3) 菲菲想買 1 本故事書和 1 本字典，她最少要拿出( )張 100 元。
- (4) 柏君買了鉛筆盒、水彩筆和彩色筆，一共要付( )元。
2. 這一張色紙平均分成( )份。  

3. 一條彩帶平均分成 3 段，塗色部分是( )條彩帶。  


4. 指針指的位置是( )公克



五、用直式算算看：(每題3分，共12分)

1.  $32 \div 4 = (\quad) \cdots (\quad)$     2.  $56 \div 9 = (\quad) \cdots (\quad)$

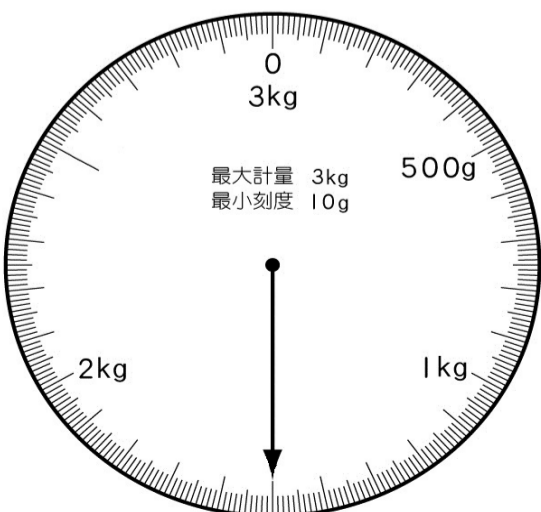
3.  $1 \text{ 公斤 } 50 \text{ 公克 } + 60 \text{ 公克}$   
 $= (\quad) \text{ 公斤 } (\quad) \text{ 公克}$

4.  $5 \text{ 公斤 } 40 \text{ 公克 } - 2 \text{ 公斤 } 80 \text{ 公克}$   
 $= (\quad) \text{ 公斤 } (\quad) \text{ 公克}$

六、把算式和答案記下來：(每題5分，共20分)

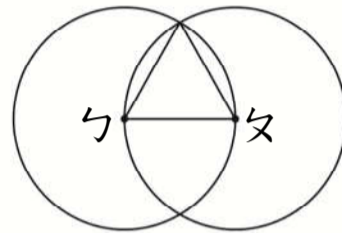
1. 有47位旅客要乘車，如果每輛車只能乘坐5人，全部旅客要乘坐，共需要幾輛車才夠呢？

2. 一籃水果連籃子共重1640公克，水果的重量如秤面所示，籃子重量是多少公克？



3. 小美帶50元去買玫瑰花，她最多可以買幾朵7元的玫瑰花？還差幾元就可以再買一朵？

4. 下圖中兩個圓的直徑都是6公分， $\text{O}$ 和 $\text{O}'$ 是圓心，求三角形的周長是多少公分？



七、把問題用一個算式先記下來，再用逐次減項算算看：(每題5分，共10分)

1. 老師有1200張色紙，發給甲班368張，發給乙班356張，剩下都發給丙班，丙班拿到幾張色紙？

2. 一本故事書賣385元，一本故事書比一套文具組便宜470元，買一本故事書和一套文具組，共要多少元？