

一、選擇題：每題 2 分、共 10 分

- ( ) 1. 下列哪一種不屬於農漁牧業的產業活動？  
 ①收割稻子 ②養殖水產  
 ③醃製芥菜 ④飼養牛羊
- ( ) 2. 下列哪一種不屬於服務業的工作人員？  
 ①便利商店店員 ②醫生  
 ③食品包裝員 ④計程車司機
- ( ) 3. 日月潭附近成立了數座水力發電廠，這是屬於自然資源與哪一方面結合所發展出不同功能的情形？  
 ①交通 ②觀光  
 ③教育 ④科技
- ( ) 4. 下列哪一個是家鄉產業所發展出的新興職業？  
 ①家事管理員 ②農夫  
 ③教師 ④護理師
- ( ) 5. 下列哪一個不是造成土地污染的原因？  
 ①發展有機農業 ②傾倒有毒廢棄物  
 ③使用農藥 ④使用化學肥料

二、是非題：每題 2 分、共 10 分

- ( ) 1. 早期，人們從事商業、服務業，隨著技術進步而發展農漁牧業。
- ( ) 2. 網友看不到自己，因此可以使用假造的身分欺騙對方。
- ( ) 3. 不當的開發不僅會破壞環境，還可能造成災害，危及居民的生命和財產。
- ( ) 4. 利用風力及太陽能發電取代燃燒煤炭發電，有助於減少環境污染。
- ( ) 5. 購買具有節能標章的電器用品，是愛護家鄉資源的表現。

三、連連看：每條 2 分、共 16 分

1. 生活中，需要許多人提供各種服務，才能滿足需求。下列從業人員各提供哪種服務？

- |      |   |          |
|------|---|----------|
| 教師   | • | • 交通運輸服務 |
| 銀行職員 | • | • 醫療保健服務 |
| 公車司機 | • | • 金融保險服務 |
| 醫護人員 | • | • 教育服務   |

2. 下列各是哪一種自然資源的功能？

- |      |   |        |
|------|---|--------|
| 發電   | • |        |
| 保護土壤 | • | • 水資源  |
| 淨化空氣 | • | • 森林資源 |
| 養殖魚蝦 | • |        |

五、填充題：每格 2 分、共 24 分

1. 下列人員所從事的工作分別屬於哪一種產業？將符合的代號填入( )裡：  
 ㄅ. 農漁牧業 ㄆ. 製造業 ㄇ. 服務業  
 ( ) ①廖伯伯種植芒果。  
 ( ) ②洪先生在才藝班教小提琴。  
 ( ) ③許阿姨在夜市擺攤賣襪子。  
 ( ) ④鍾叔叔將豬肉跟高麗菜加工製成冷凍水餃。
2. 下列敘述各屬於哪一種自然資源的功能？將代號填入( )裡：  
 ㄅ. 土地資源 ㄆ. 水資源 ㄇ. 森林資源  
 ( ) ①灌溉農田。  
 ( ) ②淨化空氣。  
 ( ) ③提供人們居住。  
 ( ) ④提供生活用水。
3. 敦仁想利用現代科技保護家鄉的自然資源，下列資料分別是他使用哪一種設備觀察或檢測後所得到的結果？將代號填入( )裡：  
 ㄅ. 土壤檢測設備 ㄆ. 水質檢測設備  
 ㄇ. 行動式土石流觀測站  
 ( ) ①雨量多寡。  
 ( ) ②河川水質狀況。  
 ( ) ③山坡土石的滑動情形。  
 ( ) ④土壤被重金屬污染的程度。

六、圖表題：每格 2 分、共 12 分

1. 下列哪些是早期家鄉居民取得生活用水的方式？在□裡打✓：



2. 閱讀下方統計表後回答問題，圈出正確的答案：  
 根據統計，近幾年國民的平均壽命呈現(增加/降低)的現象，這應該與(通訊技術/醫療技術)進步有關。

年度	平均壽命
民國 95 年	77.90 歲
民國 96 年	78.38 歲
民國 97 年	78.57 歲
民國 98 年	79.01 歲
民國 99 年	79.18 歲
民國 100 年	79.15 歲
民國 101 年	79.51 歲
民國 102 年	80.02 歲
民國 103 年	79.84 歲
民國 104 年	80.20 歲
民國 105 年	80 歲

上圖為民國 95~105 年國民平均壽命統計表

**七、閱讀理解題：**每格2分、共16分

1. 「于婷利用週末到牧場遊玩，她和牧場的工作人員一起餵牛群吃草，也參觀了牧場內正在生產新鮮牛乳的鮮奶加工廠。」依上文判斷，于婷在牧場看到了哪些產業活動？在( )裡打√：

- ( )①農業      ( )②服務業  
 ( )③製造業    ( )④畜牧業

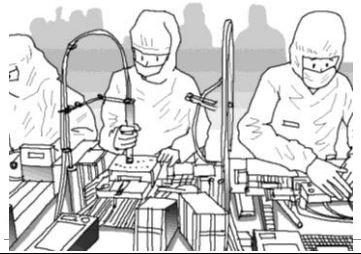



2. 「阿福是一位農夫，早上起床後會先到河邊取水，再帶著鋤頭到田地耕作。有一天，他不小心扭傷了腳，無法行走，於是拜託鄰居到隔壁村請推拿師到家中治療。經過針灸、服用煎煮的草藥後，已經可以自行行走。」依上文判斷，下列哪些是家鄉早期的生活方式？在( )裡打√：

- ( )①沒有自來水可用。  
 ( )②使用機器耕作。  
 ( )③利用電話或網路傳遞訊息。  
 ( )④病痛多靠民俗調理方法醫治。

**八、題組題：**每題3分，共12分

社會課時，陳老師請同學製作「家長職業統計表」，下列是育成這一組的統計結果：

請問家長的職業分別屬於第幾級產業？將答案圈起來。

同學	家長職業	產業類別
<u>鄭育成</u>		第一級產業 第二級產業 第三級產業
<u>李珊珊</u>		第一級產業 第二級產業 第三級產業
<u>張文心</u>		第一級產業 第二級產業 第三級產業
<u>郭彥伯</u>		第一級產業 第二級產業 第三級產業