

澎湖縣赤崁國小 109 學年度第 1 學期 數學科期末評量試卷 年 班 座號： 姓名：

一、計算題：每題 4 分，共 20 分

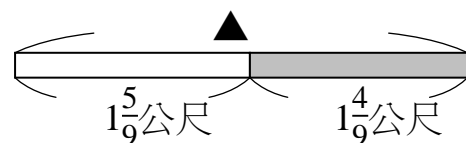
1. 2 公升 8 毫升 - 1 公升 250 毫升 = () 毫升

2. $3.45 - 1.5 =$

3. 100 公斤 - 68 公克 = () 公斤 () 公克

4. $4\frac{4}{7} - 1\frac{6}{7} =$ (請把假分數換成整數或帶分數)

5. 請算出「▲」是多少公尺。(請把假分數換成整數或帶分數)



二、填填看：每個答案 3 分，共 18 分

1. 把整數或帶分數換成假分數。

(1) $5 = \frac{(\quad)}{6}$ (2) $2\frac{1}{7} = (\quad)$

(3) $4\frac{3}{5} = (\quad)$ (4) $7\frac{4}{7} = (\quad)$

(5) $6\frac{1}{8} = (\quad)$

2. 請問下列兩個算式的答案是否相同？()

① $517 - (84 + 32)$ ② $(517 - 84) + 32$

三、在□裡填入 >、< 或 =：每題 2 分，共 18 分

(1) $4\frac{12}{13} \square 2\frac{12}{13}$

(2) 21 公尺 30 公分 \square 21.3 公尺

(3) 2 公斤 450 公克 - 500 公克 \square 1 公斤 950 公克

(4) 0.45 \square 0.54

(5) 0.16 \square 0.2

(6) 6.303 \square 6.30

(7) 0.99 \square 1

(8) 6 個 0.1 和 15 個 0.01 \square 7 個 0.1 和 5 個 0.01

(9) 3 個 0.1 和 3 個 0.01 \square 13.3

四、連連看：(每條線 2 分，共 18 分)

1. 一張壁報紙平分成 8 份。塗色部分是多少張？

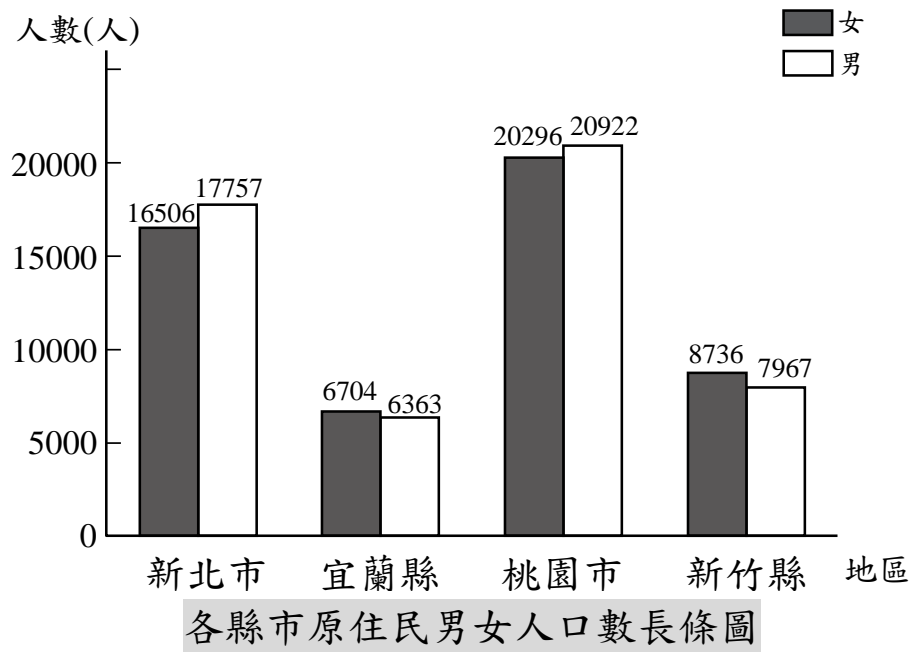
(1)		•	$\frac{12}{8}$ 張
(2)		•	$\frac{11}{8}$ 張
(3)		•	$2\frac{5}{8}$ 張
(4)		•	$\frac{8}{8}$ 張
(5)		•	$\frac{16}{8}$ 張

2. 將正確的讀法和記法連起來。

30.03	•	•	三點三
3.03	•	•	三十三點三
33.3	•	•	三點零三
3.3	•	•	三十點零三

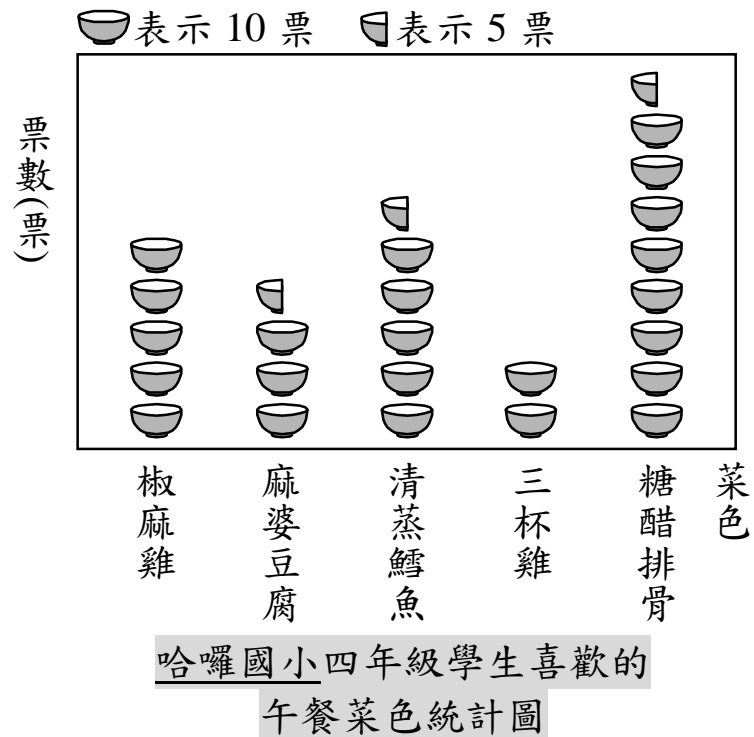
五、看圖回答問題：每個答案2分，共26分

1. 下圖是各縣市原住民男女人口數長條圖。



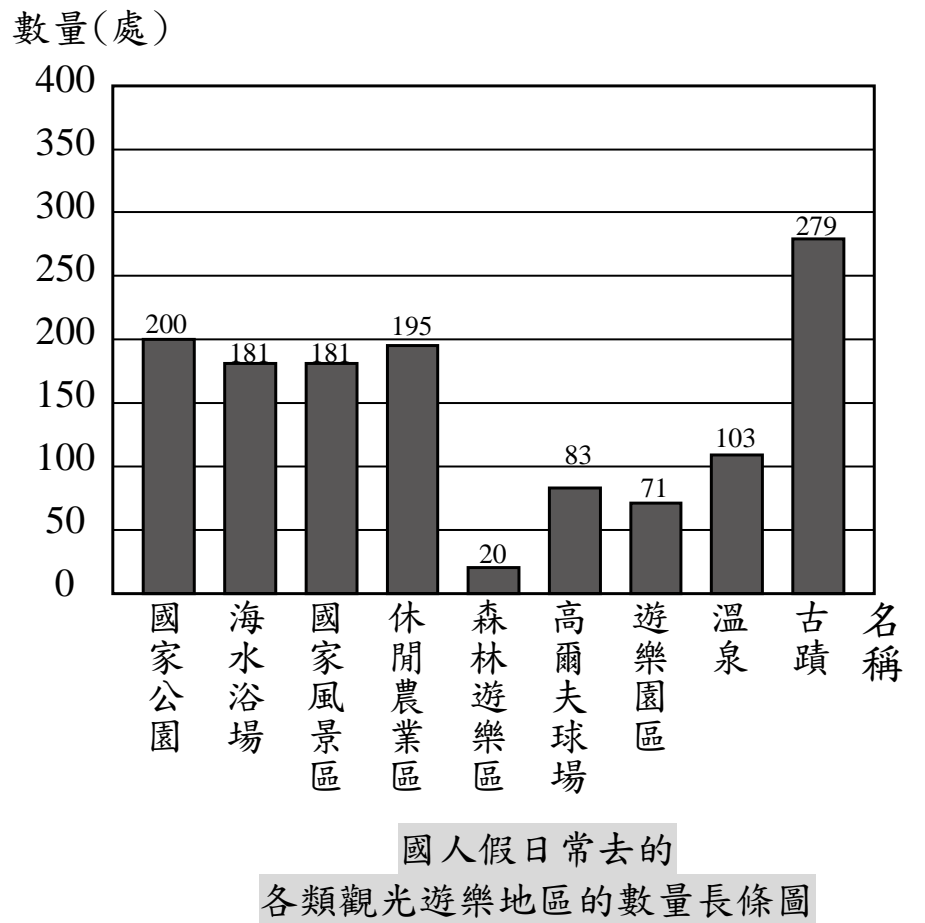
- (1) 女性原住民人口數最多是在()，最少是在()。
- (2) 男性原住民人口數最多是在()，最少是在()。
- (3) 哪個地區的男、女性原住民人口數相差最多？()

2. 下圖是哈囉國小四年級學生喜歡的午餐菜色統計圖。(一人投1票)



- (1) 喜歡吃清蒸鱈魚的有()人。
- (2) 喜歡吃椒麻雞和麻婆豆腐的共有()人。
- (3) 最多人喜歡的菜色是()。
- (4) 最多人喜歡的菜色和最多人喜歡的菜色相差()票。

3. 下圖是某年國人假日常去的各類觀光遊樂地區的數量長條圖。



- (1) 縱軸代表什麼？()
- (2) 高爾夫球場和遊樂園區相差多少處？()處
- (3) 哪幾類國人常去的觀光遊樂地區數量超過 200 處？()
- (4) 哪幾類觀光遊樂地區數量不到 80 處？()