

二年級 姓名：\_\_\_\_\_ 得分：\_\_\_\_\_ 家長簽名：\_\_\_\_\_


一、完成下面各題的乘法表。 8%

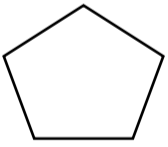
- |                          |                          |
|--------------------------|--------------------------|
| 1.                       | 2.                       |
| $4 \times 3 = ( \quad )$ | $6 \times 6 = ( \quad )$ |
| $7 \times 4 = ( \quad )$ | $8 \times 7 = ( \quad )$ |
| $7 \times 7 = ( \quad )$ | $9 \times 8 = ( \quad )$ |
| $7 \times 6 = ( \quad )$ | $5 \times 9 = ( \quad )$ |

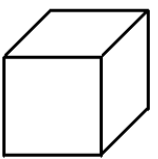
二、填填看看。 7%

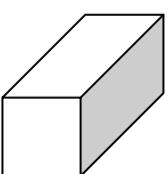
- 「 $3 \times 7$ 」比「 $3 \times 9$ 」少( )。
- 「 $9 \times 8$ 」比「 $9 \times 6$ 」多( )。
- 「 $6 \times 3$ 」比「 $6 \times 4$ 」少( )。
- 「 $7 \times 7$ 」比「 $7 \times 9$ 」少( )個7，也就( )是少( )。
- 「3的7倍」比「3的5倍」多( )個3，也就( )是多了( )。

三、看圖填一填。 16%

- 

左邊的圖形有( )條邊、( )個角和( )個頂點。
- 

左邊的圖形有( )條邊、( )個角和( )個頂點。
- 

左圖是( )體，它有( )個面，每個面都是( )形。有( )個頂點和( )條邊。
- 

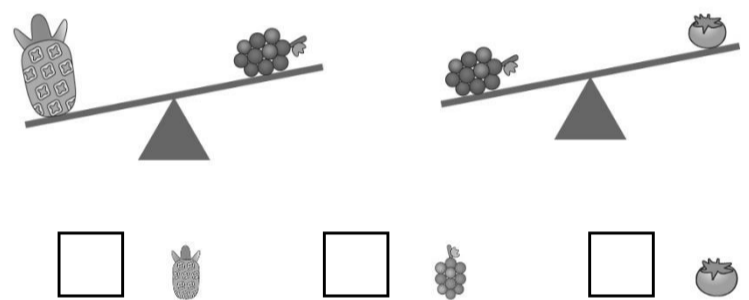
左圖是( )體，它有( )個正方形的面和( )個長方形的面。有( )個頂點和( )條邊。

四、對的畫○，錯的打×。 10%

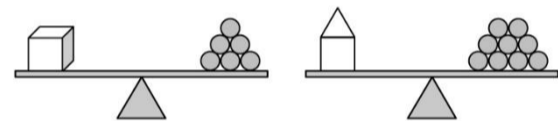
- ( ) 1. 長方形有2組一樣長的邊。
- ( ) 2. 長方形的4條邊都一樣長。
- ( ) 3. 正方體有6個面，每個面一定是正方形。
- ( ) 4. 長方體有6個面，每個面不一定是長方形。
- ( ) 5. 正三角形的3條邊都一樣長。

五、看圖比一比。 7%

1. 最重的打√。

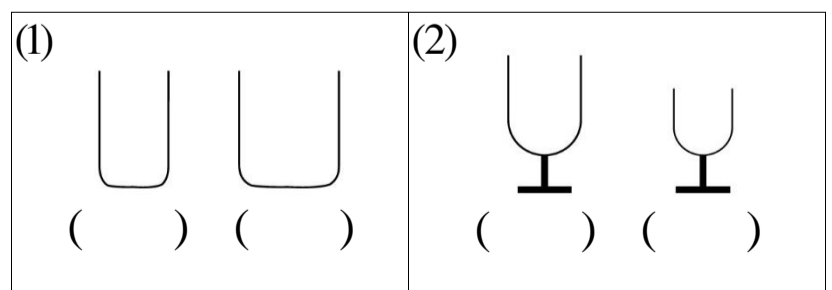


2.



- ( ) 一個( )和( )個( )一樣重。
- ( ) 一個( )和( )個( )一樣重。
- ( ) 一個( )和( )一個( )，哪一個比較重？  
( ) ( )
- ( ) 一個( )再加( )個( )，才會和( )一個( )一樣重。

3. 容量比較大的打√。



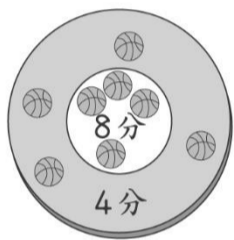
背面還有題目喔!

六、用連加算式計算。8%

- 一盒水果禮盒有6顆水蜜桃，7盒有幾顆水蜜桃？
- 一包餅乾有9片，7包餅乾一共有幾片餅乾？

七、寫出乘法算式計算。28%

- 下面是小新丟球的結果，算算看，丟中4分的球共得幾分？丟中8分的球共得幾分？



丟中4分的得( )分  
丟中8分的得( )分

- 羚羊跳一次是4公尺，跳7次是跳了多少公尺？

- 妮妮今年5歲，爸爸的年齡是他的6倍，爸爸今年幾歲？

- 一節雲霄飛車可以坐6人，9節可以坐幾人？

- 一盒巧克力有5個，7盒有幾個巧克力？

- 一盒果凍有4個，9盒有幾個果凍？

- 弟弟一天練習寫3張書法，一星期一共寫了幾張書法？

八、把做法和答案記下來。12%

- 一本筆記本39元，一個鉛筆盒比一本筆記本貴13元，買一本筆記本和一個鉛筆盒共要多少元？

- 風間有37張圓形貼紙和48張方形貼紙，送給阿呆29張後，還剩下幾張貼紙？

- 哥哥身上有97元，買了一杯25元的紅茶和一顆13元的茶葉蛋後，還剩下多少元？

九、用乘法算式編數學題目。4%

我的數學題目的算式是：

( ) × ( ) = ( )

問題

寫完記得檢查喔！